



T.C. Ölçme, Seçme ve Yerleştirme Merkezi

**KAMU PERSONEL SEÇME SINAVI
A GRUBU VE ÖĞRETMENLİK**

**GENEL YETENEK TESTİ
GENEL KÜLTÜR TESTİ**

**21 MAYIS 2017
PAZAR SABAH OTURUMU (PS)**

Bu testlerin her hakkı saklıdır. Hangi amaçla olursa olsun, testlerin tamamının veya bir kısmının Merkezimizin yazılı izni olmadan kopya edilmesi, fotoğrafının çekilmesi, herhangi bir yolla çoğaltılması, yayımlanması ya da kullanılması yasaktır. Bu yasağa uymayanlar gerekli cezai sorumluluğu ve testlerin hazırlanmasındaki mali külfeti peşinen kabullenmiş sayılır.

AÇIKLAMA

1. Bu kitapçıkta Kamu Personel Seçme Sınavı **Genel Yetenek Testi** ve **Genel Kültür Testi** bulunmaktadır.
2. Genel Yetenek Testi ve Genel Kültür Testi'nin her birinde **60 soru** vardır.
3. **Bu testler için verilen toplam cevaplama süresi 130 dakikadır (2 saat, 10 dakika).**
4. Bu kitapçığındaki testlerde yer alan her sorunun sadece bir doğru cevabı vardır. Bir soru için birden çok cevap yeri işaretlenmişse o soru yanlış cevaplanmış sayılacaktır.
5. İşaretlediğiniz bir cevabı değiştirmek istediğinizde, silme işlemini çok iyi yapmanız gerektiğini unutmayınız.
6. **Bu testler puanlanırken her testteki doğru cevaplarınızın sayısından yanlış cevaplarınızın sayısının dörtte biri çıkarılacak ve kalan sayı o bölümle ilgili ham puanınız olacaktır.**
7. Cevaplamaya istediğiniz sorudan başlayabilirsiniz. Bir soru ile ilgili cevabınızı, cevap kâğıdında o soru için ayrılmış olan yere işaretlemeyi unutmayınız.
8. Sınavda uyulacak diğer kurallar bu kitapçığın arka kapağında belirtilmiştir.



1. Bu testte 60 soru vardır.

2. Cevaplarınızı, cevap kâğıdının Genel Yetenek Testi için ayrılan kısmına işaretleyiniz.

1. İnsan, doğası gereği kendi eksikliklerini, zayıflıklarını görmez; görse de bunları tarafsız bir şekilde değerlendiremez. Ancak aynı kusurları başka birinde fark edince o kişiyi hemen yargılar. Oysa insanın başkalarını doğrudan yargılamaması gerekir. Çünkü hakikat aynası kendine tutulduğunda zor durumda kalabilir.

Bu parçada anlatılmak istenen düşünceyle aşağıdaki atasözlerinden hangisi anlamca örtüşmektedir?

- A) El için kuyu kazan, kuyuya evvela kendi düşer.
B) Elin ağzı torba değil ki büzesin.
C) Komşunun tavuğu, komşuya kaz görünür.
D) Damdan düşen, damdan düşenin hâlini bilir.
E) Sırça köşkte oturan, komşusuna taş atmamalı.

DOĞRU CEVAP: E

2.





3.

4. (I) Türkiye’de, Türk-İslam Dönemi kültür mirasının toplum tarafından daha kolay benimsendiği ve iyi korunduğu, Bizans Dönemi kültür mirasının ise bu koruma şemsiyesine daha zor dâhil edildiği görülmektedir. (II) Çeşitli araştırmacıların da dile getirdiği gibi kendini bir mekân, gelenek veya inançla özdeşleştirebilmek kültürel kimliğin oluşmasında önemli bir rol oynamaktadır. (III) Toplum, yakın dönem millî tarih veya ortak bir dinle bağlantılı olarak oluşturduğu kültürel kimliğiyle ilişkili mirası daha kolay sahiplenebilmektedir. (IV) Buna karşılık, toplumun güncel sosyokültürel yapısıyla bağdaşmayan dönemlerin anlaşılması ve benimsenmesi daha zordur. (V) Geçmişin, oluşturulan geçerli kültürel kimlikle ve yapıyla uzak düşen dönemleri toplumun bireyleri için genellikle bir anlam ifade etmemektedir. (VI) Bu gibi durumlarda toplum, geçerli kimlik ve yapısıyla doğrudan ilişkilendiremediği kültürel mirasa yanlı davranmakta ve hak ettiği değeri vermemektedir.

Bu parçada numaralanmış cümlelerin hangisinde I. cümlede ifade edilen durumun nedeni belirtilmemiştir?

- A) II B) III C) IV D) V E) VI

DOĞRU CEVAP: A

5.





6.

8. Genç iş adamı Georg Bendemin, bir ilkbahar sabahında, görece aydınlık ve insana umut veren bir ortamda çalışma odasındaki masasına oturur. Rusya'nın en önemli kültür şehirlerinden biri olan Petersburg'da yaşayan eski bir çocukluk arkadaşına oyunsu bir yavaşlıkla mektup yazar. Arkadaşı, yıllar önce büyük umutlarla evinden kaçıp Rusya'ya gitmiştir ancak yalnız ve hüzünlü bir yaşam sürmektedir. Kendisinin işleriye oldukça iyi gitmektedir. Mesela iki yıl kadar önce babasından yönetimini devraldığı kundura mağazası umut vaat etmektedir. Bu arada Georg bir de nişanlanmış, zaten mektubu da bu arkadaşını düşününe davet etmek için yazmıştır.

Bu parçanın anlatımında aşağıdakilerden hangisi yoktur?

- A) Betimleme B) Öyküleme C) Karşılaştırma
D) Örneklendirme E) Tanımlama

DOĞRU CEVAP: E

7.

9.





10.

12.

11.

13. ALS hastalığının yanlış katlanmış proteinlerin

kümelenip birikmesiyle ilişkisi olduğu biliniyordu.

Yeni bir araştırmada, bu sürecin bağırsak bakterileri

tarafından üretilen proteinlerle başlama ihtimali

üzerinde duruldu. Bağırsak bakterilerinin ürettiği

amiloid proteininin incelendiği araştırmalarda,

bunun yapısal anlamda beyindeki sorunlu

proteinlere çok benzediği fark edildi.

Bu parçadaki altı çizili sözcüklerin hangileri niteleme görevinde kullanılmamıştır?

A) I ve II

B) I ve III

C) II ve V

D) III ve IV

E) IV ve V

DOĞRU CEVAP: C





14.

16.

15. Nobel ödülü alan kişi veya kuruluşlara "Nobel laureate" denir. Buradaki "laureate", Antik Yunan'da atletik müsabakalar ve şiir yarışmalarında zafer kazananlara onur nişanesi olarak verilen "laurel wreath" sözlerinden gelir. Bu sözler ise mitolojide Apollon'un başında taşıdığı bir tacı ifade eder.

Bu parçadan hareketle aşağıdakilerin hangisine ulaşılabilir?

- A) Eski Yunan mitolojisinin Nobel ödüllerini şekillendirdiğine
- B) Farklı dönem ve kültürlerde başarılı kişilere unvan verildiğine
- C) Tarihî süreç içerisinde ödül verilen alanların benzerlik gösterdiğine
- D) Sanat alanında eser veren kişilerin hatırlanmasının istendiğine
- E) Eski dönemde kullanılan sözlerin günümüzde işlevini yitirdiğine

DOĞRU CEVAP: B

17.






18. Seyahat edenleri ikiye ayırıyorum: Gittiği valizle dönen “kibarlar” ve yolda ne gördüyse alıp getiren “salkım saçaklar”. Ben hep bu ikinciler arasında yer aldım. Yurt dışı gezilerinden yalnızca bir iki kozmetik ürünle dönen kibarlara daima gıpta etmişimdir. Çünkü ben, bir yandan peynir paketini sırt çantama tikiştirirken diğer yandan cebimdeki son parayla aldığım taze makarnalarla mantar soslarını nereye koysam acaba diye düşünürüm. Bagaja verdiğim valiz ise zaten patlayacak hâldedir.

Bu parçanın yazarıyla ilgili olarak aşağıdakilerden hangisi söylenemez?

- A) Başkalarının davranışlarına özendiği
- B) İmkânlarını zorlayacak şekilde eşya aldığı
- C) Yaşadığı yerden başka mekânlara gittiği
- D) Çevresindeki insanları gözlemlediği
- E) Yeni yerleri keşfetmekten keyif aldığı

DOĞRU CEVAP: E

19.





2017-KPSS/GY-PS

20 - 21. soruları aşağıdaki parçaya göre cevaplayınız.

21.

20.

ÖSYM





2017-KPSS/GY-PS

22 - 23. soruları aşağıdaki parçaya göre cevaplayınız.

22.

23.



2017-KPSS/GY-PS

24 - 26. soruları aşağıdaki parçaya göre cevaplayınız.

25.

26.

24.



2017-KPSS/GY-PS

27 - 30. soruları aşağıdaki bilgilere göre birbirinden bağımsız olarak cevaplayınız.

29.

27.

30.

28.



31.

33.

32.

$$\frac{20^3 + 17^3}{20 + 17} - 20 \cdot 17$$

işleminin sonucu kaçtır?

- A) 4 B) 9 C) 12 D) 16 E) 20

DOĞRU CEVAP: B

34.



35.

37.

36.

$$38. \frac{1}{\sqrt{x} + \sqrt{y}} \cdot \frac{x-y}{x\sqrt{y} - y\sqrt{x}} = \frac{1}{2}$$

olduđuna gore, $x \cdot y$ arpımı katır ?

- A) 1 B) 3 C) 4 D) 6 E) 8

DOĐRU CEVAP: C

39.

40. a ve b gerçel sayıları için

$$a \cdot b^2 < a^2 \cdot b < 0$$

eşitsizlikleri veriliyor.

Buna göre,

I. $a - b > 0$

II. $a + b > 0$

III. $a \cdot b > 1$

ifadelerinden hangileri her zaman doğrudur?

A) Yalnız I B) Yalnız II C) Yalnız III

D) I ve II

E) I ve III

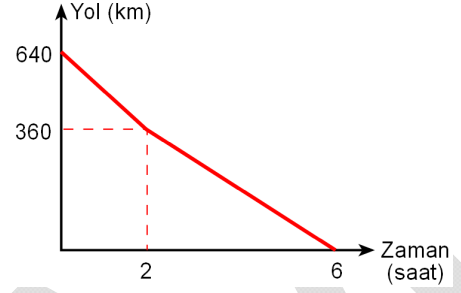
DOĞRU CEVAP: A

41.

42.

43.

45. Aşağıdaki grafikte birbirine doğru hareket eden A ve B araçlarının aralarındaki mesafenin zamana göre değişimi gösterilmiştir.



Bu iki araç 2 saat sabit hızlarla hareket ettikten sonra A aracı hızını değiştirmeden, B aracı ise hızını yarıya düşürerek yoluna devam ediyor.

Buna göre, A aracının yol boyunca saatteki hızı kaç kilometredir?

- A) 60 B) 55 C) 50 D) 45 E) 40

DOĞRU CEVAP: E

44.



46.

48. Emir ile babası arasındaki yaş farkı, Emir'in dedesi ile babası arasındaki yaş farkından bir fazladır.

Emir 20 yaşındayken Emir'in dedesi 69 yaşında olduğuna göre, Emir ile babası arasındaki yaş farkı kaçtır?

A) 20 B) 23 C) 25 D) 28 E) 30

DOĞRU CEVAP: C

47.

49.



50.

52.

51.



2017-KPSS/GY-PS

53 - 54. soruları aşağıdaki bilgilere göre birbirinden bağımsız olarak cevaplayınız.

53.

54.



2017-KPSS/GY-PS

55 - 57. soruları aşağıdaki bilgilere göre birbirinden bağımsız olarak cevaplayınız.

56.

55.

57.

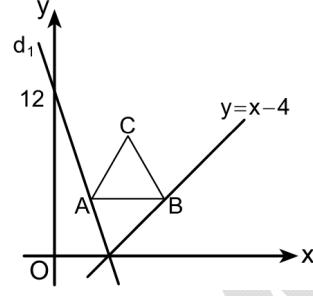


2017-KPSS/GY-PS

58.

59.

60.



Yukarıdaki şekilde AB kenarı x eksenine paralel olan ABC eşkenar üçgeninin A ve B köşeleri sırasıyla d_1 ve $y = x - 4$ doğruları üzerindedir. Bu doğrular x ekseninde kesişmekte ve d_1 doğrusu $(0, 12)$ noktasından geçmektedir.

B köşesinin apsisi 8 olduğuna göre, ABC eşkenar üçgeninin çevresi kaç birimdir?

- A) 12 B) 15 C) 16 D) 20 E) 24

DOĞRU CEVAP: C





1. Bu testte 60 soru vardır.

2. Cevaplarınızı, cevap kâğıdının Genel Kültür Testi için ayrılan kısmına işaretleyiniz.

1. Türk töresinde devleti kuran hanedanın erkek üyeleri devlet yönetiminde ortak hak sahibiydi.

Bu durumun aşağıdakilerden hangisine yol açtığı savunulamaz?

- A) Hatunların ülke idaresine karışmasına
- B) Dinî ayaklanmaların çıkmasına
- C) Ülkenin parçalanmasına
- D) Taht kavgalarının yaşanmasına
- E) Üst düzey yöneticilerin, devlet yönetimine müdahalede bulunmasına

DOĞRU CEVAP: B

2.

3.

4.



5.

7.

6.

8. Osmanlı Devleti'nde XVII. yüzyılda timar sisteminin bozulmasına bağlı olarak aşağıdaki gelişmelerden hangisinin meydana geldiği söylenebilir?

- A) Yeniçeri sayısının azaldığı
- B) Ekberiyet usulüne geçildiği
- C) Tarımsal ürün çeşitliliğinin arttığı
- D) Müsadere uygulamasının genişlediği
- E) İltizam sisteminin yaygınlaştığı

DOĞRU CEVAP: E





9.

11.

10.

12.

ÖSYM





13.

14. Mustafa Kemal'in, Anadolu'da millî bir hareket başlatma çabası, hem işgal kuvvetlerini hem de İstanbul Hükûmetini tedirgin etmiştir. İstanbul Hükûmetinin geri dön çağrılarına uymadığı için görevinden azledilen Mustafa Kemal, askerlikten ve tüm görevlerinden istifa etmiştir.

Mustafa Kemal'in gösterdiği bu tutumdan hareketle aşağıdakilerden hangisine ulaşamaz?

- A) Mücadele konusunda İstanbul'daki bazı çevrelerden farklı düşündüğüne
- B) Mondros Mütarekesi'nin koşullarını hafifletmek istediğine
- C) Anadolu merkezli bir direniş oluşturmak düşüncesinde olduğuna
- D) Herhangi bir makam ve mevki peşinde koşmadığına
- E) İşgal kuvvetlerinin beklentilerinin dışına çıktığına

DOĞRU CEVAP: B

15.

16.





17.

18.

19.

ÖSYM





2017-KPSS/GK-PS

20. Aşağıda Mustafa Kemal'in farklı iki dönemde attığı imza örnekleri verilmiştir.



Önceki İmza

Sonraki İmza

Mustafa Kemal'in imzasını bu şekilde değiştirmesinde etkili olan gelişme aşağıdakilerden hangisidir?

- A) Latin harfli Türk Alfabesi'nin kabul edilmesi
- B) Laiklik ilkesinin anayasaya girmesi
- C) TBMM tarafından kendisine Gazi unvanı verilmesi
- D) Türk Dil Kurumunun açılması
- E) TBMM tarafından kendisine bir soyadı verilmesi

DOĞRU CEVAP: E

21.

22.

23.





24.

26.

25.

27. 1992-1995 yıllarındaki Bosna Savaşı sırasında Bosna-Hersek'in bağımsızlığını kazanmasında önemli rolü bulunan ve "Bilge Lider" olarak bilinen devlet başkanı, aşağıdakilerden hangisidir?

- A) Ebulfeyz Elçibey
- B) Enver Hoca
- C) Sadık Ahmet
- D) Aliya İzzetbegoviç
- E) Saparmurad Niyazov

DOĞRU CEVAP: D

28.





29.

32.

30. I. Kızılcam - Akdeniz İklimi
II. Sedir - Karasal İklim
III. Kayın - Karadeniz İklimi

Türkiye'nin coğrafi özellikleri dikkate alındığında, yukarıdaki ağaç türleri ile yaygın olarak görüldüğü iklim tipi eşleştirmelerinden hangileri yanlıştır?

- A) Yalnız I B) Yalnız II C) Yalnız III
D) I ve II E) II ve III

DOĞRU CEVAP: B

31.

33.





34.

36.

35.

38.

37.





39.

40. Aşağıdaki illerin coğrafi özellikleri dikkate alındığında hangisinde jeotermal enerji potansiyeli daha düşüktür?

- A) Denizli B) Çanakkale C) Aydın
D) Antalya E) Manisa

DOĞRU CEVAP: D

41.

42.

43. I. En uzun kara sınırını oluşturur.
II. Belirlenen en eski sınırdır.
III. Büyük kısmı su bölümü çizgilerinden geçer.

Türkiye'nin sınır özellikleri dikkate alındığında, yukarıdakilerden hangileri Türkiye-İran sınırına aittir?

- A) Yalnız I B) Yalnız II C) Yalnız III
D) I ve II E) II ve III

DOĞRU CEVAP: E

44. Türkiye'nin çoğu ilinde, o il ile özdeşleşmiş tarihî ve coğrafi mekânlar önemli bir turizm potansiyeli oluşturmaktadır.

Buna göre aşağıdaki turistik mekân ve bulunduğu il eşleştirmelerinden hangisi yanlıştır?

- A) Ahlat Kümbetleri - Bitlis
B) Balıklı Göl - Adıyaman
C) İnce Minare Medresesi - Konya
D) Selimiye Camii - Edirne
E) Ani Harabeleri - Kars

DOĞRU CEVAP: B





45.

48. Türk hukukuna göre aşağıdakilerden hangisi kanuni hâkim güvencesini ifade eder?

- A) Kimse, işlendiği zaman yürürlükte bulunan kanunun suç saymadığı bir fiilden dolayı cezalandırılmaz.
- B) Kimseye, suçu işlediği zaman kanunda o suç için konulmuş olan cezadan daha ağır bir ceza verilemez.
- C) Kimse, kendisini ve kanunda gösterilen yakınlarını suçlayan bir beyanda bulunmaya veya bu yolda delil göstermeye zorlanamaz.
- D) Kanuna aykırı olarak elde edilmiş bulgular, delil olarak kabul edilemez.
- E) Kimse, kanunen tabi olduğu mahkemeden başka bir merci önüne çıkarılamaz.

46.

DOĞRU CEVAP: E

49.

47.





50.

53. Türk hukukunda, kanunlara aykırı olmamak ve Danıştay incelemesinden geçirilmek şartıyla, bir kanunun uygulanmasını göstermek veya emrettiği işleri belirtmek üzere çıkarılan hukuki metin aşağıdakilerden hangisidir?

- A) Tüzük
B) Yönetmelik
C) Sirküler
D) Genelge
E) Statü

DOĞRU CEVAP: A

51.

54.

52.

55.





2017-KPSS/GK-PS

56.

57. 20 Temmuz 1974 tarihinde başlayan Kıbrıs Barış Harekâtı sırasında Türkiye Cumhuriyeti Başbakanlığı görevini yürüten devlet adamı aşağıdakilerden hangisidir?

- A) Ferit Melen B) Süleyman Demirel
C) Nihat Erim D) Bülent Ecevit
E) Necmettin Erbakan

DOĞRU CEVAP: D

58.

59.

60.

