

GENEL YETENEK VE GENEL KÜLTÜR TESTİ

SAYIŞTAY / 2006

1. Felsefenin geliştirdiği kuşkuculuk, bilimsel düşüncenin, yenilikçi buluşların ---- oluşturmaktadır. Eleştirel, sorgulayıcı, çözümleyici düşüncenin ---- kazandığı dönemlerde, bilimsel üretim ve aydınlanmacı gelişmelerin ---- açılmıştır.

Bu parçada boş bırakılan yerlere sırasıyla aşağıdakilerden hangisinin getirilmesi uygun olur?

- A) özünü – değer – kitabı
B) yapısını – saygı – cephesi
C) desteğini – kıymet – yolu
D) tabanını – biçim – ilerişi
E) temelini – önem – özü

2. Kimi insanlar vardır ki görüşleri, birikimleri birbirine benzediği için birbirleriyle söyleşmenin tadına doymazlar. Kimi çiğ insanlar da vardır ki, konuşmalarıyla karşısındakini, orada olduğuna da ağzını açtığına da pişman eder.

Bu parçada geçen “çiğ insan” sözüyle anlatılmak istenen aşağıdakilerden hangisidir?

- A) Yaşının gerektirdiği bilgiye, görgüye ve olgunluğa erişmemiş olan
B) Konudan konuya atlayarak insanların ilgisini dağıtan
C) Özgün düşünceleriyle çevresindekilerden ayrılan
D) Kendisiyle ilgili öz eleştiri yapmadan başkasını küçümseyip tersleyen
E) Söyledikleriyle yaptıkları birbirine ters düşen

3. (I) Tarih boyunca nice uygarlığa ev sahipliği yapmış Anadolu'nun her köşesi bir kültür hazinesi. (II) Bizler, bu toprakların binlerce yıl öncesine dayanan geçmişi arkeolojik çalışmalar sayesinde öğreniyoruz. (III) Neler çıkmıyor ki toprak ananın derinliklerinden... (IV) Müze vitrinlerinde gördüklerinizi anımsayın: heykeller, sikkeler, mozaikler, çömlekler, seramikler, süs eşyaları... (V) Bütün bu değerler ışığında geçmiş uygarlıkların yaşam biçimleri, kültürleri, ekonomik ve sosyal durumları gözler önüne seriliyor.

Bu parçadaki numaralanmış cümlelerin hangilerinde arkeolojik kalıntıların yararından söz edilmektedir?

- A) I. ve II. B) I. ve V. C) II. ve V.
D) III. ve IV. E) IV. ve V.

4. (I) Ayvalık çarşısında her perşembe pazar kurulur. (II) Neredeyse tüm yazlıkçılar bu pazara uğramadan edemez. (III) Ürün çeşitliliğinin, sebze-meyve tazeliğinin ötesinde satıcı-alıcı iletişimindeki içtenliktir belki de onu çekici kılan. (IV) Bu rahatlık ve konukseverlik, çarşıdaki Midilli adasında yaşayan komşuları da Ayvalık pazarına çekmektedir. (V) O gün Ayvalık'a tekneler dolusu konuk gelir; özgürce dolaşır, çekincesizce alışverişlerini yapar.

Bu parçadaki numaralanmış cümlelerin hangisiyle ilgili açıklama yanlıştır?

- A) I. cümlede, düzenli olarak yapılan bir işten söz edilmektedir.
B) II. cümlede, bir grup insanın olumsuz tutumları sergilenmektedir.
C) III. cümlede, bir tahminden söz edilmektedir.
D) IV. cümlede, bir neden açıklanmaktadır.
E) V. cümlede, eylemler oluş sırasına göre verilmektedir.

Diğer sayfaya geçiniz.

5. Aşağıdaki cümlelerin hangisinde bir yazım yanlışı vardır?

- A) Son dakikaya kadar belki gelirsin diye bekledim.
 B) Bizimle sen de gelir misin, diye sordu.
 C) Onun arabası tamirde, benimkiyle gidebiliriz.
 D) Öyle yorulmuşki ancak iki günde dинlenebildi.
 E) Zor günlerimde de beni hiç yalnız bırakmadın, dedi.

6. O yıllarda, bahar gelince boyacılar, badanaacılar işe koyulur (;) kasabamızdaki bu tek sinemanın bahçe duvarlarını, sandalyelerini göz alıcı renklerle boyarlardı. "Kahve tipi" denilen bu sandalyeler maviye boyanırdı. Sandalyeler sahnenin önüne dizilir (,) aralarına bir kalas geçirilerek sabitleştirilirdi. Mavi sandalyelerden oluşan bu on sıralık bölüm (:) birinci mevki diye anılan en ucuz yerdi. Arka sıralar da tahtadan yapılmıştı (;) ama koltuk biçiminde, renk renkti. "Lüks mevki" ya da "koltuk" denilen bu sıralar (,) birinci mevkiden pahalıydı.

Bu parçadaki numaralanmış noktalama işaretlerinden hangisi yerinde kullanılmamıştır?

- A) I. B) II. C) III. D) IV. E) V.

7. Pul koleksiyonu yaparken güzel bir koleksiyonun yanı sıra geniş bir bilgi birikimine de sahip oluyorsunuz.

Örneğin bir pulda Einstein'ın resmi var diyelim. "Bu kim?" diye merak edip araştırdığınızda onunla ilgili birçok bilgi ediniyorsunuz.

Yukarıdaki numaralanmış sözlerden hangisi anlam bozukluğuna neden olmaktadır?

- A) I. B) II. C) III. D) IV. E) V.

8. Uzun yıllardır Ankara'ya gelmediğini, bu süre içinde Ankara'da çok büyük gelişme ve değişmeler olduğunu söyledi.

Bu cümledeki numaralanmış sözlerden hangisi çıkarılırsa cümlenin anlamında daralma olmaz?

- A) I. B) II. C) III. D) IV. E) V.

9. Avrupa ülkelerinde insanların yere tükürmemesini, atık cam ve kâğıtların tekrar üretime kazandırılmasını, zehirli suların nehirlerle denetimsizce akıtılmasını, doğada azalan bitki ve hayvan türlerine özel bir ilgi gösterilmesini ve çevre bilincinin böylesine gelişmiş olmasını hayranlıkla izleriz. Bunu nasıl başarmıştır Avrupa, diye düşünürüz. Bu konudaki açıklamalardan biri şöyledir: Bir ülkenin kişi başına düşen geliri arttıkça çevresel kalite belirli bir noktaya kadar bozulur. Ama o noktadan sonra gelir artışına paralel olarak gelişen eğitimle bilinç düzeyi de yükselir. Böylece alınan eğitimle çevre bilinci kazandırılıp pekiştirilerek bütün bozukluklar giderilir.

Bu parçaya göre, çevre bilincinin kazanılması neye bağlıdır?

- A) Gelişmiş ülkelerin örnek alınmasına
 B) Maddi olanakların en iyi biçimde değerlendirilmesine
 C) Bozulan çevresel düzenin yeniden sağlanmasına
 D) Yeterli sayıda bilimsel araştırma yapılmasına
 E) Belli bir düzeye ulaşmış yaşam ve eğitim kalitesine

Diğer sayfaya geçiniz.

10. Ben her yerde şunu söylerim: Şiir yazarken bir sözcük, rastgele kullanılmış bir başka sözcüğün yanında durmaz, kaçır. Bunu yazdığım her şiirde gördüm. Diyeceksiniz ki olur mu, kâğıdın üzerindeki sözcük nasıl kaçır? Kaçar; çünkü şiirin genel yapısının en küçük bölümünü sözcükler oluşturur. Sözcükleri dinlemezsek, onların kendi aralarında anlaşmalarını sağlamazsak yazdığımız şiir olmaz.

Bu parçada şair, başarılı şiirin sözcükleriyle ilgili olarak aşağıdakilerden hangisi üzerinde durmaktadır?

- A) Yapısal özelliklerine dikkat etmek gerektiği
B) Yeni türetilmiş sözcüklerden mümkün olduğunca kaçınmak gerektiği
C) Anlamsal değişimlerini bilmenin önemi
D) Sözcüklerin birbirleriyle uyumunun önemli olduğu
E) Yorumla açık olmayacak biçimde kullanılmasının gerekliliği

11. 19. yüzyıl sonlarında ve 20. yüzyılda, resimde, kimi sanatçılar önemli dönüşümlere yol açmışlardır. Önde gelen bu sanatçıların gerçekçi bir yaklaşımla çalıştıkları, kurallara uygun resimler yaptıkları; daha sonraya "kural dışı" düzenlemelere giriştikleri görülür. Soyut resmin önemli imzaları olan bu kişiler, önceleri figüratif resim yaparak bu resimlerle neyi soyutladıklarının ipuçlarını vermişlerdi. Soyut resme soyunan birçok yerli ve yabancı sanatçının bu işin üstesinden gelememesinin nedeni, belki de bu ipuçlarını ortaya koymadan bu işe kalkışmış olmalarıdır.

Bu parçada aşağıdakilerden hangisi vurgulanmaktadır?

- A) Resim sanatının belirli aşamalardan geçerek bugünkü düzeye ulaştığı
B) Soyut resmin başlangıcının 19. yüzyıla kadar uzandığı
C) Soyut resim yaparken öncelikle, neyin soyutlandığının bilinmesinin gerektiği
D) Soyut resmin anlaşılmasının kolay olmadığı
E) Birçok sanatçının soyut resimde başarılı olamadığı

12. Ara sokağın sonunda ince bir yokuş başlıyordu. Yokuşun düzensiz taşlarında iki boz köpek oynayıyordu. Eğri, karanlık bir evi çepeçevre kuşatan akşamsefaları alabildiğine açmış, esintisiz sokağı baygın kokusuyla doldurmuştu. Yokuştaki eski evleri, kapı önlerindeki çimenler ve sarmaşıklar güzelleştirmişti. Evlerin birinden bir kadın çıkarak alt kattaki bakkala girdi. Evden biri, "Tuz da al!" diye seslendi.

Bu parçanın anlatımıyla ilgili olarak aşağıdakilerden hangisi söylenemez?

- A) Görme duyusuyla algılanan ayrıntılardan yararlanılmıştır.
B) İnsana özgü nitelikler doğaya aktarılmıştır.
C) Betimleme yapılmıştır.
D) Küçük bir olaya yer verilmiştir.
E) Öznel düşüncelere yer verilmiştir.

13. Her topluluk ya da her dilde çocukla anne arasındaki ilk sesli iletişim ninniler aracılığıyla kuruluyor. Ninni söylemenin ilk gerekçesi çocuğun uyutulması olarak bilinse de aslında çocuğun sese duyarlılığı artırılıyor ve bu sayede dille tanışması sağlanıyor. Anne, bebeğiyle olan duygu bağı, kendisinin de farkında olmadığı bir yeteneği sayesinde, ninnideki sesiyle kurup pekiştiriyor. Ayrıca bebek, müzik dili ve sözlü kültürün temel öğeleriyle de tanışmış oluyor.

Bu parçada ninnilerle ilgili olarak aşağıdakilerden hangisine değinilmemiştir?

- A) Bir iletişim aracı niteliği taşıdığına
B) Hangi amaçla söylendiğine
C) Kimi kültürel öğelerin tanınmasını sağladığına
D) Anne ile bebek arasında nasıl bir ilişki kurulduğuna
E) Hangi konuların işlendiğine

14. Şiirde sözcük ekonomisinden ne anlıyorsak, ona titizlikle uyuyor şair; iş olsun diye değil, şiirin yolu o olduğu için yapıyor bunu. Kısa dizeleri içerik olarak altın değerinde, öylesine zengin ve etkileyici. İmgelerinin içi dopdoludur; felsefe ve yaşamla yüklü. Günlük yaşamla sarmaş dolaş bir söylemi, aşkla yoğurup önümüze koyuyor bütün şiirlerinde.

Bu parçada sözü edilen şairin şiirleriyle ilgili olarak aşağıdakilerden hangisine değinilmemiştir?

- A) Şiirin temel özelliğine bağlı kaldığına
- B) Yoğun bir anlatımı olduğuna
- C) Düşünsel öğelere yer verdiğine
- D) Gereksiz sözcüklere yer vermekten kaçındığına
- E) Konularıyla kalıcılık kazandığına

15. Topluluk karşısında konuşurken dik durun; ama sopa yutmuş gibi dimdik değil. Bakışlarınız zaman zaman salonun her tarafında gezinsin. Konuşurken aşırı el ve kol hareketlerinden sakının. Konuşmanızın önemli saydığınız yerlerinde duraklayın. Gerekliğinde gülümsemeyi unutmayın. Konuşmanızı, önem verdiğiniz bir yargıyla ya da uygun bir öyküyle bitirin. Gerek konuşmalarınızda gerek sorulara vereceğiniz yanıtlarda espri ya da atasözünü kullanmanın yararlı olacağını da anımsatmak isterim.

Bu parçada topluluk karşısında konuşmayla ilgili olarak aşağıdakilerin hangisine değinilmemiştir?

- A) Duruş ve bakışlarda dikkat edilecek noktaların neler olduğuna
- B) Vurgulanmak istenen düşünceler açıklanırken neler yapmak gerektiğine
- C) Nükteli ve özlü sözlerin dinleyiciler üzerinde olumlu etkiler uyandırdığına
- D) El ve kol hareketlerinin, söylenenlerin anlaşılmasına yardım ettiğine
- E) Bitirirken gözetilmesi gereken inceliklerin neler olduğuna

16. İlköğretim okullarının 5., 6., 7. sınıflarında okuyan öğrencilerin okuma alışkanlıklarını belirlemek amacıyla yapılan bir araştırmadan elde edilen sonuçlar şöyledir: Kız öğrencilerle erkek öğrenciler arasında okumayı sevme oranları bakımından belirgin bir fark yoktur. Öğrencilerin öykü ve roman türlerindeki kitapları daha çok okudukları, erkek öğrencilerin kızlara göre, çizgi romanlara daha çok ilgi duydukları görülmüştür. Kitap okuma alışkanlığı kazandırmaya, okul öncesi dönemde başlamanın gerekliliği üzerinde duran araştırmacılar, düzenlenecek kitap sergilerinin, fuarlarının, kütüphane gezilerinin, kitap okuma alışkanlığı kazandırmada etkili olacağını dile getirmektedir.

Bu parçadan okuma alışkanlığı kazanmayla ilgili olarak aşağıdakilerden hangisi çıkarılamaz?

- A) Özendirici etkinliklere gereksinme duyulduğu
- B) Ailelerin kültür düzeylerinin etkileyici olduğu
- C) Cinsiyetin belirleyici bir rol oynamadığı
- D) Hangi tür kitapların daha çok okunduğu
- E) Küçük yaşlarda başlanması gerektiği

17. Yazdığım öykülerin çoğunda tanık olduğum olayları anlattım. Bu tutumumun, öykü yazarlığında istenen bir tutum olmadığını biliyorum. Bu durumun yaşımın epeyce ilerlemiş olmasından kaynaklandığını sanıyorum. Öykücülüğümün temelini yaratıcılıktan çok, aktarmaya dayandığını biliyorum. Bu konuda dostlarımla uyarılarına hak versem de tersini yaptığımda beklentileri gerçekleştireceğimden kuşkuluyum.

Böyle diyen bir yazar için aşağıdakilerden hangisi söylenemez?

- A) Öykücülüğünün, daha çok gördüklerini aktarmaya dayandığı
- B) Öykücülüğündeki tutumunda yaşının da etkili olduğuna inandığı
- C) Öykü yazarlığının çok yönlü bir çalışma gerektirdiği
- D) Öykü yazmadaki tutumuyla ilgili eleştiriler aldığı
- E) Kurmaca öykü yazmada başarılı olamayacağını sandığı

18.

$$\frac{\frac{2}{7} - \frac{5}{4} + \frac{4}{9}}{\frac{-4}{7} + \frac{5}{2} - \frac{8}{9}}$$

işleminin sonucu kaçtır?

- A) $\frac{-1}{2}$ B) $\frac{-2}{3}$ C) $\frac{-2}{5}$
 D) $\frac{4}{3}$ E) $\frac{4}{7}$

19.

$$\frac{x}{12} = 0,42$$

olduğuna göre, $\frac{x}{4}$ kaçtır?

- A) 0,14 B) 0,21 C) 0,28 D) 1,26 E) 1,72

20.

$$\sqrt{27} - \sqrt{108} + \frac{18}{\sqrt{3}}$$

işleminin sonucu kaçtır?

- A) $\sqrt{3}$ B) $2\sqrt{3}$ C) $3\sqrt{3}$
 D) $5\sqrt{3}$ E) $7\sqrt{3}$

21. 9^3 sayısı, 81^5 sayısının kaç katıdır?

- A) 3^{-12} B) 3^{-14} C) 3^{-16}
 D) 3^3 E) 3^6

22.

$$3^a = 2$$

$$3^b = 16$$

olduğuna göre, $\frac{a-b}{a+b}$ oranı kaçtır?

- A) $\frac{-1}{5}$ B) $\frac{-2}{5}$ C) $\frac{-3}{5}$
 D) 3 E) 5

23. Üç basamaklı 3AB sayısı, iki basamaklı AB sayısının 10 katından 6 eksiktir.

Buna göre, A + B toplamı kaçtır?

- A) 6 B) 7 C) 8 D) 9 E) 10

24. Gerçek sayılar kümesi üzerinde * işlemi,

$$a * b = \begin{cases} a \cdot b - a - b + 1 & a \geq b \text{ ise} \\ a \cdot b + a + b + 1 & a < b \text{ ise} \end{cases}$$

biçiminde tanımlanıyor.

Buna göre, (9 * 19) * 101 işleminin sonucu kaçtır?

- A) 19 900 B) 19 910 C) 19 990
D) 20 001 E) 20 100

25. $\frac{a}{b}$ kesrinin değeri; payına 5 eklendiğinde $\frac{1}{2}$, paydasından 1 çıkarıldığında $\frac{1}{5}$ oluyor.

Buna göre, a + b toplamı kaçtır?

- A) 15 B) 16 C) 17 D) 18 E) 19

26. Bir araç, iki kent arasındaki yolu 4 saatte alıyor. Bu araç, saatteki hızını 20 km artırırsa aynı yolu 3 saatte alıyor.

Buna göre, bu yolun uzunluğu kaç km dir?

- A) 180 B) 200 C) 220 D) 240 E) 280

27. Bir kimse parasının $\frac{2}{3}$ ü ile 3 kalem ve 2 silgi, kalanıyla da 1 kalem ve 5 silgi alabiliyor.

Buna göre, bir kalemin fiyatı bir silginin fiyatının kaç katıdır?

- A) 9 B) 8 C) 7 D) 6 E) 5

29. Bir kitabın son dört sayfasının sayfa numaralarının toplamı 630 dur.

Buna göre, bu kitap kaç sayfadır?

- A) 155 B) 157 C) 158 D) 159 E) 161

28. Bir mal, alış fiyatı üzerinden % 15 kâr elde edilerek 460 YTL ye satılıyor.

Bu mal kaç YTL ye alınmıştır?

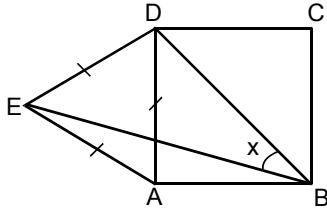
- A) 380 B) 400 C) 420 D) 440 E) 460

30. SAYIŞTAY kelimesinin her harfi ayrı ayrı kâğıtlara yazılarak (tekrar eden harfler tekrar sayısı kadar yazılıyor, örneğin A harfi 2 kere) bir torbaya atılıyor. Torbadan, geri atılmaksızın art arda kâğıtlar çekiliyor ve bu kâğıtlar çekiliş sırasına göre yan yana konuyor.

Art arda çekilen 3 kâğıt sonunda TAY sözcüğünün oluşturulma olasılığı kaçtır?

- A) $\frac{1}{64}$ B) $\frac{1}{72}$ C) $\frac{1}{84}$
D) $\frac{1}{90}$ E) $\frac{1}{92}$

31.



ABCD bir kare
DEA eşkenar üçgen
 $m(\widehat{EBD}) = x$

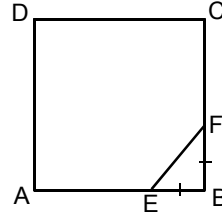
Yukarıdaki verilere göre, x kaç derecedir?

- A) 22,5 B) 25 C) 27,5 D) 30 E) 32,5

32. Bir ikizkenar üçgenin çevresi 64 cm, eş olmayan kenara ait yüksekliği 16 cm olduğuna göre, bu üçgenin alanı kaç cm^2 dir?

- A) 132 B) 168 C) 174 D) 186 E) 192

33.



ABCD bir kare
EBF bir ikizkenar diküçgen
 $|EB| = |BF|$

Yukarıdaki şekilde $\frac{\text{Alan(EBF)}}{\text{Alan(ABCD)}} = \frac{1}{32}$ olduğuna

göre, $\frac{|EB|}{|AB|}$ oranı kaçtır?

- A) $\frac{1}{4}$ B) $\frac{1}{5}$ C) $\frac{1}{6}$
D) $\frac{2}{3}$ E) $\frac{2}{5}$

34. $A(-2, 1)$ noktasının $y = x$ doğrusuna göre simetriği B ise, B noktasının $y = 1$ doğrusuna göre simetriği olan C noktasının koordinatları nedir?

- A) (1, 4) B) (1, 2) C) (1, 1)
D) (-1, -4) E) (-1, -2)

35. Aşağıdakilerden hangisi Amasya Görüşmeleri'nde anlaşmaya varılan esaslar arasında değildir?

- A) Manda ve himayenin kabul edilmemesi
- B) Vatanın bütünlüğünün ve istiklalinin korunması
- C) Anadolu ve Rumeli Müdafaa-i Hukuk Cemiyeti'nin İstanbul Hükümeti'nce tanınması
- D) Müslüman olmayan topluluklara sosyal dengeyi bozacak ayrıcalıklar verilmemesi
- E) Temsilciler Kurulu'nun Ankara'ya gelmesi

36. Aşağıdakilerden hangisi Kurtuluş Savaşı'nda TBMM'ye karşı başlatılan ayaklanmaların nedenlerinden biri değildir?

- A) Mebuslar Meclisi'nin dağıtılması
- B) Halkın dini duygularının kötüye kullanılması
- C) Anadolu'da bazı ailelerin yerel güç haline gelmesi
- D) Bazı milis güçlerinin halktan zorla para, yiyecek ve silah toplaması
- E) Azınlıkların, buldukları bölgelerde bağımsız devlet kurmak istemeleri

37. Aşağıdakilerden hangisi, Yunanlıların ikinci kez İnönü'de saldırıya geçmelerinin nedenlerinden biri değildir?

- A) Anlaşma Devletleri'nin Londra Konferansı'ndan beklenen sonucu alamaması
- B) Türk ordusunun Sakarya'nın doğusuna çekilmesi
- C) Yunanlıların Birinci İnönü Savaşı yenilgisini örtmek istemesi
- D) Yunanlıların Eskişehir ve Kütahya'yı ele geçirmek istemesi
- E) TBMM'nin giderek güçlenmesi

38. Lozan Antlaşması'ndan sonra aşağıdakilerden hangisi için yeni bir düzenleme yapılmıştır?

- A) Azınlıkların Türk vatandaşı sayılması
- B) Kapitülasyonların kaldırılması
- C) Boğazların Türk egemenliğine geçmesi
- D) Bozcaada ve Gökçeada'nın Türk topraklarına katılması
- E) Karaağaç'ın savaş tazminatı olarak alınması

39. Cumhuriyet döneminde yapılan,

- I. devlet memurlarına fes yerine şapka giyme zorunluluğunun getirilmesi,
- II. Türk tarihinin çok eskiye dayandığını kanıtlayan araştırmalar yapılması,
- III. Türk dilinin geliştirilmesi

çalışmalarından hangilerinde ulusçuluk anlayışının temel alındığı savunulabilir?

- A) Yalnız I
- B) Yalnız II
- C) Yalnız III
- D) I ve II
- E) II ve III

40. Kadınların 1930 yılında belediye seçimlerine katılma, 1933'te muhtar seçilme, 1934 yılında da milletvekili seçme seçilme haklarını elde etmesinin,

- I. halkçılık,
- II. cumhuriyetçilik,
- III. milliyetçilik

ilkelerinden hangilerinin bir gereği olduğu savunulabilir?

- A) Yalnız I
- B) Yalnız II
- C) Yalnız III
- D) I ve II
- E) II ve III

41. Türkiye ile Yunanistan arasında aşağıdakilerden hangisiyle ilgili bir sorun yaşanmamıştır?

- A) Kıbrıs adası
- B) Osmanlı borçları
- C) Nüfus mübadelesi
- D) Kıta sahanlığı
- E) Ege adalarının silahsızlandırılması

42.

- I. Aztek
- II. İnka
- III. Minos

Yukarıdaki uygarlıklardan hangilerinin varlığı, Coğrafi Keşifler sırasında ortaya çıkarılmıştır?

- A) Yalnız I
- B) Yalnız II
- C) I ve II
- D) II ve III
- E) I, II ve III

43.

- I. Fransız İhtilali'nin çıkması
- II. Amerika Birleşik Devletleri'nin kurulması
- III. Rönesans hareketlerinin başlaması

Yukarıdaki gelişmelerden hangileri, Aydınlanma Çağı'nda gerçekleşmiştir?

- A) Yalnız I
- B) Yalnız II
- C) Yalnız III
- D) I ve II
- E) II ve III

44.

- I. Avrupa'da Nazizm ve Faşizm rejimlerinin ortaya çıkması
- II. Doğu Almanya ile Batı Almanya'nın birleşmesi
- III. Sovyetler Birliği'nin dağılması

Yukarıdakilerden hangileri İkinci Dünya Savaşı'ndan sonra görülen gelişmeler arasındadır?

- A) Yalnız I
- B) Yalnız II
- C) Yalnız III
- D) I ve II
- E) II ve III

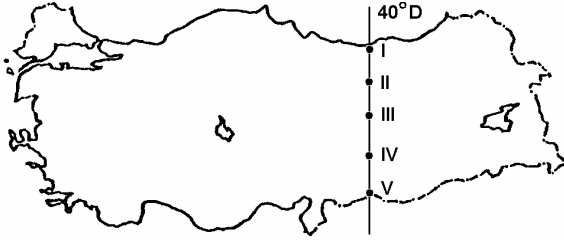
45. Güzel Sanatlar Akademisi'nin kurucusu da olan Osmanlı ressam ve arkeoloğu kimdir?

- A) Osman Hamdi Bey
- B) Şeker Ahmet Paşa
- C) Süleyman Seyit Bey
- D) Hoca Ali Rıza
- E) Hüseyin Zekâi Paşa

46. Aşağıdakilerden hangisi kübizmin öncüsü kabul edilen resamlardan biridir?

- A) Piet Mondrian
- B) Pablo Picasso
- C) Paul Klee
- D) Haus Jean Arp
- E) Salvador Dali

47.



Yukarıdaki haritada 40° Doğu boylamı üzerinde numaralarla gösterilen yerlerden hangisinde, 21 haziranda gündüz süresi diğerlerinden **daha uzundur?**

- A) I B) II C) III D) IV E) V

48. Anadolu'nun, en eski yerleşim merkezlerinden biri olmasında aşağıdakilerden hangisinin etkisi **en azdır?**

- A) Topraklarının verimli olması
 B) Kayaç türlerinin çeşitli olması
 C) Su kaynakları bakımından zengin olması
 D) İklimin elverişli olması
 E) Avrupa ile Asya kıtaları arasında doğal köprü işlevi görmesi

49.

- I. Elverişli dağ çayırlarının bulunması
 II. Kırsal kesimden büyük kentlere göçün olması
 III. Tarım alanlarının sınırlı olması
 IV. Akarsuların bol su taşıması

Yukarıdakilerden hangilerinin, Doğu Karadeniz Bölümü'nde büyükbaş hayvancılığın yaygın olarak yapılmasında etkili olduğu söylenebilir?

- A) I ve II B) I ve III C) II ve III
 D) II ve IV E) III ve IV

50. Aşağıdaki kentlerin hangisinde diğerlerinden farklı bir ekonomik etkinlik yapılmaktadır?

- A) Kütahya – Seyitömer B) Sivas – Divriği
 C) Kastamonu – Küre D) Isparta – Keçiözü
 E) Samsun – Bafra

51. 1982 Anayasası'na göre, TBMM'yle ilgili aşağıdaki ifadelerden hangisi yanlıştır?

- A) TBMM seçimleri 5 yılda bir yapılır.
- B) TBMM olağan seçim süresi dolmadan seçimlerin yenilenmesine karar verebilir.
- C) TBMM üye tam sayısının % 5'inin boşalması durumunda, 3 ay içinde genel seçimlere gidilir.
- D) Yenilenmesine karar verilen meclisin yetkileri yeni meclisin seçilmesine kadar sürer.
- E) TBMM genel oyla seçilen 550 milletvekilinden oluşur.

52. 1982 Anayasası'na göre, aşağıdakilerden hangisi Cumhurbaşkanının tek başına yapacağı işlemlerden biri değildir?

- A) Anayasa değişikliklerini halkoyuna sunmak
- B) Genelkurmay Başkanını seçmek
- C) Devlet Denetleme Kurulu üyelerini atamak
- D) Anayasa Mahkemesi üyelerini atamak
- E) Kanunları ve Anayasa değişikliklerini yayımlamak

53. 1982 Anayasası'na göre, aşağıdakilerden hangisi Bakanlar Kurulunun yetkileri arasında yer alır?

- A) Milletlerarası antlaşmaları yayımlamak
- B) Tüzük çıkarmak
- C) Anayasa Mahkemesine üye seçmek
- D) Hâkimleri görevden almak
- E) Bir bakanı Yüce Divana göndermek

54. 1982 Anayasası'na göre, aşağıdakilerden hangisi olağanüstü dönemlerde bile dokunulamayacak haklardan biridir?

- A) Suçsuzluk karinesi
- B) İfade özgürlüğü
- C) Dernek kurma özgürlüğü
- D) Toplantı yapma özgürlüğü
- E) Seyahat ve yerleşme özgürlüğü

55. 1982 Anayasası'na göre, aşağıdakilerden hangisi göreviyle ilgili suçlardan ötürü Yüce Divan sıfatıyla Anayasa Mahkemesinde yargılanabilecek kişilerden biri değildir?

- A) Anayasa Mahkemesi Başkanı
- B) Hâkimler ve Savcılar Yüksek Kurulu Başkanı
- C) Askeri Yüksek İdare Mahkemesi Başkanı
- D) Sayıştay Başkanı
- E) TBMM Başkanı

56. Bazı mal grupları ile fiyat deęişmelerine yol açan bir takım unsurların tüketiciler için fiyat endeksi (TÜFE) kapsamında izlenen sepetten çıkarılmasıyla ulaşılan, daha dar kapsamlı enflasyona ne ad verilir?

- A) Çekirdek enflasyon B) Hiper enflasyon
C) Sürünen enflasyon D) Arz enflasyonu
E) Deęişken enflasyon

57. Enflasyon hedeflemesi rejiminde merkez bankasının temel politika aracı aşağıdakilerden hangisidir?

- A) Üretici fiyat endeksi
B) Yabancı sermaye miktarı
C) Kısa vadeli faiz oranları
D) Uzun vadeli faiz oranları
E) Döviz kuru

58. Türkiye’de menkul kıymetlerin ödünç alma ve ödünç verme, açığa satış ve repo işlemlerini düzenleme görevi hangi kuruluşa aittir?

- A) Rekabet Kurulu
B) Sermaye Piyasası Kurulu
C) Türkiye Odalar ve Borsalar Birliği
D) T.C. Merkez Bankası
E) Hazine Müsteşarlığı

59. Avrupa Birliğine (AB) üye ülkelerin dönem başkanlığı süreleri ne kadardır?

- A) 4 ay B) 6 ay C) 1 yıl
D) 2 yıl E) 3 yıl

60. Aşağıdakilerden hangisi Birleşmiş Milletlerin (BM) organlarından biri değildir?

- A) Genel Kurul
B) Güvenlik Konseyi
C) Genel Sekreterlik
D) Dünya Bankası
E) Ekonomik ve Sosyal Konsey

**GENEL YETENEK VE GENEL KÜLTÜR
TESTİ BİTTİ.**

YABANCI DİL TESTİNE GEÇİNİZ.