

A

GENEL KÜLTÜR TESTİ

KPSS-ÖNLİSANS / 2008

1. İslamiyetten önce kurulan Türk devletlerinde geniş toprakların idare edilmesinin zorluğu aşağıdakilerin hangisiyle giderilmeye çalışılmıştır?

- A) Ülkede inanç özgürlüğünün tanınması
- B) Yerleşik hayatın yaygınlaştırılması
- C) Ülkenin yönetim alanlarına ayrılması
- D) Evlilik yoluyla başka ülkelerle yakınlık kurulması
- E) Komşularla barışçıl ilişkilerin kurulmasına özen gösterilmesi

2. Aşağıdakilerden hangisi, Türk İslam devletlerinde hükümdarlık sembollerinden biri değildir?

- A) Hilat (giysi)
- B) Asa
- C) Bayrak (alem)
- D) Çetr (saltanat şemsiyesi)
- E) Ok

3. Aşağıdakilerden hangisi, Büyük Selçuklular Dönemine aittir?

- A) Nizamiye Medresesi
- B) Karatay Medresesi
- C) Çinili Köşk
- D) Muradiye Camisi
- E) İshak Paşa Sarayı

4. XVI. yüzyılın ikinci yarısından itibaren Osmanlı Devleti'nde toprak düzeninin bozulmasıyla toprak mülkiyeti yaygınlaşmıştır.

Bu durumun aşağıdakilerden hangisine ortam hazırladığı savunulabilir?

- A) Asker – sivil iş birliğine
- B) Feodal yapının güçlenmesine
- C) Toprak gelirlerinin artmasına
- D) Köylünün refah düzeyinin artmasına
- E) Ticaretin azınlıkların tekelinde olmasına

5. Osmanlı kanunnamelerinde "Saban giren yer mülk olmaz." şeklinde tanımlanan durumun aşağıdakilerden hangisiyle örtüştüğü savunulabilir?

- A) Toprağın gelirlere göre ayrılması
- B) Artan nüfus oranında yeni tarım alanlarının açılması
- C) Toprağın sadece kullanım hakkının köylüde olması
- D) Dirlik sahiplerinin cebelû yetiştirmek zorunda olması
- E) Her köylü ailesinin geçimini sağlayacak büyüklükte toprağa sahip olmasına özen gösterilmesi

Diğer sayfaya geçiniz.

6. Osmanlı Devleti dirlik sistemiyle,

- I. sipahinin geçimini karşılama,
- II. büyük bir askerî güce sahip olma,
- III. kapı kulu askerlerinin maaşını verme

durumlarından hangilerini sağlayarak hazinenin yükünü azaltmaya çalışmıştır?

- A) Yalnız I B) Yalnız II C) Yalnız III
D) I ve II E) II ve III

7. XIX. yüzyılda Osmanlı Devleti'nde azınlıkların Mebuslar Meclisinde temsil edilmesi aşağıdakilerden hangisini gösterir?

- A) Divanhümayunla Mebuslar Meclisinin yapısının aynı olduğunu
B) Yenilik hareketlerinin halktan geldiğini
C) Bağımsızlık hareketlerinin önlenmek istendiğini
D) Taht kavgalarının sona erdirilmesinin amaçlandığını
E) Azınlıklara inanç özgürlüğü tanındığını

8. Osmanlı Devleti'nde, sarraf geleneğinden bankacılığa kaçınıcı yüzyıldan itibaren geçilmiştir?

- A) 20. B) 19. C) 18. D) 17. E) 16.

9.

- I. Nizamı Cedit Ocağı
- II. Eşkinci Ocağı
- III. Enderun Mektebi

Yukarıdakilerden hangileri, orduyu güçlendirmek için III. Selim zamanında yapılan yenilikler arasındadır?

- A) Yalnız I B) Yalnız II C) Yalnız III
D) I ve II E) II ve III

10. Aşağıdakilerden hangisi III. Ahmet Dönemi gelişmelerinden biridir?

- A) Senedi İttifak'ın yapılması
B) Türk matbaasının kurulması
C) Yeniçeri Ocağının kurulması
D) Kanunuesasi'nin uygulamaya konulması
E) Kanunname-i Âli Osman'ın toplanması

11. Osmanlı Devleti'nde,

- I. Osmanlı Bankasının kurulması,
- II. Ziraat Bankasının kurulması,
- III. esnaf teşkilatının kurulması

gelişmelerinden hangileri XIX. yüzyılda gerçekleştirilmiştir?

- A) Yalnız I B) Yalnız II C) Yalnız III
D) I ve II E) I, II ve III

Diğer sayfaya geçiniz.

12. Amasya Genelgesi'nde milletin özgürlüğünü ve devletin bağımsızlığını sağlamak amacıyla Sivas'ta bir kongrenin toplanmasına karar verilmiştir.

Bu kararla aşağıdakilerden hangisinin öngörüldüğü savunulabilir?

- A) Ulusal kararların geniş katılımı alınması gerektiğinin
B) Yerel cemiyetlerin kurulmasının
C) Uluslararası ilişkilerin başlamasının
D) İstanbul Hükûmetiyle görüşülmesinin
E) Milletvekili seçimlerinin çabuklaştırılmasının

13. Erzurum Kongresi'nde aşağıdakilerden hangisiyle ilgili karar alınmamıştır?

- A) İşgal amacı olmayan devletlerin yardımlarının kabul edilmesi
B) Ulusal sınırlar içinde vatanın bir bütün olduğu
C) Hükûmet işlerinin Meclis denetiminde sürdürülmesine çalışılması
D) Siyasi egemenliği, toplumsal dengeyi bozacak ayrıcalıkların reddi
E) Redd-i İlhak ve Müdafaa-i Hukuk Cemiyetlerinin kurulması

14. Aşağıdakilerden hangisi, TBMM'ye karşı çıkarılan ayaklanmaların sonuçlarından biridir?

- A) Ulusal kongrelerin toplanması
B) Ulusal mücadelenin zorlaşması
C) Azınlık ayaklanmalarının çıkması
D) Tekâlif-i Millîye Emirlerinin çıkarılması
E) Afganistan'la dostluk antlaşmasının imzalanması

- 15.

- I. TBMM'nin hukuki varlığının Anlaşma Devletlerince tanınması
II. Ermeni sorununun çözülmesi
III. Misakımillî kararlarının başta Avrupa ülkeleri olmak üzere dünya kamuoyuna anlatılması

1921 yılında TBMM, yukarıdakilerden hangileri için Londra Konferansı'na katılmayı yararlı görmüştür?

- A) Yalnız I
B) Yalnız II
C) I ve III
D) II ve III
E) I, II ve III

16. Aşağıdakilerin hangisinde, Birinci İnönü Savaşı'nın kazanılmasının etkisi vardır?

- A) Gümrü Antlaşması
B) Moskova Antlaşması
C) Bükreş Antlaşması
D) Atina Antlaşması
E) İstanbul Antlaşması

17. Yeni Türk Devleti kurulduğunda Kanunuesasi yürürlükten kaldırılmamış ancak 1921 Anayasası'nda bulunmayan hükümler Kanunuesasi'nin hükümleriyle karşılanmıştır.

Bu durumun, aşağıdakilerden hangisinin bir göstergesi olduğu savunulamaz?

- A) Kanunuesasi'den yararlanıldığı
B) Kanunuesasi'nin daha kapsamlı bir metin olduğunun
C) Mecliste gruplaşmaların olduğunun
D) Zaman kazanılmasına gereksinim duyulduğunun
E) Anayasal düzene Osmanlı Döneminde geçildiğinin

Diğer sayfaya geçiniz.

18. Tekâlif-i Millîye Emirlerinin çıkarılmasına aşağıdaki savaşların hangisinin sonucunda gerek görülmüştür?

- A) Başkomutanlık Savaşı
- B) Sakarya Savaşı
- C) Birinci İnönü Savaşı
- D) İkinci İnönü Savaşı
- E) Eskişehir ve Kütahya Savaşları

19.

- I. Azınlıkların Türk vatandaşı sayılması
- II. Rodos ve Oniki Ada'nın İtalya'ya bırakılması
- III. Boğazlar Komisyonunun kaldırılması

Yukarıdakilerden hangileri Lozan Antlaşması'nın sonuçları arasındadır?

- A) Yalnız I
- B) Yalnız II
- C) Yalnız III
- D) I ve II
- E) II ve III

20. Aşağıdakilerden hangisi, 1937 yılında yapılan değişiklikle, 1924 Anayasası'nda yer almıştır?

- A) Atatürk ilkeleri
- B) Milletvekillerinin yemin şekli
- C) Yeni Türk Devleti'nin yönetim biçimi
- D) Yeni Türk Devleti'nin başkenti
- E) Yeni Türk Devleti'nin resmî dili

21. Atatürk 1924 yılında, "Bizim milletimiz vatanı için, hürriyeti ve egemenliği için fedakâr bir halktır, bunu ispat etti. Milletimiz yaptığı inkılapların kiskanç müdafiidir de. Benliğinde bu faziletler yerleşmiş bir milleti yürütmekte olduğu doğru yoldan hiçbir kimse hiçbir kuvvet alıkoyamaz." demiştir.

Atatürk'ün bu ifadesiyle Türk milletinin,

- I. özgürlük,
- II. bağımsızlık,
- III. inkılapçılık

ilkelerinden hangilerini korumada kararlılığını vurguladığı savunulabilir?

- A) Yalnız I
- B) Yalnız II
- C) Yalnız III
- D) I ve II
- E) I, II ve III

22.

- I. Hukuk
- II. Ekonomi
- III. Öğretim

Cumhuriyet Döneminde yukarıdaki alanların hangileriyle ilgili uygulamalarda birlik sağlamak amacı olduğu savunulabilir?

- A) Yalnız I
- B) Yalnız II
- C) Yalnız III
- D) I ve III
- E) I, II ve III

23.

- I. Siyasi rejim
- II. Ekonomik politika
- III. Uluslararası ilişkiler

Cumhuriyetçilik ilkesi yukarıdakilerden hangilerini doğrudan belirler?

- A) Yalnız I
- B) Yalnız II
- C) Yalnız III
- D) I ve II
- E) II ve III

24. Atatürk Onuncu Yıl Nutku'nda "Türk milletinin yürümekte olduğu terakki ve medeniyet yolunda, elinde ve kafasında tuttuğu meşale, müspet ilimdir." demiştir.

Atatürk'ün bu sözünün aşağıdaki ilkelerden hangisinin önemini doğrudan vurguladığı savunulabilir?

- A) Milliyetçilik B) Halkçılık C) Laiklik
D) Devletçilik E) Cumhuriyetçilik

25.

- I. Yabancıların Türk kara sularında ticaret yapmasının yasak olması
- II. Yabancı ticaret gemilerinin Boğazlardan geçişinin serbest olması
- III. Yabancıların Marmara ve Türkiye'deki nehirlerde ve göllerde gemi bulundurmasının yasak olması

Yukarıdakilerden hangileri Kabotaj Kanunu'nun kapsamındadır?

- A) Yalnız I B) Yalnız II C) Yalnız III
D) I ve III E) I, II ve III

26.

- I. Evlenme akdinin devlet işi olarak nitelenmesi
- II. Kadının tanıklıkta erkekle eşit olması
- III. Resmî nikâhtan sonra inançlara göre dinsel tören yapılabilmesi

Yukarıdakilerden hangileri, 4 Ekim 1926 tarihinde yürürlüğe giren Medeni Kanun'un kapsamındadır?

- A) Yalnız I B) Yalnız II C) Yalnız III
D) I ve II E) I, II ve III

27. Türkiye'de,

- I. kadınlara seçme ve seçilme hakkının verilmesi,
- II. iki dereceli seçim sisteminden tek dereceli seçim sistemine geçilerek halkın milletvekillerini doğrudan seçebilmesi,
- III. milletvekilleri seçimlerinin iki yılda bir yapılması yerine, dört yılda bir yapılması

gelişmelerinden hangilerinin demokrasinin gereği olduğu savunulabilir?

- A) Yalnız I B) Yalnız II C) Yalnız III
D) I ve II E) II ve III

28.

- I. İnkıpların sürekliliğini sağlama
- II. Çağdaş uygarlık düzeyine çıkma
- III. Gerçekleştirilen inkıplarla yetinme

Yukarıdakilerden hangileri, inkılapçılık ilkesinin, toplumu durağanlıktan, dogmacılıktan kurtarma amaçlı olduğunu gösterir?

- A) Yalnız I B) Yalnız II C) I ve II
D) II ve III E) I, II ve III

29. Atatürkçü milliyetçilik anlayışı ırk, din ve mezhep ayrımcılığına karşıdır.

Yalnız bu bilgiyle Atatürk milliyetçiliğinin,

- I. laik devlet anlayışını benimseme,
- II. etnik kimliklere saygılı olma,
- III. milletin birliğine ve bütünlüğüne önem verme

özelliklerinden hangilerine ulaşılır?

- A) Yalnız I B) Yalnız II C) Yalnız III
D) II ve III E) I, II ve III

30. Müslümanlar üzerinde nüfuzu olan halifeliğin kaldırılmasında aşağıdakilerden hangisinin etkili olduğu savunulabilir?

- A) Mecelle yerine Medeni Kanun'un kabul edilmesi
- B) Saltanatın kaldırılarak Cumhuriyet'in ilan edilmesi
- C) Tekke ve türbelerin kapatılması
- D) Anayasa'dan laikliğe aykırı maddelerin çıkarılması
- E) Medreselerin kapatılması

31. Aşağıdakilerden hangisi Millet Mekteplerinin açılmasındaki amaçlardan biridir?

- A) Her kesimden vatandaşın okur yazar duruma getirmek
- B) Yurt dışına gidecek bireylere yabancı dil öğretmek
- C) Harf inkılabının yapılmasına ortam oluşturmak
- D) Medreselerin kapatılmasını sağlamak
- E) İlköğretimi zorunlu hâle getirmek

- 32.

- I. Türkiye'nin Milletler Cemiyetine üye olması
- II. Kadınlara siyasi hakların tanınması
- III. Tek dereceli seçim sistemine geçilmesi

Yukarıdakilerden hangileri Atatürk Dönemi gelişmeleri arasındadır?

- A) Yalnız I B) Yalnız II C) Yalnız III
D) I ve II E) I, II ve III

- 33.

- I. İş Bankasının kurulması
- II. Âşar vergisinin kaldırılması
- III. Sümerbankın kurulması

Yukarıdakilerden hangileri Atatürk Döneminde Türk çiftçisini rahatlatmak amacıyla gerçekleştirilmiştir?

- A) Yalnız I B) Yalnız II C) Yalnız III
D) II ve III E) I, II ve III

34. Atatürk Döneminde,

- I. yüksek gümrük vergisi konulması,
- II. ülkeye girecek eşyanın cinsi ve miktarının hükümet tarafından tespit edilmesi,
- III. uluslararası sergi ve panayırlara katılma kararı alınması

önlemlerinden hangilerinin, ihracatı ithalata göre artırmak amacıyla alındığı savunulabilir?

- A) Yalnız I B) Yalnız II C) Yalnız III
D) I ve II E) I, II ve III

35. Bozkurt adlı Türk gemisi Fransız Lotus gemisine çarparak batmıştır. Fransa, Türk mahkemesinin kararlarına itiraz etmiş; Türkiye bu itirazı kabul etmemiştir. Tarafların konuyu Lahey Adalet Divanına götürmesi sonucunda Türk mahkemesinin verdiği kararın değiştirilmesine gerek duyulmamıştır.

Yalnız bu bilginin,

- I. Türk hukuku ve adalet örgütünün egemenlik haklarına dayalı çağdaş düzeye yükseldiği,
- II. Türkiye – Fransa arasında yapılan ticarete ara verildiği,
- III. Türkiye'nin uluslararası deniz ticaretinde çok önemli bir yeri olduğu

durumlarından hangilerine kanıt olduğu savunulabilir?

- A) Yalnız I B) Yalnız II C) Yalnız III
D) I ve II E) I, II ve III

36.

- I. Hatay
- II. Batum
- III. Musul

Yukarıdakilerden hangileri 1926 Ankara Antlaşması'yla Türkiye'nin sınırları dışında kalmıştır?

- A) Yalnız I B) Yalnız II C) Yalnız III
D) I ve II E) I, II ve III

37. Sadâbat Paktına üye devletler,

- I. bölgesel barışı koruma,
- II. iç işlerine karışma,
- III. sınırları koruma

durumlarından hangilerinin yükümlülüğünü karşılıklı olarak kabul etmişlerdir?

- A) Yalnız I B) Yalnız II C) Yalnız III
D) I ve III E) I, II ve III

A

KPSS-ÖNLİSANS / 2008

38. Türkiye'nin özel konumunun aşağıdakilerden hangisi üzerinde etkili olduğu söylenemez?

- A) Yerel saat B) Deniz ulaşımı
C) Turizm etkinlikleri D) İklim koşulları
E) Transit taşımacılık

40. Marmara Bölgesi'nde görülen iklim çeşitliliğinin aşağıdakilerden hangisi üzerinde en az etkili olduğu söylenebilir?

- A) Endüstri kuruluşları
B) Doğal bitki örtüsü
C) Deniz turizmine elverişli süre
D) Yetiştirilen tarım ürünleri
E) Toprak türleri

39. Aşağıdakilerden hangisi, Türkiye'nin kıyı bölgelerinin ortak özelliklerinden biri değildir?

- A) Bölümleri arasında ortalama yükselti bakımından fark olması
B) Akarsu ağızlarında delta ovalarının olması
C) Karstik göllerin yaygın olarak görülmesi
D) Dağların uzanışının kıyıların şekillenmesinde etkili olması
E) Alp orojenezinde oluşmuş sıradağların bulunması

41. Aşağıdaki merkezlerin hangisinde gerçek sıcaklık ile indirgenmiş sıcaklık arasındaki fark diğerlerinden daha fazladır?

- A) Edirne B) Samsun C) Sivas
D) Kars E) Adana

Diğer sayfaya geçiniz.

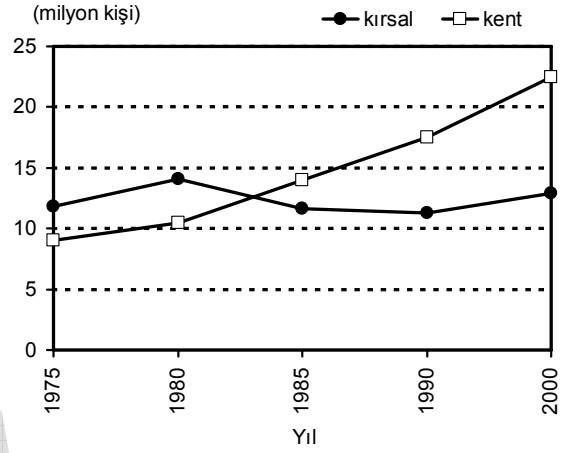
42. Türkiye’de nüfusun düzensiz dağılışında etkili olan etmenlerden ikisi aşağıdakilerin hangisinde birlikte verilmiştir?

- A) Enlem – Yağış biçimi
- B) Toprak türü – Jeolojik yapı
- C) Yükselti – Yer şekilleri
- D) Yağış biçimi – Bitki örtüsü
- E) Yer şekilleri – Enlem

43. Türkiye’de, kentsel nüfusun yaklaşık % 40’ının İstanbul, Ankara ve İzmir illerinde toplanmasında aşağıdakilerden hangisinin etkisi en azdır?

- A) Ulaşım olanaklarının fazla olması
- B) Yerli üretimi tanıtıcı fuarların kurulması
- C) Ticaret hacminin büyük olması
- D) Çeşitli endüstri kuruluşlarının bulunması
- E) Sağlık ve eğitim olanaklarının fazla olması

44. Aşağıdaki grafik, Türkiye’de 1975-2000 sayım yılları arasında kentlerde ve kırsal kesimde yaşayan erkek nüfusun değişimini göstermektedir.



Bu grafikten aşağıdaki sonuçlardan hangisi çıkarılamaz?

- A) Yalnızca 1975-1980 döneminde, hem kentsel hem de kırsal kesimde erkek nüfus artmıştır.
- B) Kırsal kesimdeki erkek nüfusun en fazla olduğu yıl 1980’dir.
- C) Kentlerdeki erkek nüfusun artış hızı kırsal kesimdekinden daha fazladır.
- D) Kırsal kesim ve kentlerde yaşayan erkek nüfus miktarı arasındaki en büyük fark 2000 yılındadır.
- E) 1980-1985 döneminde kentlerdeki erkek nüfus artarken, kırsal kesimdeki azalmıştır.

45. Aşağıdaki bölgelerin hangisinde, endüstride çalışan kişi sayısı diğerlerinden daha fazladır?

- A) Akdeniz
- B) Marmara
- C) İç Anadolu
- D) Ege
- E) Karadeniz

Diğer sayfaya geçiniz.

46. Aşağıdaki platolardan hangisinin bölge ekonomisine katkısında büyükbaş hayvancılık ilk sıradadır?

- A) Çatalca-Kocaeli B) Erzurum-Kars
C) Taşeli D) Cihanbeyli
E) Gaziantep

48.

- I. Bakır
II. Taş kömürü
III. Linyit
IV. Demir

Yukarıdaki madenlerden hangilerinin Türkiye'deki üretiminin tümü Karadeniz Bölgesi'nden elde edilir?

- A) Yalnız I B) Yalnız II C) I ve II
D) II ve III E) III ve IV

47. Türkiye'deki bazı fabrikaların kuruluş yerleriyle ilgili aşağıdaki genellemelerden hangisi doğrudur?

- A) Bitkisel yağ fabrikaları, ham maddeye yakın yerlerde kurulmuştur.
B) Seramik fabrikaları, inşaat sektörünün geliştiği yerlerde kurulmuştur.
C) Demir-çelik fabrikaları, demir cevherinin çıkarıldığı yerlerde kurulmuştur.
D) Otomobil fabrikaları, termik santrallere yakın yerlerde kurulmuştur.
E) Deri konfeksiyon fabrikaları, hayvancılığın yaygın olarak yapıldığı yerlerde kurulmuştur.

49. Türkiye'nin, ekonomisi gelişen bir ülke olmasında aşağıdakilerden hangisinin en az etkili olduğu söylenebilir?

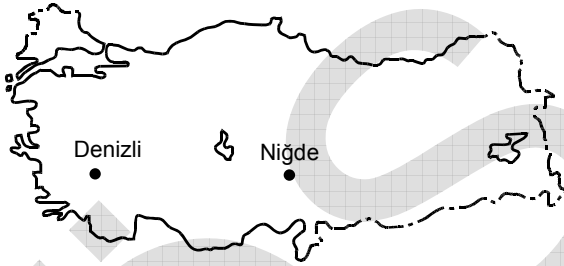
- A) Nüfusun genç ve dinamik olması
B) Fiziki ve beşerî özellikleri farklı coğrafi bölgelerin olması
C) Yer altı ve yer üstü kaynaklarının çeşitli olması
D) Avrupa'yla Asya, özellikle Orta Doğu ülkeleri arasında köprü görevi görmesi
E) Topraklarının büyük bir bölümünün Anadolu Yarımadası'nda olması

Diğer sayfaya geçiniz.

50. Doğu Karadeniz Bölümü'nde çay üretiminin yapıldığı kuşağa ekilecek aşağıdaki bitkilerin hangisinden ürün almak daha zordur?

- A) Fındık B) Tütün C) Pamuk
D) Turunçgiller E) Mısır

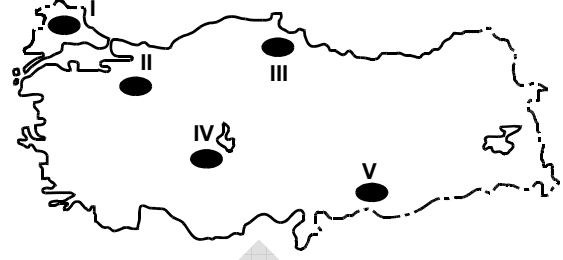
51.



Haritada gösterilen iki kentin çevresinde yetiştirilen tarım ürünlerinin farklı olmasında, aşağıdakilerden hangisinin etkisi yoktur?

- A) Tarım alanlarının genişliklerinin farklı olması
B) Dağların kıyı çizgisine göre uzanış yönünün farklı olması
C) Toprak türlerinin farklı olması
D) Yıllık yağış tutarlarının farklı olması
E) Yükseltilerinin farklı olması

52.



İklim koşulları göz önüne alındığında, yukarıdaki haritada numaralarla gösterilen tarım alanlarının hangilerinde, sulamaya diğerlerinden daha fazla gereksinim duyulması beklenir?

- A) I ve II B) II ve III C) II ve V
D) III ve IV E) IV ve V

53. Aşağıdakilerden hangisi, hem Güneydoğu Anadolu Bölgesi'nde hem de İç Anadolu Bölgesi'nde yaygın olarak yetiştirilen bir tarım ürünü değildir?

- A) Buğday B) Tütün C) Elma
D) Üzüm E) Mercimek

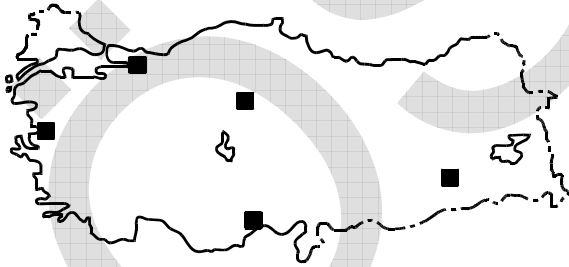
54.

- I. Daha çok baraj ve akarsularda yapılmaktadır.
- II. Deniz balıkçılığına göre daha gelişmiştir.
- III. En fazla alabalık üretilmektedir.

Türkiye’de tatlı su balıkçılığıyla ilgili yukarıdaki özelliklerden hangileri doğrudur?

- A) Yalnız I
- B) Yalnız II
- C) Yalnız III
- D) I ve III
- E) II ve III

55.



Haritada işaretlenmiş merkezlerin beşinde de yapılan ve Türkiye ekonomisine önemli bir katkı sağlayan etkinlik aşağıdakilerden hangisidir?

- A) Zeytin üretimi
- B) Yayla turizmi
- C) Petrol arıtımı
- D) Linyit çıkarımı
- E) Sigara üretimi

56. Türkiye’de elektrik enerjisi üretimine jeotermal kaynaklarıyla en çok katkıda bulunan bölüm aşağıdakilerden hangisidir?

- A) Ege
- B) Orta Karadeniz
- C) Yukarı Kızılırmak
- D) Adana
- E) Orta Fırat

57. Adana, Ege ve Çatalca-Kocaeli Bölgeleri, aşağıdakilerin hangisi bakımından benzerlik gösterir?

- A) Yüz ölçümlerinin büyüklüğü
- B) Seracılığın gelişmişliği
- C) Tarım yapılan alanların genişliği
- D) Endüstri gelirlerinin yüksekliği
- E) Yer altı kaynaklarının zenginliği

58. Aşağıdaki etkinliklerden hangisinin Güney Marmara Bölümü'nün ekonomisindeki payı diğerlerinden daha azdır?

- A) Seramik endüstrisi
- B) Turizm
- C) Otomotiv endüstrisi
- D) Bitkisel yağ üretimi
- E) Hidroelektrik üretim

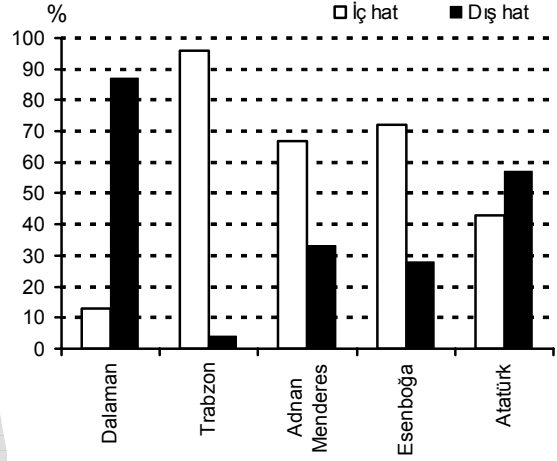
59. Akdeniz Bölgesi'ndeki,

- I. enerji üretimi,
- II. endüstri,
- III. ulaşım,
- IV. ticaret

sektörlerinden hangileri turizmin gelişmesine bağlı olarak daha çok canlılık kazanmıştır?

- A) I ve II
- B) I ve IV
- C) II ve III
- D) II ve IV
- E) III ve IV

60. Aşağıdaki grafikte, 2006 yılında Türkiye'nin bazı havaalanlarına gelen ve giden yolcuların iç ve dış hatlara göre oransal dağılımı gösterilmiştir.



Yalnızca bu grafikteki bilgilerden yararlanarak aşağıdakilerin hangisine ulaşılabilir?

- A) İç hatlarda Atatürk Havaalanı'na gelen ve giden yolcu sayıları birbirine yakındır.
- B) Adnan Menderes Havaalanı'ndaki iç hat yolcu sayısı Atatürk Havaalanı'ndakinden fazladır.
- C) Dalaman ve Trabzon Havaalanlarının dış hat oranları birbirine yakındır.
- D) İç hat yolcu oranları birbirine en yakın olan havaalanları Adnan Menderes ve Esenboğa'dır.
- E) İç ve dış hatlar arasındaki oransal farkın en fazla olduğu havaalanı Dalaman'dır.

61. Aşağıdakilerden hangisi, görevleriyle ilgili suçlardan ötürü Yüce Divanda değil, olağan yargı organlarında yargılanır?

- A) Vatana ihanet durumunda Cumhurbaşkanı
- B) Yargıtay Başkanı ve üyeleri
- C) Milletvekilleri
- D) Başbakan
- E) Bakanlar

62. 1982 Anayasası'na göre, Cumhurbaşkanının hastalık veya yurt dışına çıkma gibi sebeplerle geçici olarak görevinden ayrılması hâllerinde, görevine dönünceye kadar, Cumhurbaşkanlığına aşağıdakilerden hangisi vekâlet eder?

- A) TBMM Başkanı
- B) Cumhurbaşkanlığı Genel Sekreteri
- C) Cumhurbaşkanının belirleyeceği en az 40 yaşında olan ve yüksek öğrenim yapmış bir milletvekili
- D) Anayasa Mahkemesi Başkanı
- E) Başbakan

63. 1982 Anayasası'na göre, milletlerarası hukukun meşru saydığı hâllerde savaş hâli ilanına aşağıdakilerden hangisi karar verebilir?

- A) Millî Savunma Bakanının önerisi üzerine Cumhurbaşkanı
- B) İçişleri Bakanının önerisi üzerine Başbakan
- C) Doğrudan Başbakan
- D) Millî Güvenlik Kurulu
- E) TBMM

64. 1982 Anayasası'na göre, TBMM'nin görev süresiyle ilgili aşağıdaki ifadelerden hangisi doğrudur?

- A) 1982 Anayasası, en başından beri TBMM'nin 4 yıllık bir süre için seçileceğini öngörmüştür ve bu konuda herhangi bir değişiklik yapılmamıştır.
- B) 1982 Anayasası'nın ilk şeklinde TBMM'nin 6 yıllık bir süre için seçileceği öngörülmekteydi; fakat 2001 yılında yapılan bir değişiklikle, bu süre 4 yıla indirilmiştir.
- C) 1982 Anayasası, en başından beri TBMM'nin 5 yıllık bir süre için seçileceğini öngörmüştür ve bu konuda herhangi bir değişiklik yapılmamıştır.
- D) Anayasa, TBMM'nin görev süresi hakkında herhangi bir hüküm içermemektedir. Bu husus 5 yıl olarak Milletvekili Seçimi Kanunu'nda düzenlenmiş bulunmaktadır.
- E) 1982 Anayasası, 2007 yılına gelinceye kadar TBMM'nin 5 yıllık bir süre için seçileceğini öngörmekteydi; fakat bu süre 2007 yılında yapılan bir değişiklikle 4 yıla indirilmiştir.

65. Aşağıdakilerden hangisi hukuk devleti ilkesinin zorunlu koşulu değildir?

- A) Yasal idare ilkesi
- B) Yargı birliği
- C) İdarenin mali sorumluluğu
- D) Yargı bağımsızlığı
- E) Yasaya saygı ilkesi

A

KPSS-ÖNLİSANS / 2008

66. Yargıtay üyelerini aşağıdakilerden hangisi seçer?

- A) Cumhurbaşkanı
- B) Hâkimler ve Savcılar Yüksek Kurulu
- C) Yargıtay Genel Kurulu
- D) Yargıtay İçtihadı Birleştirme Genel Kurulu
- E) Adalet Bakanı

67. Merkezî idarenin başkent dışındaki teşkilatına ne ad verilir?

- A) Belediye
- B) İl özel idaresi
- C) Taşra teşkilatı
- D) Mahallî idare teşkilatı
- E) Hizmet yerinden yönetimi

68. Aşağıdakilerden hangisi Millî Güvenlik Kurulunun üyelerinden biri değildir?

- A) Cumhurbaşkanı
- B) Başbakan
- C) Genelkurmay Başkanı
- D) TBMM Başkanı
- E) Hava Kuvvetleri Komutanı

69. Aşağıdakilerden hangisi hukukun yazılı kaynaklarından biri değildir?

- A) Örf ve Adet
- B) Kanun
- C) Tüzük
- D) Yönetmelik
- E) Anayasa

70. Dürüstlük kuralı aşağıdakilerin hangisinde uygulanmaz?

- A) Sözleşmelerin yorumlanmasında
- B) Sözleşmelerdeki boşlukların doldurulmasında
- C) Sözleşmelerde yan yükümlülüklerin yerine getirilmesinde
- D) Sözleşme öncesi müzakerelerde
- E) Sözleşmede öngörülen bir hakkın kazanılmasında

71. Aşağıdakilerden hangisi sınırlı ehliyetsizdir?

- A) Evli kişi
- B) Kendisine yasal danışman atanan kişi
- C) Mahkeme kararıyla ergin kılınmış olup ayırt etme gücüne sahip kişi
- D) Akıl zayıflığı sebebiyle kısıtlanmış, ayırt etme gücüne sahip kişi
- E) Velayet altında bulunan 3 yaşındaki çocuk

Diğer sayfaya geçiniz.

A

KPSS-ÖNLİSANS / 2008

72. Türkiye aşağıdaki uluslararası örgütlerden hangisine üye değildir?

- A) İslam Konferansı Örgütü (İKÖ)
- B) Bağımsız Devletler Topluluğu (BDT)
- C) Ekonomik İşbirliği Örgütü (ECO)
- D) Kuzey Atlantik Antlaşması Örgütü (NATO)
- E) Avrupa Güvenlik ve İşbirliği Teşkilatı (AGİT)

74. 2006 yılından itibaren T.C. Merkez Bankası Başkanı aşağıdakilerden hangisidir?

- A) Ahmet Ertürk
- B) Tefik Bilgin
- C) Mehmet Şimşek
- D) Durmuş Yılmaz
- E) Süreyya Serdengeçti

73. G-8 zirvesi, 2008 yılında hangi ülkede yapılmıştır?

- A) ABD
- B) Rusya
- C) Japonya
- D) Almanya
- E) Fransa

75. 61. Cannes Film Festivali'nde "Üç Maymun" isimli filmi ile en iyi yönetmen ödülünü alan Türk yönetmen aşağıdakilerden hangisidir?

- A) Fatih Akın
- B) Çağan Irmak
- C) Ali Özgentürk
- D) Mustafa Altıoklar
- E) Nuri Bilge Ceylan

TEST BİTTİ.

CEVAPLARINIZI KONTROL EDİNİZ.