



2012-ÖZÜRLÜ MEMUR
SEÇME SINAVI (ÖMSS) ORTAÖĞRETİM
İŞİTME-1

29 NİSAN 2012 PAZAR

T.C. KİMLİK NUMARASI:

ADI :

SOYADI :

Soru kitapçık numarasının cevap kâğıdına yazılmamasının veya yanlış yazılmasının sorumluluğu adaya aittir.

SORU KİTAPÇIK
NUMARASI : **TEMEL SORU
KİTAPÇIĞI**

Bu numarayı cevap kâğıdınızdaki ilgili alana yazmayı unutmayınız.

DİKKAT! SINAV BAŞLAMADAN ÖNCE AŞAĞIDAKİ UYARILARI MUTLAKA OKUYUNUZ.

1. T.C. Kimlik Numaranızı, Adınızı, Soyadınızı Soru Kitapçığı üzerindeki ilgili alanlara yazınız.
2. Soru Kitapçık Numaranız yukarıda verilmiştir. Bu numarayı cevap kâğıdınızdaki ilgili alana yazınız ve aşağıdaki ilgili alanı imzalayınız. Salon görevlisinin de hem soru kitapçığındaki hem de cevap kâğıdınızdaki ilgili alanı kontrol etmesini sağlayınız.
3. Bu sayfanın arkasında yer alan açıklamayı dikkatle okuyunuz.

Adayın imzası: Soru kitapçık numarasını doğru yazdım.

Salon görevlisinin imzası:
Adayın soru kitapçık numarasını cevap kâğıdına doğru yazdığını onaylıyorum.

AÇIKLAMA

1. Bu kitapçıkta **Genel Yetenek Testi** ve **Genel Kültür Testi** bulunmaktadır.
2. Bu kitapçıkta iki test toplam 60 sorudan oluşmaktadır.
3. Bu kitapçıkta testlerde yer alan her sorunun sadece bir doğru cevabı vardır. Bir soru için birden çok cevap yeri işaretlenmişse o soru yanlış cevaplanmış sayılacaktır.
4. İşaretlediğiniz bir cevabı değiştirmek istediğinizde, silme işlemini çok iyi yapmanız gerektiğini unutmayınız.
5. Bu testler puanlanırken doğru cevaplarınızın sayısından yanlış cevaplarınızın sayısının dörtte biri düşülecek ve kalan sayı ham puanınız olacaktır. Bu nedenle, hakkında hiçbir fikriniz olmayan soruları boş bırakınız. Ancak, soruda verilen seçeneklerden birkaçını eleyebiliyorsanız kalanlar arasında doğru cevabı kestirmeye çalışmanız yararınıza olabilir.
6. Cevaplamaya istediğiniz sorudan başlayabilirsiniz. Bir soru ile ilgili cevabınızı, cevap kâğıdında o soru için ayrılmış olan yere işaretlemeyi unutmayınız.
7. Sınavda uyulacak diğer kurallar bu kitapçığın arka kapağında belirtilmiştir.

Bu test 30 sorudan oluşmaktadır.

1. Alfabemiz, A'dan Z'ye doğru sıralanan 29 harften oluşur.

Aşağıdaki harflerden hangisi, yanında verilen harf aralığı içinde yer almaz?

A) D (C ile F arasında)

B) Ğ (G ile J arasında)

C) J (K ile M arasında)

D) O (L ile P arasında)

E) T (S ile Z arasında)

2. Evin çevresinde kimse yoktu.

Aşağıdakilerin hangisinde “çevre” sözcüğü bu cümledekiyle aynı anlamda kullanılmıştır?

A) Çevresindekilerle çok iyi anlaşır.

B) Çevresine sormak istedi.

C) Ali'nin çevresi oldukça geniştir.

D) Çok iyi bir çevrede yetiştiği belliydi.

E) Kentin çevresinde bir gezi yaptık.

3. • Kalem
• Sırt
• Kitap
• Kutu
• Dolap
• Şeker
• Kolonya
• Şişe
• Tabak

Yalnızca yukarıdaki sözcükler kullanılarak aşağıdaki tamlamalardan hangisi olusturulamaz?

A) Kitap dolabı

B) Kolonya şişesi

C) Şeker tabağı

D) Sırt çantası

E) Kalem kutusu

4. “Kaymaklı dondurma, çikolatalı dondurmadan daha lezzetlidir.”

Bu cümlede kişiye göre değişen bir düşünce belirtilmiştir.

Aşağıdakilerin hangisinde buna benzer bir durum söz konusudur?

- A) Şeker tatlıdır.
B) En güzel renk mavidir.
C) Deniz suyu tuzludur.
D) Ağaçlar baharda yeşerir.
E) Güneş batınca hava kararır.

5. Aşağıdakilerin hangisi bir soru cümlesidir?

- A) Hep aynı yerde yaşamak, sıkıcı mı oldu
- B) Ne uzun ne de kısa, orta boylu biri
- C) Bu şehirde binlerce insan yaşıyor
- D) Ne kadar da güzel bir çiçek almışsın
- E) Saat kaçta yemek yiyeceğimizi bilmiyorum

6. Aşağıdaki cümlelerin hangisinde neden-sonuç ilişkisi yoktur?

- A) Otobüsü kaçırdığımdan derse geç kaldım.
- B) Osman bizi güldürmek için bir fıkra anlattı.
- C) Anahtarımı unuttuğum için dışarıda kaldım.
- D) Eve giderken bakkaldan ekmek aldı.
- E) Çiçekler susuzluktan kurumaya başladı.

7. Aşağıdaki cümlelerin hangisinde, yanında verilen sorunun cevabı yoktur?

A) Sema dün evde yoktu. (Kim?)

B) Ninem az önce beni çağırdı. (Ne zaman?)

C) Havalar soğduğundan size gelemedik. (Kime?)

D) Sinemada izlediğim filmde çok etkilendim. (Ne kadar?)

E) Akşamları erken yatarım. (Neyi?)

8. Aşağıdaki cümlelerin hangisinde bir yazım yanlışı vardır?

A) Her nasılsa buraya gelememiş.

B) Her kes onlara bakıyordu.

C) Her yer güzelce temizlenmiş.

D) Her gün aynı yerde bekliyor.

E) Her birimizin bir görevi var.

9. Yazları güneş altında uzun süre kaldığımızda yüzümüz yanar. Bunun nedeni güneş ışınlarıdır. Güneşte fazla kalmak birçok canlı için tehlikelidir. ----.

Bu parçanın sonuna aşağıdakilerden hangisi getirilebilir?

- A) Bu yüzden her canlı güneşten korunmaya çalışır
- B) Güneşten yararlanmanın birçok yolu vardır
- C) Aslında güneş ışınları sağlığımız için yararlıdır
- D) Güneşe gözlüksüz bakınca gözlerimiz yaşarır
- E) Güneş ışığı çocukların gelişimini etkiler

10. Hepimize aynı soruyu sormuşlardır: Büyüyünce ne olacaksınız? İlkokuldayken bu soru sorulunca sıkılırdım. Daha düşünmemiştim. Artık nasıl cevaplayacağımı biliyorum. Çünkü ----.

Bu parçanın sonuna aşağıdakilerden hangisi getirilebilir?

- A) sınıfımı geçmek için çalışıyorum
- B) hemen büyümek istiyorum
- C) arkadaşlarıma soru sorabiliyorum
- D) öğretmen olmaya karar verdim
- E) doktorluk zor bir meslek

11. Mustafa ile köpeği Karabaş koşuyorlardı. Ağaçların arasından geçiyor, küçük çalıların üzerinden atlıyorlardı. Kocaman ormanda yapayalnızlardı. Ağaçlar sıklaştıkça Mustafa'nın heyecanı artıyordu. Ötelede, çok ötelede acaba neler vardı? Ormanın içlerine doğru koşuyor, koşuyordu.

Bu parçaya göre Mustafa niçin koşmaktadır?

- A) Acelesi olduğu için
- B) Ormanın derinliklerini merak ettiği için
- C) Ağaçları çok sevdiği için
- D) Evden uzaklaşmak için
- E) Köpeğiyle oynamaktan hoşlandığı için

12. Ben bir küçük yaprağım
Kırmızı, sarı bir yaprağım
Ağacın ta tepesinde
Sallanıp dururum
Bir gün bir rüzgâr esti
Dalımdan aldı beni
Bir oraya, bir buraya
Başka yapraklarla birlikte
Çıktık bir yolculuğa

Bu şiirde anlatılanlar yılın hangi ayında geçmiş olabilir?

A) Ocak

B) Mayıs

C) Ekim

D) Mart

E) Temmuz

13. Sağlıklı yaşayabilmek için spor yapmamız gerekiyor. Spor hem bedenimizi geliştiriyor hem de şekillendiriyor. Ayrıca hoşça vakit geçiriyoruz. Spor yaptığımız zaman aşırı kilo da almıyoruz. Bu sayede yaşamımızı çok daha sağlıklı sürdürebiliyoruz. Spor yaparken beynimize daha fazla oksijen gidiyor.

Bu parçaya göre aşağıdakilerden hangisi spor yapmanın faydalarından biri değildir?

- A) İnsanları sevmemizi sağlar.
- B) Hastalıklardan korur.
- C) Bizi bedensel yönden güzelleştirir.
- D) Şişmanlamamızı engeller.
- E) Eğlenmemizi sağlar.

14. Deniz kenarında yürürken ayaklarımızın battığı yumuşak kum, aslında kayadır. Deniz dalgaları, koca kayaları yıllarca aşındırarak küçük parçalara böler. Bu aşınmalar sonunda kayalar, kuma dönüşür. Kumun rengi ise kayanın nereden geldiğine bağlı olarak değişir.

Bu parçada kumla ilgili olarak aşağıdakilerin hangisine değinilmemiştir?

- A) Nerede bulunduğuna
- B) Nasıl oluştuğuna
- C) Farklı renklerde türlerinin olabileceğine
- D) Oluşumunun uzun sürdüğüne
- E) Hangi amaçla kullanıldığına

15. Sezen, yaz tatilinde ne yapacaklarını belirlemek için anne ve babasının yanına gitti. Dedesi ve babaannesi Uşak'ta yaşıyordu. Ama Sezen, bu yaz da oraya gitmek istemiyordu. Anne ve babasına İzmir'e gidip gidemeyeceklerini sordu. Onlar da Sezen'e anlayış gösterdi. Sezen'e çok istiyorsa, gidebileceklerini söylediler. Böylece hep birlikte yaz tatilinde İzmir'e gitmeye karar verdiler.

Bu parçada aşağıdaki sorulardan hangisinin cevabı yoktur?

- A) Sezen önceki yaz tatillerinde nereye gidiyordu?
- B) Sezen, anne ve babasına hangi soruyu sordu?
- C) Sezen'in anne ve babasının yanına gitmekteki amacı neydi?
- D) İzmir'de kaç hafta kalmaya karar verdiler?
- E) Sezen'in dedesi ve babaannesi nerede yaşıyorlar?

16.

$$3^3 - 2^4$$

işleminin sonucu kaçtır?

A) 7

B) 8

C) 9

D) 10

E) 11

17.

$$\left(\frac{1}{2} - \frac{1}{3} \right) \div \left(\frac{1}{2} + \frac{1}{3} \right) = ?$$

Yukarıdaki işlemde ? yerine hangi sayı gelmelidir?

A) $\frac{1}{2}$

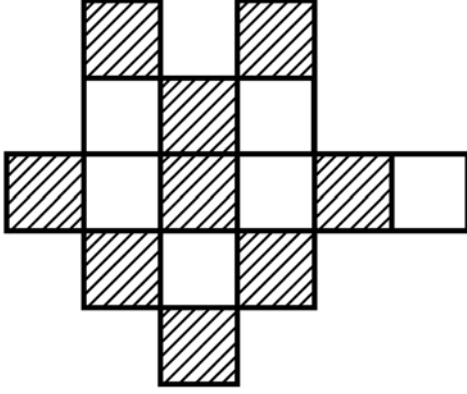
B) $\frac{1}{3}$

C) $\frac{1}{5}$

D) $\frac{2}{5}$

E) $\frac{1}{6}$

18. Aşağıdaki şekil, eş karelerden oluşmuştur.



Buna göre, taralı kısmı gösteren kesir aşağıdakilerden hangisidir?

A) $\frac{3}{4}$

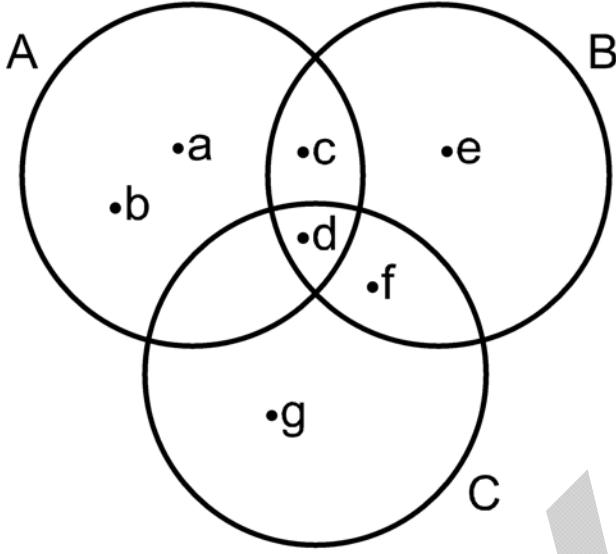
B) $\frac{3}{5}$

C) $\frac{4}{5}$

D) $\frac{5}{6}$

E) $\frac{6}{7}$

19.



Yukarıdaki şemaya göre, $(A \cup B) \cap C$ kümesi aşağıdakilerden hangisidir?

A) {d,f}

B) {c,d}

C) {d,g}

D) {f,e}

E) {c,e}

20.

$$a = \frac{3}{8}, \quad b = \frac{10}{16}, \quad c = \frac{3}{24}$$

Yukarıdaki kesirlerin küçükten büyüğe doğru sıralanışı aşağıdakilerden hangisidir?

A) $c < a < b$

B) $c < b < a$

C) $b < c < a$

D) $b < a < c$

E) $a < c < b$

21.



Yukarıdaki şekiller bir kurala göre dizilmiştir.

Buna göre, ? yerine aşağıdakilerden hangisi gelmelidir?

A) ○

B) □

C) △

D) ⬠

E) ▭

22.

$$\begin{array}{r} 46A \overline{) 3} \\ \underline{} \\ 0 \end{array} \quad \begin{array}{r} 46A \overline{) 4} \\ \underline{} \\ 0 \end{array}$$

Üç basamaklı 46A sayısı 3 ve 4'e kalansız bölünebiliyor.

Buna göre, A kaçtır?

- A) 0 B) 2 C) 4 D) 6 E) 8

23. Aşağıdaki tabloda, dört kişi ve bu kişilerin yaşları verilmiştir.

Kişiler	Yaşları
Ali	27
Kemal	22
Murat	28
Burak	27

Buna göre, bu kişilerin yaş ortalaması kaçtır?

- A) 24 B) 25 C) 26 D) 27 E) 28

24. Bir otomobil bir yolu saatte 48 km sabit hızla 4 saatte alıyor. Sabit hızla giden bir bisikletli ise aynı yolu 6 saatte alıyor.

Buna göre, bisikletlinin saatteki hızı kaç km'dir?

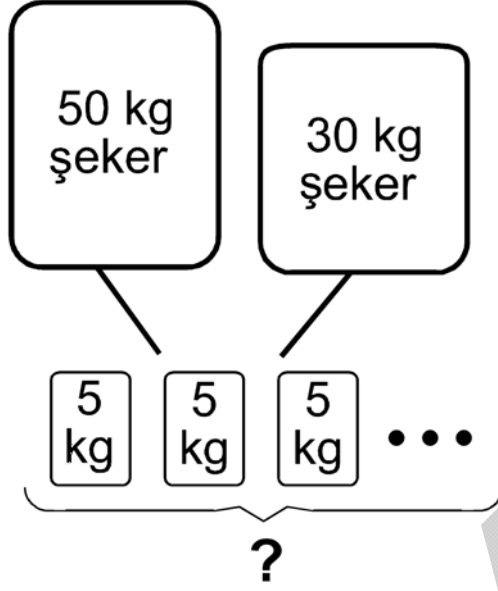
- A) 24 B) 26 C) 30 D) 32 E) 36

25. Ayşe'nin 4 yıl sonraki yaşı, 4 yıl önceki yaşının 3 katı olacaktır.

Buna göre, Ayşe bugün kaç yaşındadır?

- A) 6 B) 8 C) 10 D) 12 E) 14

26.



İki çuvalın birinde 50 kg, diğerinde 30 kg toz şeker vardır. Bu çuvalardaki şekerin tümü beşer kilogramlık poşetlere konulacaktır.

Bu iş için en az kaç poşet gereklidir?

A) 15

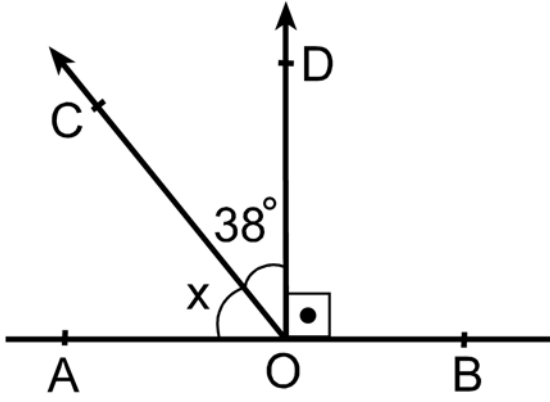
B) 16

C) 18

D) 20

E) 24

27.



$$OD \perp AB$$

$$m(\widehat{COD}) = 38^\circ$$

$$m(\widehat{AOC}) = x$$

Yukarıdaki verilere göre, x kaç derecedir?

A) 42

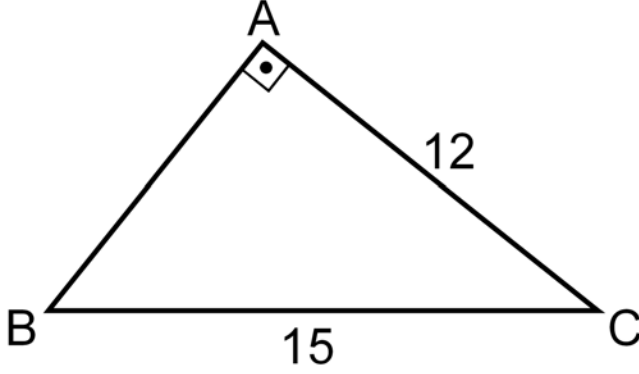
B) 45

C) 48

D) 52

E) 54

28.



ABC bir dik
üçgen

$$|AC| = 12 \text{ cm}$$

$$|BC| = 15 \text{ cm}$$

Yukarıdaki verilere göre, ABC üçgeninin alanı kaç cm^2 dir?

A) 48

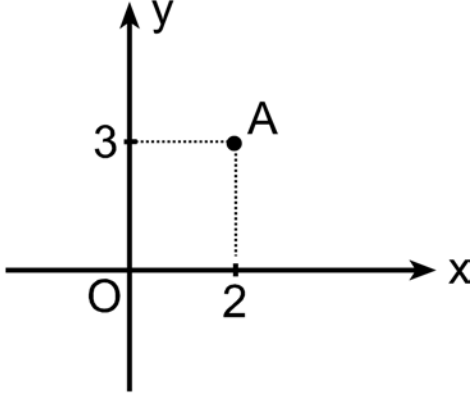
B) 50

C) 54

D) 56

E) 64

30.



Dik koordinat düzleminde verilen A noktasının x eksenine göre simetriği aşağıdakilerden hangisidir?

A) $(2, -3)$ B) $(3, 2)$ C) $(-2, 3)$ D) $(-2, -3)$ E) $(-3, -2)$

Bu test 30 sorudan oluşmaktadır.

1. Aşağıdakilerden hangisi, Avrupa'da kurulan Türk devletlerinden biridir?
- A) Göktürk B) Uygur C) Hazar
D) Macar E) Karluk
2. Aşağıdakilerden hangisi, Ortaçağ Türk-İslam devletlerinde kullanılan silahlardan biri değildir?
- A) Ok B) Mızrak C) Tank
D) Gürz E) Kılıç
3. Aşağıdakilerden hangisi, Osmanlı padişahlarının erkek çocuklarına verilen addır?
- A) Lala B) Şehzade C) Atabey
D) Hakan E) Vezir

4. **Wilson İlkeleri, aşağıdaki devletlerden hangisinin başkanı tarafından açıklanmıştır?**

A) ABD

B) İngiltere

C) Fransa

D) İtalya

E) Almanya

5. **TBMM aşağıdakilerden hangisinin kısaltmasıdır?**

A) Türkiye İş Bankası

B) Türk Tarih Kurumu

C) Teşkilat-ı Esasiye Kanunu

D) Türkiye Radyo ve Televizyon Kurumu

E) Türkiye Büyük Millet Meclisi

6. 1921 Anayasası hangi yıla kadar yürürlükte kalmıştır?

A) 1923

B) 1924

C) 1925

D) 1926

E) 1927

7. Millî Mücadele sürecinde, Doğu Cephesi'nde aşağıdakilerden hangisiyle savaşılmıştır?

A) Ermeniler

B) Fransızlar

C) İtalyanlar

D) Yunanlılar

E) Almanlar

8. Sakarya Savaşı öncesinde başkomutanlık yetkisi aşağıdakilerden hangisine verilmiştir?

A) İsmet İnönü

B) Kâzım Karabekir

C) Refet Bele

D) Mustafa Kemal Atatürk

E) Ali Fuat Cebesoy

9. Aşağıdaki kongrelerden hangisi, millî ekonominin amaçlarının belirlenmesi için toplanmıştır?

A) Erzurum

B) Sivas

C) Türkiye İktisat

D) Alaşehir

E) Balıkesir

10. Kurtuluş Savaşı sonunda imzalanan barış antlaşması aşağıdakilerden hangisidir?

A) Gümrü

B) Lozan

C) Ankara

D) Moskova

E) Kars

11. Tevhid-i Tedrisat (Öğretimin Birleştirilmesi) Kanunu aşağıdaki alanlardan hangisiyle ilgili düzenlemeler içermektedir?

A) Sağlık

B) Tarım

C) Askerlik

D) Ticaret

E) Eğitim

12. Osmanlı Devleti ile Yeni Türk Devleti arasındaki rejim farkını belirleyen ilke aşağıdakilerden hangisidir?

A) Halkçılık

B) Cumhuriyetçilik

C) Devletçilik

D) İnkılapçılık

E) Milliyetçilik

13. Aşağıdakilerden hangisi, Türkiye'nin öncülüğünde bazı Ortadoğu ülkeleri arasında imzalanmıştır?

A) Balkan Antantı

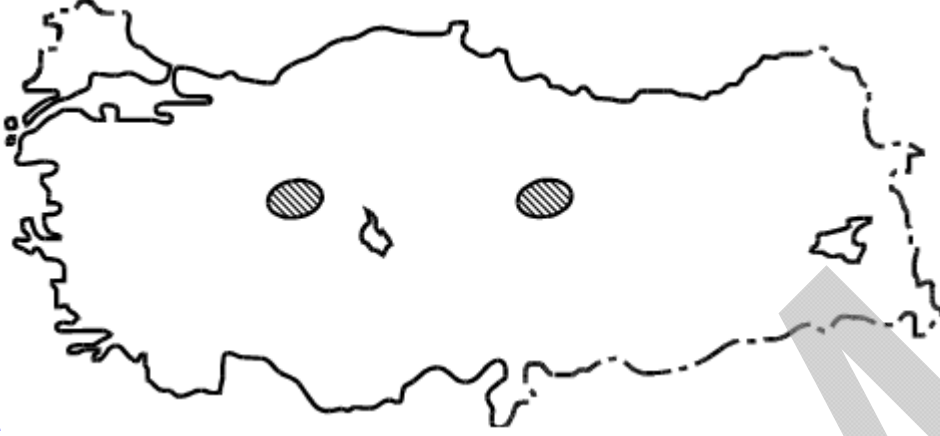
B) Montrö Sözleşmesi

C) Moskova Antlaşması

D) Gümrü Antlaşması

E) Sadabad Paktı

14.



Yukarıdaki haritada taranarak gösterilen, enlem aralıkları ve yüzölçümleri aynı iki yöre için aşağıdakilerden hangisi kesin olarak söylenir?

- A) Akarsu ağının sık olduğu
- B) Yerel saatlerinin aynı olduğu
- C) Tarım ürünleri çeşitliliğinin fazla olduğu
- D) Karasal iklimin görüldüğü
- E) Karstik sahaların yaygın olduğu

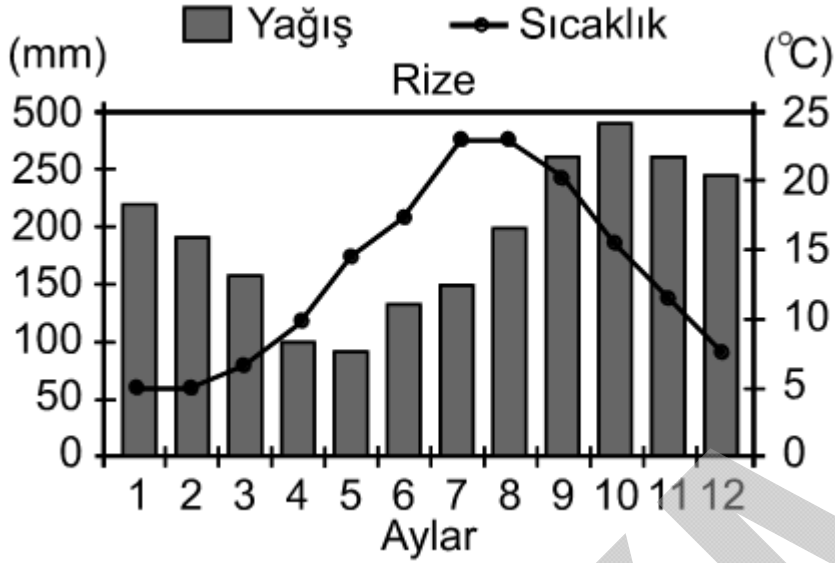
15.

- I. Depremler
- II. Obruklar
- III. Peribacaları
- IV. Kaplıcalar
- V. Toprak kaymaları

Yukarıdaki olay ve yer şekilleri göz önüne alındığında hangilerinin Türkiye’de yaygın olarak bir arada bulunması beklenir?

- A) I ve II
- B) I ve IV
- C) II ve IV
- D) III ve V
- E) IV ve V

16.



Yukarıdaki grafikte Rize iline ait sıcaklık ve yağış değerleri verilmiştir.

Yalnızca grafikteki bilgiler göz önüne alındığında aşağıdakilerden hangisine ulaşamaz?

- A) Yağışın en az olduğu mevsim yazdır.
- B) En yağışlı mevsim sonbahardır.
- C) Yıllık yağış miktarı 2000 mm'den fazladır.
- D) En az yağış mayıs ayında düşmektedir.
- E) Yıllık sıcaklık ortalaması 20 °C'nin altındadır.

17. Akdeniz'in kıyı kesiminde, tarımsal etkinliklerde insan gücüne duyulan gereksinim nedeniyle en fazla mevsimlik göç alan il aşağıdakilerden hangisidir?

A) Antalya

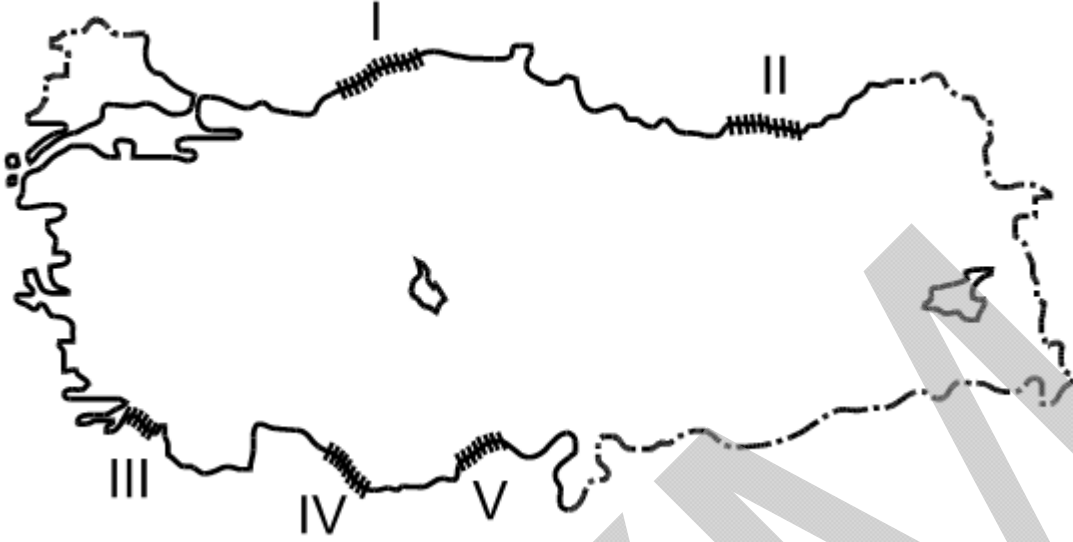
B) Mersin

C) Muğla

D) Hatay

E) Adana

18.



Türkiye'nin kıyı şekilleri göz önüne alındığında yukarıdaki haritada numaralarla gösterilen kıyılardan hangisinin, yat turizmine daha uygun olduğu söylenebilir?

- A) I B) II C) III D) IV E) V

19. Genel seçimlerde oy kullanabilmek için kaç yaşını doldurmuş olmak gerekir?

- A) 15 B) 18 C) 20 D) 22 E) 25

20. **Aşağıdakilerden hangisi demokrasi ilkesi ile bağdaşmaz?**

- A) Kadınların oy hakkının olmaması
- B) Çok partili siyasi hayatın varlığı
- C) Temel hak ve hürriyetlerin tanınması
- D) Yöneticilerin halk tarafından seçimle belirlenmesi
- E) Farklı yaşam tarzlarına saygı gösterilmesi

21. **Aşağıdakilerden hangisi, yürütme organının bir işle-
mi değildir?**

- A) Kanun
- B) Tüzük
- C) Yönetmelik
- D) Kanun hükmünde kararname
- E) Cumhurbaşkanı kararnamesi

22. Aşağıdakilerden hangisi, Bakanlar Kurulunun bir üyesi değildir?

A) Başbakan

B) Adalet Bakanı

C) Dışişleri Bakanı

D) İçişleri Bakanı

E) Yargıtay Başkanı

**23. Anayasamıza göre, yurt dışına çıkan Cumhurbaşkanı-
nina aşağıdakilerden hangisi vekâlet eder?**

A) Cumhurbaşkanı Genel Sekreteri

B) Başbakan

C) TBMM Başkanı

D) Dışişleri Bakanı

E) Adalet Bakanı

24. Anayasamıza göre, aşağıdakilerden hangisi bir yargı organı değildir?

- A) Anayasa Mahkemesi
- B) Danıştay
- C) Yargıtay
- D) Ekonomik ve Sosyal Konsey
- E) Askerî Mahkemeler

25. Tarihî eserlerin sergilendiği yer aşağıdakilerden hangisidir?

- A) Saray
- B) Kütüphane
- C) Han
- D) Kervansaray
- E) Müze

26. Aşağıdakilerden hangisi, dinî bayramlardandır?

- A) Cumhuriyet Bayramı
- B) Kurban Bayramı
- C) Zafer Bayramı
- D) Atatürk'ü Anma Gençlik ve Spor Bayramı
- E) Ulusal Egemenlik ve Çocuk Bayramı

27. Türkiye Cumhuriyeti'nde toplam kaç il vardır?

- A) 79
- B) 80
- C) 81
- D) 82
- E) 83

28. Engelliler Haftası hangi tarihler arasında kutlanmaktadır?

A) 10-16 Mayıs

B) 3-10 Aralık

C) 10-16 Kasım

D) 3-10 Ağustos

E) 16-22 Şubat

29. 2012 yılı Şubat ayı kaç gündür?

A) 27

B) 28

C) 29

D) 30

E) 31

30. Dört yılda bir düzenlenen Dünya Futbol Şampiyonası aşağıdaki ülkelerden hangisinde yapılmamıştır?

A) Meksika

B) İtalya

C) İngiltere

D) Türkiye

E) Fransa

SINAVDA UYULACAK KURALLAR

- 1. Cep telefonu ile sınava girmek kesinlikle yasaktır.** Çağrı cihazı, telsiz, fotoğraf makinesi, cep bilgisayar vb. cihazla; silah ve benzeri teçhizatla; müsvedde kâğıdı, defter, kitap, sözlük, sözlük işlevi olan elektronik aygıt, hesap cetveli, hesap makinesi, pergel, açıölçer, cetvel vb. araçlarla sınava girmek kesinlikle yasaktır. Sınava çanta, kalem, silgi, kalemıraş, saat vb., küpe, bilezik, broş vb. takı ile de girmek yasaktır. Bu şekilde sınava girmiş adayların kimlik bilgileri mutlaka Salon Sınav Tutanağına yazılacak, bu adayların sınavları geçersiz sayılacaktır.
- 2. Sınav başladıktan sonra sınav süresinin $\frac{3}{4}$ 'ü tamamlanmadan önce ve sınavın son 15 dakikası içinde adayın sınavdan çıkmasına izin verilmeyecektir.** Bu süreler dışında sınav süresi bitmeden cevaplamayı tamamlayan adaylar, cevap kâğıdını ve soru kitapçığını salon görevlilerine teslim ederek sınav salonundan ayrılabilir.
- 3. Sınav evrakını teslim ederek sınav salonundan çıkan adaylar veya hangi nedenle olursa olsun sınav binasından ayrılan adaylar tekrar sınav salonuna alınmayacaktır.**
- 4. Sınav süresince görevlilerle konuşmak, görevlilere soru sormak yasaktır.** Aynı şekilde görevlilerin de adaylarla yakından ve alçak sesle konuşmaları, adayların birbirinden kalem, silgi vb. şeyleri istemeleri kesinlikle yasaktır.
- 5. Sınav sırasında, görevlilerin her türlü uyarısına uymak zorundasınız.** Sınavınızın geçerli sayılması, her şeyden önce sınav kurallarına uymanıza bağlıdır. Kurallara aykırı davranışta bulunanların ve yapılacak uyarılara uymayanların kimlik bilgileri tutanağa yazılacak ve sınavları geçersiz sayılacaktır. Sınav süresince kimlik belgelerinizi sıranın üzerinde bırakınız.

Bu testlerin her hakkı saklıdır. Hangi amaçla olursa olsun, testlerin tamamının veya bir kısmının Merkezimizin yazılı izni olmadan kopya edilmesi, fotoğrafının çekilmesi, herhangi bir yolla çoğaltılması, yayımlanması ya da kullanılması yasaktır. Bu yasağa uymayanlar gerekli cezai sorumluluğu ve testlerin hazırlanmasındaki mali külfeti peşinen kabullenmiş sayılır.

SINAVDA UYULACAK KURALLAR

6. Sınav sırasında kopya çeken, çekmeye kalkışan, kopya veren, kopya çekilmesine yardım edenlerin kimlik bilgileri Salon Sınav Tutanağına yazılacak ve bu adayların sınavları geçersiz sayılacaktır. Görevliler kopya çekmeye ya da vermeye kalkışanları uyararak zorunda değildir, sorumluluk size aittir. Adayların test sorularına verdikleri cevapların dağılımları bilgi işlem yöntemleriyle incelenecek, bu incelemelerden elde edilen bulgular bireysel ya da toplu olarak kopya çekildiğini gösterirse kopya eylemine katılan adayın/adayların cevaplarının bir kısmı ya da tamamı iptal edilecektir. Sınav görevlileri bir salondaki sınavın, kurallara uygun biçimde yapılmadığını, toplu kopya girişiminde bulunduğunu raporlarında bildirdikleri takdirde, ÖSYM takdir hakkını kullanarak bu salonda sınava giren tüm adayların sınavını geçersiz sayabilir.
7. Sınavda soru kitapçığı ve cevap kâğıdı birlikte, kapalı bir poşette açılmadan size verilecektir. Poşeti açınız, açmakta güçlük çektiğinizde salon görevlilerinden yardım isteyiniz. Size verilen cevap kâğıdının adınıza olup olmadığını kontrol ediniz. Başka bir aday adına düzenlenmiş sınav evrakını kesinlikle kullanmayınız.
8. Soru kitapçığının sayfalarının eksik olup olmadığını, kitapçıkta basım hatalarının bulunup bulunmadığını kontrol ediniz. Soru kitapçığının sayfası eksik ya da basımı hatalıysa değiştirilmesi için Salon Başkanına başvurunuz.
9. Soru kitapçığında ve cevap kâğıdında doldurmanız gereken alanlar bulunmaktadır. Bu alanları doldurunuz. Cevap kâğıdına yazılacak her türlü yazıda ve yapılacak bütün işaretlemelerde kurşun kalem kullanılacaktır. Tükenmez kalem ve dolma kalem kesinlikle kullanılmayacaktır. Cevapların cevap kâğıdına işaretlenmiş olması gerekir. Soru kitapçığına işaretlenen cevaplar geçerli değildir.

SINAVDA UYULACAK KURALLAR

10. Sınav sonunda soru kitapçıkları toplanacak ve ÖSYM'de tek tek incelenecektir. Soru kitapçığının bir sayfası bile eksik çıkarsa sınavınız geçersiz sayılacaktır.
11. Soru kitapçığının sayfalarındaki boş yerleri müsvedde için kullanabilirsiniz.
12. Soruları ve/veya bu sorulara verdiğiniz cevapları ayrı bir kâğıda yazıp bu kâğıdı dışarı çıkarmanız kesinlikle yasaktır.
13. Sınav süresinin bittiği ilan edildiğinde soru kitapçıkları ve cevap kâğıtları salon görevlileri tarafından toplanıncaya kadar yerlerinizde kalınız.
14. Sınav salonundan ayrılmadan önce soru kitapçığınızı ve cevap kâğıdınızı salon görevlilerine teslim etmeyi unutmayınız.
15. Her testin cevaplarını cevap kâğıdında o test için ayrılmış alana işaretlemeye dikkat ediniz. İlgili testin cevaplarını cevap kâğıdında doğru alana işaretlemediğiniz takdirde oluşacak değerlendirme sonuçlarından sorumlu olduğunuzu unutmayınız.

29 NİSAN 2012
ÖZÜRLÜ MEMUR SEÇME SINAVI (ÖMSS)
ORTAÖĞRETİM
İŞİTME – 1

GENEL YETENEK TESTİ

- | | |
|-------|-------|
| 1. C | 16. E |
| 2. E | 17. C |
| 3. D | 18. B |
| 4. B | 19. A |
| 5. A | 20. A |
| 6. D | 21. E |
| 7. E | 22. E |
| 8. B | 23. C |
| 9. A | 24. D |
| 10. D | 25. B |
| 11. B | 26. B |
| 12. C | 27. D |
| 13. A | 28. C |
| 14. E | 29. B |
| 15. D | 30. A |

GENEL KÜLTÜR TESTİ

- | | |
|-------|-------|
| 1. D | 16. A |
| 2. C | 17. E |
| 3. B | 18. C |
| 4. A | 19. B |
| 5. E | 20. A |
| 6. B | 21. A |
| 7. A | 22. E |
| 8. D | 23. C |
| 9. C | 24. D |
| 10. B | 25. E |
| 11. E | 26. B |
| 12. B | 27. C |
| 13. E | 28. A |
| 14. D | 29. C |
| 15. B | 30. D |