



T.C. Ölçme, Seçme ve Yerleştirme Merkezi

KAMU PERSONEL SEÇME SINAVI ÖN LİSANS

GENEL YETENEK TESTİ
GENEL KÜLTÜR TESTİ

27 EYLÜL 2014 CUMARTESİ

Bu testlerin her hakkı saklıdır. Hangi amaçla olursa olsun, testlerin tamamının veya bir kısmının Merkezimizin yazılı izni olmadan kopya edilmesi, fotoğrafının çekilmesi, herhangi bir yolla çoğaltılması, yayımlanması ya da kullanılması yasaktır. Bu yasağa uymayanlar gerekli cezai sorumluluğu ve testlerin hazırlanmasındaki mali külfeti peşinen kabullenmiş sayılır.

AÇIKLAMA

1. Bu kitapçıkta Kamu Personel Seçme Sınavı (Ön Lisans) **Genel Yetenek Testi** ve **Genel Kültür Testi** bulunmaktadır.
2. Bu testler için verilen toplam cevaplama süresi **120 dakikadır (2 saat)**.
3. Genel Yetenek Testi ve Genel Kültür Testinin her birinde **60 soru** vardır.
4. Bu kitapçıkta testlerde yer alan her sorunun sadece bir doğru cevabı vardır. Bir soru için birden çok cevap yeri işaretlenmişse o soru yanlış cevaplanmış sayılacaktır.
5. İşaretlediğiniz bir cevabı değiştirmek istediğinizde, silme işlemi çok iyi yapmanız gerektiğini unutmayınız.
6. Bu testler puanlanırken doğru cevaplarınızın sayısından yanlış cevaplarınızın sayısının dörtte biri düşülecek ve kalan sayı testle ilgili ham puanınız olacaktır.
7. Cevaplamaya istediğiniz sorudan başlayabilirsiniz. Bir soru ile ilgili cevabınızı, cevap kâğıdında o soru için ayrılmış olan yere işaretlemeyi unutmayınız.
8. Sınavda uyulacak diğer kurallar bu kitapçığın arka kapağında belirtilmiştir.

1. Bu testte 60 soru vardır.

2. Cevaplarınızı, cevap kâğıdının Genel Yetenek Testi için ayrılan kısmına işaretleyiniz.

1. Oscar Wilde, romanlarında kahramanlarına öyle oturaklı sözler söyler ki sözün gücü karşısında şapka çıkarırsınız. Mesela yazarın "Kişinin şiir uğruna yıkılıp gitmesi bir şereftir." sözü sık sık aklıma gelir. Böyle pervasızdır Wilde, üslubunun düğmelerini iliklediği görülmemiştir.

Bu parçadaki altı çizili sözle, yazarla ilgili olarak aşağıdakilerden hangisi anlatılmak istenmiştir?

- A) Edebi geleneklere bağlı kaldığı
B) Çağdaş eserlerin biçiminden etkilendiği
C) Edebiyat dilinde sınır tanımadığı
D) Gündelik meseleleri edebiyata dahil ettiği
E) Farklı söyleyiş özelliklerini harmanladığı

2. **Aşağıdakilerin hangisinde "kalp" sözcüğü yerine "gönül" sözcüğünün kullanılması, cümlenin anlamında değişikliğe yol açmaz?**

- A) Odadan çıkar çıkmaz kalbini tutarak yere yığıldı.
B) Onun kalbini kazanmak için her şeyi yaptı, diyelim.
C) Müdürünü karşısında görünce kalbi küt küt atmaya başladı.
D) Ani bir kalp kriziyle bu dünyadan göçüp gitti.
E) Kalp hastası annesini üzmemek için evi satmadı.

3. (I) İnşaatlar devam ederken çevrelerindeki topraklar suyla dolar ve etrafta yoğun bir çamur tabakası oluşurdu. (II) Biz de çamurdan kar topuna benzer topraklar yapar ve bunları apartmanların duvarına yapıştırmaya çalışırdık. (III) Bir apartmanın yan duvarı çamurluysa yakınlarda inşaat var ve çocuklar yaşıyor demektir. (IV) Sokaklarımızda toprak gördüğümüz ve toprakla temasımızın olduğu günlerdi. (V) Yaratıcılığımızı kaybetmediğimiz, ellerimizi teknolojiye değdirmeye başladığımız zamanlar...

Bu parçadaki numaralandırılmış cümlelerin hangisinde bir çıkarım yapılmıştır?

- A) I B) II C) III D) IV E) V

4. I. İnsanların sanal ortamda temkinli davranmamaları, başlarına *İnternette* ilgili büyük işler açabilir.
II. *İnternetin* bilinçsiz kullanımı, sosyal medyadaki yalan haberlerin etkisini artırmaktadır.
III. *İnternet* kullanımı yaygınlaştıkça sanal ortamda işlenen suçların oranı da yükselebilir.
IV. *İnternet* kullanımıyla ortaya çıkabilecek tehlikelere karşı dikkatli olunmaması kişileri zor durumda bırakabilir.
V. Sanal dünyadaki tehlikelere karşı *İnternet* kullanımında bazı caydırıcı önlemler alınmalıdır.

Yukarıdaki numaralandırılmış cümlelerden hangileri anlamca birbirine en yakındır?

- A) I ve IV B) II ve III C) II ve V
D) III ve IV E) IV ve V

5. (I) İstanbul'a 520 km, İzmir'e 156 km uzaklıkta olan Ayvalık; Akdeniz kıyı şeridinin başladığı yerdedir. (II) Burada Akdeniz iklimi hüküm sürer, turizm canlıdır. (III) Parke taşlı sokakları ve eski yüzlü evleriyle başka bir zamana aitmiş gibi gelir ziyaretçisine. (IV) Ekonomisi ise zeytin ve zeytinyağına dayanır. (V) Bu durum yemeklerine de yansır; Ayvalık, zeytinyağlı yemekleriyle meşhurdur.

Ayvalık'ın anlatıldığı bu parçadaki numaralandırılmış cümlelerle ilgili olarak aşağıdakilerden hangisi yanlıştır?

- A) I. cümlede, konum bildirmede sayısal verilerden yararlanılmıştır.
- B) II. cümlede, mevsim koşullarıyla ilgili bilgi verilmiştir.
- C) III. cümlede, görünüşünün uyandırdığı izlenim belirtilmiştir.
- D) IV. cümlede, gelir kaynaklarının neler olduğu açıklanmıştır.
- E) V. cümlede, mutfak kültüründen söz edilmiştir.

6. **Aşağıdaki cümlelerin hangisinde "yeni" sözcüğü, diğerlerinden farklı bir görevde kullanılmıştır?**

- A) Beni hayata bağlayan, ailemize katılan yeni misafirimizdi.
- B) Etrafına baktıkça daha önce görmediği yeni eşyalar görmeye başlıyordu.
- C) Yan masada oturan arkadaşlar, işe yeni başladılar.
- D) Yeni elbiselerinin içinde o kadar değişmişti ki onu kimse tanıyamadı.
- E) Yaşanan değişiklikler, yeni kararlar almamızı gerektirdi.

7. **Aşağıdaki cümlelerden hangisi sadece özne ve yüklemden oluşmamaktadır?**

- A) Alınan kararları sorgulamak, bizim işimiz değil.
- B) Bu durumu belgeleriyle kanıtlamak mümkündür.
- C) Kameraman, kartalları yuvalarında görüntülemek istedi.
- D) Bizim görevimiz, beyefendiyi kapıda karşılamak.
- E) Eserlerin tümünü müzede sergilemek güzel bir fikir.

8. (I) Böcek dünyasında bazı olağanüstü rekorlar var. (II) Ağustos böceğinin şarkıları 500 metreden duyulabilir. (III) Termit kraliçeleri 50 yıl yaşayabilir. (IV) Birçok böcek, kendisinden 20 kat daha ağır bir yükü kaldırabilir. (V) Bütün bunların yanında, böceklerin en büyüğü olan Kraliçe Alexandra kuş kanatlı kelebeği bile, enine sadece 28 cm uzunluğundadır.

Bu parçadaki numaralandırılmış cümlelerin hangisinde isim tamlaması yoktur?

- A) I B) II C) III D) IV E) V

9. Sokaklarını dolaştıktan sonra çarşısından hediyelik eşya ve ayçiçeği yağı satın alabilir, kıyıda yanyana dizilmiş kahvelerde soluklanabilirsiniz.

Acıktınız mı? Pek çok yöresel yiyecek sizi bekliyor.

Ayrıca deniz ürünleri açısından da oldukça zengin bir yerdesiniz.

Bu parçadaki numaralandırılmış sözlerden hangisinin yazımı yanlıştır?

- A) I B) II C) III D) IV E) V

10. Aile apartmanı gibiydi bizimkisi... Üst katta babamın amcası (I) onun altında halamlar (II) girişte babaanneler (III) bodrumda da amcamlar (IV) Bunun yanında iki kiracı aile (V) bir de tek başına Ayla.

Bu parçadaki numaralandırılmış yerlerden hangisine farklı bir noktalama işareti konmalıdır?

- A) I B) II C) III D) IV E) V

11. (I) Avrupa'nın geri kalanından Pireneler ile ayrılan İspanya, güneyde Kuzey Afrika kıyısına kadar uzanır. (II) Hem Atlantik Okyanusu'na hem de Akdeniz'e kıyısı olan ülke, iki takımadaya sahiptir: Balear ve Kanarya Adaları. (III) Flamenko, boğa güreşleri, tapa barları ve Paskalya geçit törenleri; meraklılarına İspanya'nın kültürel zenginliği hakkında fikir verebilir. (IV) Başkent Madrid, Avrupa'nın rakımı en yüksek başkentidir. (V) Ayrıca İspanya, İsviçre ve Avusturya'dan sonra Avrupa'nın en dağlık ülkesidir.

Bu parçadaki numaralandırılmış cümlelerden hangisi düşüncenin akışını bozmaktadır?

- A) I B) II C) III D) IV E) V

12. (I) Doymuş yağ içeren süt ve süt ürünlerinin şişmanlıkla ilişkisi bilinen bir konudur. (II) Bu ürünlerdeki kalsiyum, kemik gelişimini destekler. (III) Piyasada süt ve süt ürünlerinin az yağlı ya da yağsız türleri de bulunmaktadır. (IV) Bu türler, tam yağlı olanlar kadar besleyicidir. (V) Sadece daha az yağ ve kalori içermektedir. (VI) Eğer seçimlerinizi bu tür süt, peynir ve yoğurttan yana yaparsanız hem daha az kalori alırsınız hem de doymuş yağlardan vücudunuzu korumuş olursunuz.

Bu parçadaki numaralandırılmış cümlelerden hangisi düşüncenin akışını bozmaktadır?

- A) II B) III C) IV D) V E) VI

13. **Aşağıdaki cümlelerin hangisinde anlatım bozukluğu vardır?**

- A) Cemal Süreya ile tanıştığımızda sanki birbirimizi yıllardır tanıyormuşçasına koyu bir muhabbete daldık.
B) Fikret Mualla'nın resimlerinde soğan sarısı tonunu çokça kullanması, sanatının özgün yönlerinden biridir.
C) Eleştirmenler, Roland Barthes'in yazılarını edebî eserler olarak algılıyor ve önem veriyor.
D) Polonya asıllı ünlü yönetmen Kieslowski, bazı filmlerinde yaşamın zorluğu ve yalnızlık konularını işlemiştir.
E) Ara Güler; hayatını fotoğraf sanatına adanmış, hem ülkemizde hem de yurt dışında takip edilen isimlerdendir.

14. (I) *Sanat ve Kuram*, 20. yüzyıl görsel sanat kuramlarına dair kapsamlı bir derleme. (II) Derlemede sanatçıların yanı sıra eleştirmenlerin, filozofların ve politikacıların metinlerine de yer verilmekte. (III) Eserin amacı, sanat araştırmacılarına ve konuya ilgi duyan okurlara, "modern" düşüncenin tarihini ve gelişimini belgeleyen metinlerin bütünlüklü bir derlemesini sunmak. (IV) Bu da eseri okurken felsefe bilginizin yeterli olmasını gerektiriyor. (V) Eserde sadece dünyaca ünlü resimlerin konuları hatırlatılmıyor, resimlerdeki nesne ve yüzeylerin ayırt edici özellikleri de tanıtılıyor. (VI) Dolayısıyla bu çalışma, hem sanat tarihi incelemeleri için değerli bir başvuru kitabı hem de modern sanat örnekleriyle karşılaşmak isteyen okurlar için yararlı bir kaynak.

Bu parça iki paragrafa ayrılacak istenirse ikinci paragraf numaralandırılmış cümlelerin hangisiyle başlar?

- A) II B) III C) IV D) V E) VI

15. Genç romancı; romanı hakkında, ünlü eleştirmenlerden birinin yazdıklarını beğenmemiş. Hatta eleştiriyi okuduktan sonra kızgınlıkla eleştirmeni arayıp "Neyi başaramadınız da eleştirmen oldunuz?" demiş. Aslında, "----" demeye getirmiş. Eleştirmen ise "Ben sarrafım; altın madeni işletmiyorum ama altının hasını bilirim." diye cevap vermiş.

Bu parçada boş bırakılan yere, düşüncenin akışına göre, aşağıdakilerden hangisi getirilmelidir?

- A) Eleştirinin, eserin değerinin anlaşılmasındaki rolünü unutmamalısınız.
B) Her eleştirmen, en az eleştirdiği yazar kadar yeteneklidir.
C) Siz benim gibi yazamadığınız için beni eleştiriyorsunuz.
D) Yazdıklarınıza bir okur bulduğunuz için sevinmelisiniz.
E) Eleştirileriniz eserime katkı sağlamıyor.

16. Türkiye'de temel resim eğitimi başlangıcından itibaren genel çizgileri ile Batı resim sanatı etrafında kurulmuş ve devam etmiştir. Doğu tarzı ve üslupları ancak resim sanatını meslek olarak ele alan fakülte ve yüksekokullarda müfredata girmiştir. Zaman zaman yerli ögeler üzerinde durulmakla birlikte genel eğitim anlayışının Batı ekseninden uzaklaştığını söylemek zordur.

Bu parçada Türkiye'deki resim eğitiminin eleştirilen yönü aşağıdakilerden hangisidir?

- A) Öğrenilecek içeriğin dışlayıcı olması
B) Dünyadaki yaygın eğitim anlayışına uymaması
C) Çoğunlukla taklitçiliğe dayanması
D) Belirli bir seviyeden öteye geçmemesi
E) Usta sanatçılar yetiştirememesi

17. Yönetmenin son filmine hayran olmamak elde değil. Bugüne kadar yaptığı tüm filmlerin üstüne çıkmış. İç içe geçmiş olaylar, duygu ve düşünceleri karmakarışık kahramanlar tertemiz bir üslupla anlatılmış. Yoğun, nefes kesen bir hikâyeye ama hikâyenin dili bir masal berraklığında.

Bu parçada sözü edilen filmle ilgili olarak aşağıdakilerden hangisi söylenebilir?

- A) Senaryo kurmada farklı tekniklere başvurulduğu
B) İşlenen hikâyelerin yaşanmış olaylara dayandığı
C) Yönetmenin diğer filmlerinden daha kapsayıcı olduğu
D) Anlatımda, içerikle karşıtlık oluşturan bir yol seçildiği
E) Yönetmenin sinema dilinin taklit edilmeye başladığı

18. Benim ilk edebî çalışmalarım, didaktik bir tavır takındığım hemen göze çarpar. Ama bu sanıyorum ki farklı bir daldan gelmemin ve bilgileri aktarma isteğimin bir göstergesi. Kuramsal kitaplarımın temelinde de aynı isteğin yer aldığını söyleyebilirim. Bu kitapları üretmemin kendi edebiyatçılığım da yararı oldu. Özellikle *Edebiyat ve Medya* isimli kitabımda, edebiyat araştırmasında varılan son noktaları aktarırken çağa ayak uydurmanın edebiyat kadar edebiyata bakışı da değiştirdiği gerçeğine tanık oldum ve bu bilgileri edebiyat dünyamıza aktarmanın keyfini çıkardım.

Bu parçadan aşağıdakilerin hangisine ulaşamaz?

- A) Edebiyatçı, eserlerinde öğretici bir dil kullanabilir.
- B) Yazar, eserlerinde tek bir konuya odaklanmalıdır.
- C) Eser vermek, yazarın bakış açılarını genişletir.
- D) Yazar, çağdaş yaşamın özelliklerine ayak uydurmalıdır.
- E) Edebiyatçılar, farklı alanlarda deneyim kazanmalıdırlar.

19. Uzmanlara göre dünyanın her yerinde insanların yazılarında ve yaptıkları karalamalarda benzer figürlerin kullanılması bir rastlantı değildir ve bunların evrensel mesajları bulunmaktadır. El yazısı bilimi olarak tanımlanabilecek "grafoloji"den yararlanan psikologlar; insanların yazılarından, imzalarından ve ellerinin altındaki kâğıda farkında olmadan yaptıkları karalamalardan hareketle karakter analizleri yapabilmektedir. Özellikle küçük yaşta çocukların yazılarının analizi yardımıyla onların karakterleriyle ilgili çıkarımlarda bulunmaktadır.

Bu parçadan aşağıdakilerin hangisi çıkarılamaz?

- A) İnsanların bilinçsizce gerçekleştirdiği davranışlar, anlamlı olabilir.
- B) Kişilik özellikleri, grafoloji ile küçük yaşlardan itibaren tahmin edilebilir.
- C) Güzel yazı yazan insanların karakterlerinin de sağlam olması beklenir.
- D) El yazısıyla ilgili olarak evrensel nitelikte sonuçlara ulaşılabilir.
- E) Farklı yerlerde yaşayan kişiler, bazı ortak özellikler sergileyebilir.

20. - 21. soruları aşağıdaki parçaya göre cevaplayınız.

Bazı hastalıklar uygun antrenmanlarla tedavi edilebilir. Mesela böbrek taşlarını düşürmek için top oynamak, nefes darlığından kurtulmak için ok atmak, hazımsızlık çekmemek için uzun yürüyüşler yapmak, baş ağrısını gidermek için de ata binmek etkili yollardandır. Aynı durum insan zihni için de geçerlidir. Bir kişinin odaklanma sorunu varsa matematikle uğraşmak ona dikkatini belli bir yerde toplamayı öğretebilir. İki konu arasında ilgi kurmakta zorlanıyorsa hukuk davalarını incelemek faydalı olabilir. Ayrıntıları gözden kaçırıyorsa polise roman okuyarak bu eksikliğini ortadan kaldırabilir. Özetle, zihinsel işleyiş de çeşitli yöntemlere başvurularak iyileştirilip geliştirilebilir.

20. Bu parçada anlatılmak istenen aşağıdakilerin hangisidir?

- A) Bedensel rahatsızlıklardan kurtulmanın yolu tıbbi tedavilerdir.
- B) Her spor türünün tedavi ettiği bir rahatsızlık vardır.
- C) Beden gibi, zihin de farklı egzersizlerle güçlendirilebilir.
- D) Zihinsel gelişim, farklı alanlarda uzmanlık kazanmaya bağlıdır.
- E) Düzenli spor yapan ve okuyan kişi her türlü hastalıktan korunur.

21. Bu parçanın anlatımıyla ilgili olarak aşağıdakilerden hangisi söylenemez?

- A) Karşılaştırma yapılmıştır.
- B) Terimler kullanılmıştır.
- C) Örneklere başvurulmuştur.
- D) Sebep-sonuç ilişkisi kurulmuştur.
- E) Tanıma yer verilmiştir.

22. - 23. soruları aşağıdaki parçaya göre cevaplayınız.

(I) Radyo ve televizyondan önce halk hikâyeleri dede ve ninelerimizin yaptığı sohbetlerde yaşıyordu. (II) Bugün artık hikâye anlatan dede ve nineler yok. (III) Kitle iletişim araçlarının yaygınlaşması, geleneksel kültür öğelerinin nesilden nesile aktarıldığı aile sohbetlerini de azalttı. (IV) Bugün "Keloğlan Masalları"nın bile modasının geçtiği düşünülüyor. (V) Bunları genç nesillere tanıtması beklenen büyükler de çoğu zaman kendilerini teknolojinin büyüüne kaptırabiliyor.

22. Bu parçadan aşağıdakilerin hangisine ulaşamaz?

- A) Halk kültürü, sözlü iletişim ortamlarında nesilden nesile aktarılır.
- B) Keloğlan Masalları önemli bir kültürel mirastır.
- C) Kitle iletişim araçları toplumumuzu kültürel yönden değiştirmektedir.
- D) Kültür öğelerinin korunması ve yaşatılmasında yetişkinlere görev düşmektedir.
- E) Günümüzde halk hikâyeleri yerini dizi filmlere bırakmıştır.

23. Bu parçadaki numaralandırılmış cümlelerin hangisinde neden-sonuç ilişkisi vardır?

- A) I B) II C) III D) IV E) V

24. - 26. soruları aşağıdaki parçaya göre cevaplayınız.

(I) Ülkemizde organ bağıışı her geçen yıl bir öncekine göre yaklaşık iki kat artsa da hâlâ yetersiz kalıyor ve bağıış ihtiyacı büyük bir hızla artmaya devam ediyor. (II) Ne yazık ki kadavradan organ bağıışında Avrupa ve ABD ortalamasının çok altındayız. (III) Organ nakli sayısında gelişmiş ülkelerle aramızda yaklaşık on kat fark olduğu görülüyor. (IV) Her yıl 6-7 bin kişi organ beklerken yaşamını kaybediyor. (V) Uzmanlar, kadavradan yapılan nakil sayısının artırılması için yoğun bakım ünitelerinde meydana gelen beyin ölümlerinin zamanında tespit edilerek ailelerle temas kurulabileceğini belirtiyor.

24. Bu parçadan aşağıdakilerin hangisine ulaşamaz?

- A) Organ bağıışındaki artış, gereksinimi karşılayacak düzeyde değildir.
- B) Organ bağıışının artmasında hastanelerde yapılacak çalışmalar önemlidir.
- C) Ülkemizde organ nakli konusunda yeterli deneyime sahip uzman azdır.
- D) Binlerce kişinin hayatı organ yetmezliği yüzünden sona ermektedir.
- E) Beyin ölümü gerçekleşen kişilerin organları, başkalarına umut olabilir.

25. Bu parçadaki numaralandırılmış cümlelerin hangilerinde karşılaştırma yoktur?

- A) I ve II
- B) I ve III
- C) II ve IV
- D) III ve V
- E) IV ve V

26. Bu parçadaki numaralandırılmış cümlelerle ilgili olarak aşağıdakilerden hangisi yanlıştır?

- A) I. cümlede, organ bağıışı miktarındaki değıışim açıklanmıştır.
- B) II. cümlede, organ nakli yönteminden söz edilmiştir.
- C) III. cümlede, yetersizlik sayısal olarak verilmiştir.
- D) IV. cümlede, organ nakliyle ilgili olumsuz bir durum dile getirilmiştir.
- E) V. cümlede, nakillerin başarıyla sonuçlanması için yapılacaklar anlatılmıştır.

27. - 30. soruları aşağıdaki bilgilere göre birbirinden bağımsız olarak cevaplayınız.

Bir yatılı okulda öğretmenler sadece haftanın ilk üç günü (pazartesi, salı ve çarşamba) tek başlarına nöbet tutmaktadır. Diğer günler nöbet tutulmamaktadır. İki haftalık nöbet listesinde adları bulunan Ayşe, Burak, Ceren, Deniz, Ege ve Fatih'in nöbet günlerine ilişkin kimi bilgiler şöyledir:

- Ceren ile Deniz'in nöbetleri farklı haftaların aynı günlerindedir.
- İlk hafta nöbeti ilk tutacak kişi Ege'dir.
- Ayşe ile Fatih farklı hafta ve günlerde nöbet tutacaktır.
- Deniz'den sonraki gün nöbet tutacak kişi Burak'tır.

27.

- Fatih
- Burak
- Ceren

Yukarıdaki kişilerden hangilerinin nöbeti çarşamba günü olabilir?

- A) Yalnız I B) Yalnız III C) I ve II
D) II ve III E) I, II ve III

28. Aşağıdaki ifadelerden hangisi kesinlikle doğrudur?

- A) İlk hafta nöbet tutacak kişilerden biri Ayşe'dir.
B) Deniz'in nöbeti ikinci haftadır.
C) Ayşe'den sonra nöbet tutacak kişi Fatih'tir.
D) Ayşe ile Ceren'in nöbeti aynı haftadır.
E) Burak'tan sonraki gün Ceren nöbet tutacaktır.

29. Burak ile Fatih'in aynı hafta nöbet tutacağı biliniyorsa aşağıdaki ifadelerden hangisi yanlıştır?

- A) Ayşe'nin nöbeti çarşamba günüdür.
B) Fatih ile Ege'nin nöbetleri aynı gündür.
C) Ceren, nöbetini salı günü tutacaktır.
D) İkinci haftanın salı nöbetini Deniz tutacaktır.
E) İkinci haftanın ilk nöbetini Burak tutacaktır.

30. Aşağıdaki kişilerden hangilerinin nöbetleri kesinlikle farklı günlerdedir?

- A) Ege ile Fatih B) Ayşe ile Burak
C) Ayşe ile Ege D) Burak ile Fatih
E) Burak ile Ege

31.

$$\frac{\frac{3}{2} - \frac{4}{3} + \frac{1}{4}}{2 - \frac{1}{3} + \frac{5}{4}}$$

işleminin sonucu kaçtır?

- A) $\frac{1}{3}$ B) $\frac{1}{4}$ C) $\frac{1}{7}$
D) $\frac{2}{3}$ E) $\frac{5}{8}$

32.

$$\frac{0,1}{(0,2)^2} - \frac{0,2}{(0,4)^2}$$

işleminin sonucu kaçtır?

- A) 1,25 B) 1,5 C) 2 D) 2,25 E) 2,5

33.

$$\frac{3 \cdot 2^9 + 6 \cdot 2^5}{12^3}$$

işleminin sonucu kaçtır?

- A)
- $\frac{1}{2}$
- B)
- $\frac{2}{3}$
- C)
- $\frac{3}{4}$
-
- D) 1 E) 2

34.

$$(3\sqrt{8} + 3\sqrt{5} - 2\sqrt{2})(\sqrt{45} + \sqrt{18} - 7\sqrt{2})$$

işleminin sonucu kaçtır?

- A) 9 B) 11 C) 13 D) 15 E) 17

35.

$$8^{x-1} + 8^x = 18$$

olduğuna göre, 27^x ifadesinin değeri kaçtır?

- A) 9 B) 18 C) 36 D) 72 E) 81

36. x ve y pozitif tam sayıları

$$y = \frac{2x+11}{x+1}$$

eşitliğini sağlamaktadır.

Buna göre, y'nin alabileceği değerler toplamı kaçtır?

- A) 6 B) 8 C) 9 D) 10 E) 12

37.

$$\frac{a^3 - ab^2}{ab^3 - a^4} \cdot \frac{a^2 + ab + b^2}{a}$$

ifadesinin sadeleştirilmiş biçimi aşağıdakilerden hangisidir?

- A) $b + \frac{1}{a}$ B) $a - \frac{1}{a}$ C) $\frac{-1}{a^2}$
D) $1 - \frac{1}{a}$ E) $-1 - \frac{b}{a}$

38. a ve b asal sayılar olmak üzere,

$$\frac{a^2 - b^2 - 3}{a^2 - b^2 + 3} = \frac{3}{4}$$

olduğuna göre, a + b toplamı kaçtır?

- A) 5 B) 7 C) 8 D) 9 E) 12

39.

$$|x-3| + |5-x| = 2$$

eşitliğini sağlayan x tam sayılarının toplamı kaçtır?

- A) 8 B) 9 C) 10 D) 12 E) 14

40. $X = \{1, 2, 3, 4, 5, 6\}$ kümesi için

$$A \cap \{2, 4, 6\} = \emptyset$$

olacak şekilde X 'in kaç tane A alt kümesi vardır?

- A) 4 B) 6 C) 8 D) 10 E) 12

41.

$$f(x+1) - f(x-1) = 2x + 3$$

olduğuna göre, $f(2) - f(-2)$ farkı kaçtır?

- A) 2 B) 3 C) 4 D) 5 E) 6

42. Gerçel sayılar kümesi üzerinde \oplus işlemi, her a ve b gerçel sayısı için

$$a \oplus b = a(a+b)^2 - 1$$

biçiminde tanımlanıyor.

Buna göre, $(k+1) \oplus (2-k) = 20$ eşitliğini sağlayan k değeri kaçtır?

- A) $\frac{4}{3}$ B) $\frac{5}{3}$ C) $\frac{7}{4}$
D) $\frac{8}{5}$ E) $\frac{9}{5}$

43. a pozitif tam sayısı 15'ten küçük ve

$$\text{EBOB}(9, a) = \text{EBOB}(4, a)$$

olduğuna göre, a 'nın alabileceği değerlerin toplamı kaçtır?

- A) 37 B) 40 C) 43 D) 46 E) 49

44. $y < x$ ve $x + y < 0$ olduğuna göre,

I. $y < 0$

II. $x^2 < y^2$

III. $x - y < -1$

ifadelerinden hangileri doğrudur?

A) Yalnız II B) Yalnız III C) I ve II

D) I ve III E) I, II ve III

45. Bir bahçeye toplam 250 tane ceviz ve badem fidanı dikiliyor. Bir süre sonra, ceviz fidanlarının % 16'sı ve badem fidanlarının % 12'si kuruyor.

Kuruyan toplam fidan sayısı 32 olduğuna göre, dikilen badem fidanlarının sayısı ceviz fidanlarının sayısından kaç fazladır?

A) 135 B) 140 C) 145 D) 150 E) 155

46. A ve B şirketlerinin borsada işlem gören hisselerinin adet fiyatları, sırasıyla 30 TL ve 20 TL iken bir yatırımcı her iki şirketten de eşit sayıda hisse alıyor. Bir süre sonra, A şirketinin hisselerinin değeri % 40 artıp B şirketinin hisselerinin değeri % 30 azaldığında bu hisselerin tamamını satıyor.

Buna göre, yatırımcı bu işlemten yüzde kaç kâr elde etmiştir?

A) 8 B) 9 C) 12 D) 15 E) 16

47. Arda, Buse, Cenk ve Duru bir lokantada akşam yemeği yedikten sonra gelen hesabı Arda ve Buse birlikte öder. Ertesi gün Cenk ve Duru;

- Arda'ya toplam 22 TL
- Buse'ye toplam 30 TL

öder ve böylece gelen hesabı eşit paylaşmış olurlar.

Buna göre, Arda lokantada kaç TL ödemiştir?

A) 48 B) 50 C) 52 D) 54 E) 56

48. Ahmet ardışık 9 sayıyı topladığını düşünerek toplamı 72 bulmuş, ancak ortanca sayıyı toplamayı unutmuştur.

Buna göre, bu sayıların en küçüğü kaçtır?

- A) 4 B) 5 C) 6 D) 7 E) 8

49. Bir su dolum tesisinde bulunan iki farklı makineden;

- 0,5 litrelik şişeleri dolduran A makinesi 3 saniyede 2 şişe,
- 1 litrelik şişeleri dolduran B makinesi 10 saniyede 3 şişe doldurmaktadır.

Bu iki makine 1 dakikada toplam kaç litre su doldurur?

- A) 36 B) 37 C) 38 D) 39 E) 40

50. Bir hayvanat bahçesinde bulunan penguenlerin 45 tanesi erkektir. Bu hayvanat bahçesindeki erkek ve dişi penguen sayılarını eşitlemek için, toplam penguen sayısının dörtte biri kadar dişi penguen getiriliyor.

Buna göre, hayvanat bahçesine kaç tane dişi penguen getirilmiştir?

- A) 12 B) 15 C) 18 D) 21 E) 24

51. İki araç bir yarış pistinde aynı noktadan sabit hızlarla aynı anda yarışa başlıyorlar. Hızlı olan aracın yarışı bitirmesine 1000 metre kaldığı anda yavaş olan aracın yarışı bitirmesine 3000 metre kalıyor.

Hızlı araç bu yarışı yavaş araçtan 2250 metre önde bitirdiğine göre, yarış yapılan pistin uzunluğu kaç metredir?

- A) 7500 B) 8000 C) 8500
D) 9000 E) 9500

52. Kenan ve babasının yaşlarıyla ilgili olarak aşağıdakiler bilinmektedir.

- İkisinin yaşları toplamı 81'dir.
- Kenan babasının yaşına geldiğinde Kenan'ın yaşı, babasının yaşının üçte ikisine eşit olacaktır.

Buna göre, Kenan kaç yaşındadır?

- A) 23 B) 25 C) 27 D) 30 E) 32

53. 28 kişinin yaşadığı bir apartmanda kapı numaraları 1, 2, 3, 4 ve 5 olan beş daire bulunmaktadır. Bu dairelerden numaraları ardışık olan herhangi ikisinde toplam 11 kişi yaşamaktadır.

Buna göre, apartmanın 2 numaralı dairesinde kaç kişi yaşamaktadır?

- A) 4 B) 5 C) 6 D) 7 E) 8

54. Bir galeride; A ve B markalarının her birinden kırmızı, beyaz ve mavi renkte olmak üzere toplam 6 otomobil vardır. Bu otomobiller, her birinin yanındaki otomobil farklı renk ve farklı marka olacak biçimde sıralanacaktır.

Buna göre, bu sıralama kaç farklı biçimde yapılabilir?

- A) 9 B) 12 C) 15 D) 16 E) 18

55. 3 sarı ve 3 mavi renkte olmak üzere toplam 6 topun bulunduğu bir torbadan rastgele bir top çıkarılıp yerine sarı bir top atılıyor.

Son durumda, torbadan rastgele çekilecek bir topun sarı olma olasılığı kaçtır?

- A) $\frac{1}{3}$ B) $\frac{5}{6}$ C) $\frac{4}{9}$
D) $\frac{7}{12}$ E) $\frac{11}{24}$

56. - 57. soruları aşağıdaki bilgilere göre birbirinden bağımsız olarak cevaplayınız.

Dijital bir saatte ilk iki rakam saati, son iki rakam ise dakikayı ifade eder. Bazı durumlarda saati gösteren rakamların çarpımı ve dakikayı gösteren rakamların çarpımı birbirine eşittir.

Örneğin; 08:04, 16:23, 21:12

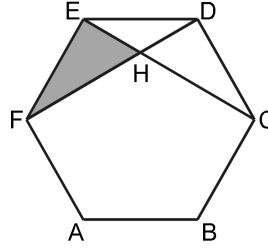
56. Buna göre, saat 19:00 ile 21:00 arasında bu eşitliği sağlayan kaç durum vardır?

- A) 10 B) 12 C) 15 D) 17 E) 20

57. $A \neq C$ olmak üzere, saat 14:00 ile 17:00 arasında bu eşitliği sağlayan kaç tane AB:CD durumu vardır?

- A) 2 B) 3 C) 4 D) 5 E) 6

58.



ABCDEF bir düzgün altıgen

$$[CE] \cap [DF] = \{H\}$$

Şekildeki EFH üçgeninin alanı 3 birim kare olduğuna göre, altıgenin alanı kaç birim karedir?

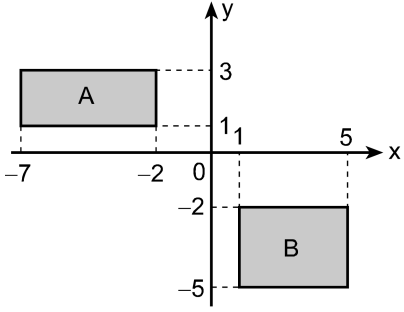
- A) 18 B) 24 C) 27 D) 30 E) 36

59. Kenar uzunluğu 4 birim olan üç tane özdeş küp birbirine yapıştırılarak bir dikdörtgenler prizması elde ediliyor.

Buna göre, elde edilen bu prizmanın hacmi kaç birim küptür?

- A) 160 B) 172 C) 180 D) 192 E) 200

60.



Yukarıdaki dik koordinat düzlemi üzerinde A ve B dikdörtgensel bölgeleri verilmiştir. A'nın y-eksenine göre simetriği alınarak C bölgesi, B'nin x-eksenine göre simetriği alınarak D bölgesi oluşturuluyor.

Buna göre, oluşturulan C ve D bölgelerinin arakesitinin alanı kaç birim karedir?

A) 2

B) 3

C) 4

D) $\frac{5}{2}$ E) $\frac{7}{2}$

1. Bu testte 60 soru vardır.

2. Cevaplarınızı, cevap kâğıdının Genel Kültür Testi için ayrılan kısmına işaretleyiniz.

1. 562'de Bayan Han tarafından Orta Avrupa'da kurulan, 805'te Franklar tarafından yıkılan ve İstanbul'u iki kez kuşatan devlet aşağıdakilerden hangisidir?

- A) Hazar
B) Bulgar
C) Avar
D) Türgeş
E) Avrupa Hun

2. Aşağıda verilen Türk-İslam bilginlerinden hangisinin çalıştığı alan yanlış verilmiştir?

- A) Farabi – Müzik, Felsefe, Fizik
B) Gazali – Felsefe, Hukuk, İlahiyat
C) İbni Rüşd – Coğrafya, Tıp
D) İbni Fadlan – Coğrafya, Diplomasi
E) İbni Sina – Tıp, Felsefe

3. Anadolu Selçuklu Dönemi'nde tarih yazıcılığına önem verilmiş ve Selçuklu sultanları için Farsça tarih kitapları yazılmıştır.

Aşağıdakilerden hangisi, belirtilen dönemin tarih kitabı yazarlarından?

- A) İbni Bibi
B) Yunus Emre
C) Âşık Paşa
D) Gülşehri
E) Hoca Dehhani

4. Osmanlı Dönemi'nde bir ustanın yanında çalışan çırağın o işte ustalaştığı ve işi yapmada ehliyet sahibi olduğunu gösteren belge aşağıdakilerden hangisidir?

- A) Hüccet
B) Ferman
C) İcazet
D) Sertifika
E) Senet

5. XVII. yüzyılda Osmanlı Devleti'nde görülen

- I. Yeniçeri Ocağı'nın bozulması,
II. cülus bahşişi dağıtımında aksaklıkların olması,
III. saray kadınlarının merkez askerini kıskırtması

gelişmeleri aşağıdakilerden hangisinin ortaya çıkmasında etkili olmuştur?

- A) İstanbul isyanları
B) Celali isyanları
C) Eyalet isyanları
D) Azınlık isyanları
E) Taht kavgaları

6. XVI. yüzyılın sonlarından itibaren bazı Osmanlı yazarları, devletin içine düştüğü buhran dönemi ve bundan kurtulma çarelerinin yer aldığı birtakım eserler kaleme almışlardır.

Aşağıdakilerden hangisi, ıslahat düşüncesinin öne çıktığı eserleri kaleme alan yazarlardan biri değildir?

- A) Hasan Kâfi el-Akhisari
- B) Kâtip Çelebi
- C) Hoca Sadeddin Efendi
- D) Gelibolulu Mustafa Âli
- E) Koçi Bey

7. **Aşağıdakilerden hangisi Genç Osmanlılardan biri değildir?**

- A) Ahmet Cevdet Paşa
- B) Namık Kemal
- C) Şinasi
- D) Ziya Paşa
- E) Ali Suavi

8. **Osmanlı Devleti'nin ilk Türk kadın yazarı olarak bilinen ve Hanımlara Mahsus Gazete'de kadın sorunlarına ilişkin yazılar yazarak ilk kadın hakları savunucusu olan yazar aşağıdakilerden hangisidir?**

- A) Fatma Aliye
- B) Halide Edip
- C) Emine Semiye
- D) Fatma Müzehher
- E) Fatma Kevser

9. **Osmanlı Devleti'nde ilk kez anayasaya dayalı parlamentolu sisteme geçiş, aşağıdaki padişahlardan hangisi döneminde gerçekleştirilmiştir?**

- A) II. Abdülhamit
- B) III. Selim
- C) II. Mahmut
- D) Abdülmecit
- E) Abdülaziz

10. **Türk modernleşme tarihinde yenileşmeyi ilk defa geniş bir program çerçevesinde, devlet adamı ve uzmanların hazırladığı raporlar (layihalar) doğrultusunda yürütmeye çalışan Osmanlı padişahı aşağıdakilerden hangisidir?**

- A) III. Selim
- B) III. Ahmet
- C) II. Mahmut
- D) II. Abdülhamit
- E) Abdülmecit

11. **Valilik ve Şura-yı Devlet başkanlığı görevlerinde bulunan ve Kanunuesasi'yi hazırlayan komisyona başkanlık eden Osmanlı devlet adamı aşağıdakilerden hangisidir?**

- A) Sait Paşa
- B) Mithat Paşa
- C) Ahmet Vefik Paşa
- D) Ahmet Cevdet Paşa
- E) Mustafa Reşit Paşa

12. XIX. yüzyılda Osmanlı Devleti'nde görülen aşağıdaki fikir akımları ve bu akımları savunan kişi eşleştirmelerinden hangisi doğrudur?

- A) Batıcılık - Abdullah Cevdet
- B) İslamcılık - Ziya Gökalp
- C) Türkçülük - Ziya Paşa
- D) Osmanlıcılık - Ömer Seyfettin
- E) Batıcılık - Yusuf Akçura

13. Mustafa Kemal'in "Gazeteci Şerif" adını kullanarak katıldığı savaş aşağıdakilerden hangisidir?

- A) Trablusgarp Savaşı
- B) I. Balkan Savaşı
- C) II. Balkan Savaşı
- D) Çanakkale Savaşı
- E) II. İnönü Savaşı

14. Aşağıdakilerden hangisi, Atatürk'ün öğrenim gördüğü okullardan biri değildir?

- A) Harp Okulu
- B) Manastır Askerî İdadisi
- C) Selânik Askerî Rüştiyesi
- D) Kuleli Askerî İdadisi
- E) Şemsi Efendi Mektebi

15. Mustafa Kemal aşağıdakilerin hangisinden sonra askerlik görevinden istifa etmiştir?

- A) Amasya Genelgesi'nin yayımlanması
- B) Temsilciler Kurulu'nun Ankara'ya gelmesi
- C) Sivas Kongresi'nin yapılması
- D) Misakımillî'nin ilan edilmesi
- E) Amasya Görüşmeleri'nin yapılması

16. Aşağıdakilerden hangisi İstanbul'un Anlaşma Devletleri tarafından resmen işgal edilmesinin nedenlerinden biri değildir?

- A) Ankara'da TBMM'nin açılması
- B) Misakımillî'nin kabul edilmesi
- C) Maraş'ın Fransızların kontrolünden çıkması
- D) Urfa'daki direnişin yoğunlaşması
- E) Batı Cephesi'nde Yunan ordusuna karşı direnişin artması

17. 1921 Anayasası'nda yer alan aşağıdaki hükümlerden hangisi, meşrutiyet idaresinden cumhuriyet yönetimine geçileceğine dair bir işarettir?

- A) Egemenlik kayıtsız şartsız milletindir.
- B) Yürütme ve yasama yetkisi meclistedir.
- C) Antlaşma ve barış yapma yetkisi TBMM'dedir.
- D) Meclis başkanı hükûmetin de başkanıdır.
- E) Seçimler iki yılda bir yapılır.

18. Lozan Barış Konferansı'na gözlemci olarak katılan devlet aşağıdakilerden hangisidir?

- A) Amerika Birleşik Devletleri
- B) Yunanistan
- C) Sovyet Rusya
- D) Almanya
- E) Japonya

19.

- Laikleşme yolunda önemli bir adım atılmıştır.
- Osmanlı ailesinin tüm fertleri yurt dışına çıkarılmıştır.

Verilen bu bilgiler, aşağıdakilerden hangisinin sonuçlarındandır?

- A) Halifeliğin kaldırılması
- B) Teşkilat-ı Esasiye Kanunu'nun çıkarılması
- C) Cumhuriyetin ilan edilmesi
- D) Şer'iye ve Evkaf Vekâletinin kaldırılması
- E) Tevhid-i Tedrisat Kanunu'nun çıkarılması

20. Türk Medeni Kanunu'nun kabul edilmesiyle aşağıdaki kurumlardan hangisinin faaliyet alanı daralmıştır?

- A) TBMM
- B) Millî Eğitim Bakanlığı
- C) Fener Rum Patrikhanesi
- D) İstiklal Mahkemeleri
- E) Erkân-ı Harbiye-i Umumiye Riyaseti

21. Mustafa Kemal, Millî Mücadele sırasında millî iradeye vurgu yapmış, kongrelerde ve TBMM'de milletin temsilcileri ile birlikte hareket etmiştir.

Aşağıdakilerden hangisi bu politikaya işaret etmektedir?

- A) Demokrasi
- B) Oligarşi
- C) Monarşi
- D) Teokrasi
- E) Meşrutiyet

22. Atatürk 1933 yılında Afet İnan'a şunları yazdırmıştır: "Türk ulusunu son yüzyıllarda geri bırakmış olan kurumları değiştirerek yerlerine ulusun en yüksek medeni gereksinmelere göre ilerlemesini sağlayacak yeni kurumları koymuş olmaktadır."

Atatürk'ün bu sözleri aşağıdaki ilkelerden hangisiyle ilgilidir?

- A) İnkılapçılık
- B) Cumhuriyetçilik
- C) Milliyetçilik
- D) Halkçılık
- E) Devletçilik

23. Lahey Sürekli Adalet Divanı'nın Atatürk Dönemi'nde Türkiye lehine karar verdiği sorun aşağıdakilerden hangisidir?

- A) Bozkurt-Lotus
- B) Etabli
- C) Musul
- D) Kıbrıs
- E) Adalar

24. Ankara Antlaşması'ndaki bir hükümlerle Türkiye'ye ait olduğu belirtilen ve Süleyman Şah'ın mezarının bulunduğu Caber Kalesi aşağıdaki devletlerden hangisinin sınırları içindedir?

- A) Suriye B) İran
C) Irak D) Azerbaycan
E) Gürcistan

25. Aşağıdakilerden hangisi, II. Dünya Savaşı'na giden süreçte yapılmış bir ittifak veya antlaşma değildir?

- A) Balkan Antantı
B) Türk-Afgan Dostluk Antlaşması
C) Sadabat Paktı
D) Montrö Sözleşmesi
E) Türk-İngiliz Akdeniz İttifakı

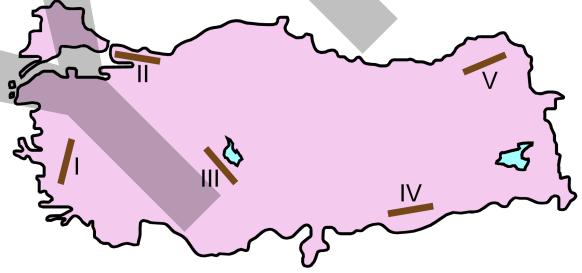
26. Aşağıdakilerden hangisi, Demokrat Parti Dönemi'nde gerçekleşen olaylardan biri değildir?

- A) Ankara Üniversitesinin kurulması
B) Atatürk'ü Koruma Kanunu'nun kabul edilmesi
C) Türkiye İşçi Sendikaları Konfederasyonunun kurulması
D) Tahkikat Komisyonu'nun kurulması
E) Yabancı Sermayeyi Teşvik Kanunu'nun çıkarılması

27. Şangay İşbirliği Örgütü'ne üye olan ülkeler aşağıdakilerin hangisinde birlikte verilmiştir?

- A) Çin, Rusya, Japonya, Kazakistan, Özbekistan, Ukrayna
B) Çin, Rusya, Kazakistan, Tacikistan, Özbekistan, Kırgızistan
C) Rusya, Hindistan, Tacikistan, Kırgızistan, Singapur, Malezya
D) Kazakistan, Kırgızistan, Tacikistan, Özbekistan, Azerbaycan, Türkiye
E) Ukrayna, Beyaz Rusya, Çin, Japonya, Hindistan, Moğolistan

28. Aşağıdaki haritada numaralandırılarak koyu renkle gösterilmiş beş doğrultu verilmiştir.



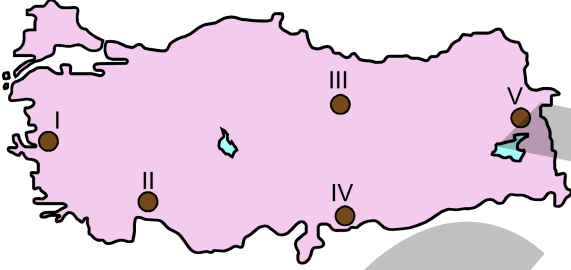
Yer şekli özellikleri göz önünde alındığında, doğrultu boyunca yükselti farkının en fazla olduğu yer aşağıdakilerden hangisidir?

- A) I B) II C) III D) IV E) V

29. Bir Türkiye fiziki haritası incelendiğinde Çukurova'nın yeşil, Konya Ovası'nın sarı, Erzurum Ovası'nın kahverengi ile gösterilmesi aşağıdakilerin hangisiyle ilgilidir?

- A) Bitki örtülerinin farklılığıyla
- B) Eğim derecelerinin farklılığıyla
- C) Yükseltilerinin farklılığıyla
- D) Toprak türlerinin farklılığıyla
- E) Jeolojik yapılarının farklılığıyla

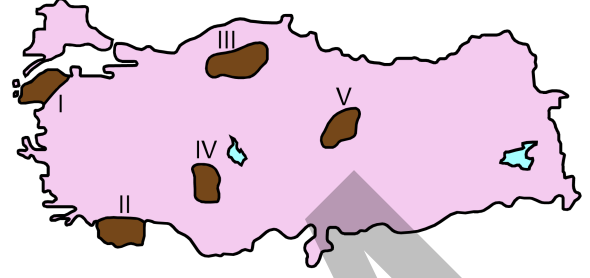
30. Aşağıdaki haritada bazı yerler numaralandırılarak koyu renkle gösterilmiştir.



Bu yerlerin hangilerinde kalker ve jipse bağlı karstlaşmanın tipik örnekleri daha yaygın olarak görülür?

- A) I ve II
- B) I ve V
- C) II ve III
- D) III ve IV
- E) III ve V

31. Aşağıdaki haritada, birbirinden farklı beş yöre numaralandırılarak koyu renkle gösterilmiştir.



Sıcaklığın düşmesiyle gerçekleşen don olayının bu yörelerin hangilerinde daha erken görülmesi beklenir?

- A) I ve II
- B) I ve IV
- C) II ve III
- D) III ve IV
- E) III ve V

32. Türkiye, nemlilik ve yağış bakımından incelendiğinde güney-kuzey ve doğu-batı yönünde farklılıklar görülür.

Bu farklılıkların nedenleri arasında aşağıdakilerden hangisi yer almaz?

- A) Denizellik
- B) Bitki örtüsü
- C) Karasallık
- D) Yükselti
- E) Bakı

33. Ankara, Mersin ve Trabzon il merkezlerinde iklim özelliklerine bağlı olarak en fazla yağışın görüldüğü mevsimler, aşağıdakilerin hangisinde doğru olarak verilmiştir?

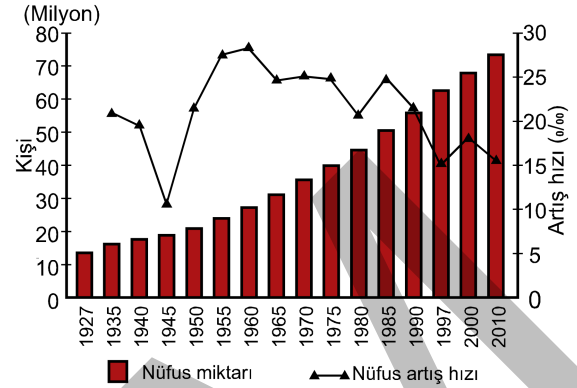
	<u>Ankara</u>	<u>Mersin</u>	<u>Trabzon</u>
A) Kış	İlkbahar	Kış	Kış
B) Kış	Sonbahar	İlkbahar	İlkbahar
C) İlkbahar	Kış	Sonbahar	Sonbahar
D) İlkbahar	Sonbahar	Kış	Kış
E) Kış	Kış	Sonbahar	Sonbahar

34. Kuzey Anadolu Dağları'nın kuzeye bakan kesimlerinde genellikle asit karakterli topraklar daha yaygındır.

Bu durum üzerinde aşağıdakilerden hangisi etkilidir?

- | | |
|--------------------|-----------------|
| A) Sıcaklık rejimi | B) Yükselti |
| C) Yağış miktarı | D) Yağış rejimi |
| E) Bitki örtüsü | |

35. Aşağıda, Türkiye'nin 1927-2010 yılları arasındaki nüfus miktarının ve nüfus artış hızının gösterildiği bir grafik verilmiştir.



Buna göre, grafikte ilgili aşağıdakilerden hangisi kesin olarak söylenir?

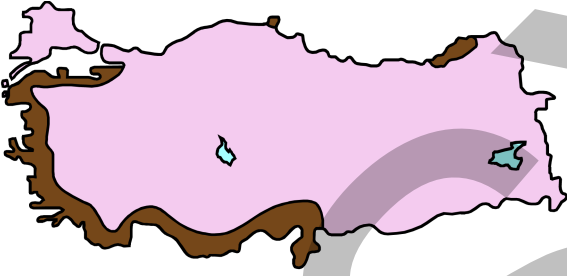
- A) Nüfus artış hızının en yüksek olduğu dönem 1945-1950 yılları arasındır.
- B) Nüfus artış hızı her dönem aynı olmuştur.
- C) Nüfus artış hızının en düşük olduğu dönem 1990-1997 yılları arasındır.
- D) Nüfus miktarının en fazla olduğu dönem 1927-1935 yılları arasındır.
- E) 1950'den sonra nüfus artış hızı sürekli olarak düşmüştür.

36. Şehirlerin gelişimi üzerinde etkili olan faktörler ve ekonomik fonksiyonları dikkate alındığında aşağıdaki eşleştirmelerden hangisi doğrudur?

	<u>Ulaşım</u>	<u>Ticaret</u>	<u>Sanayi</u>
A) Mersin	Afyonkarahisar	İzmit	
B) Afyonkarahisar	İzmit	Mersin	
C) İzmit	Mersin	Afyonkarahisar	
D) Mersin	İzmit	Afyonkarahisar	
E) Afyonkarahisar	Mersin	İzmit	

37. Türkiye’de yaşanan göçlerle ilgili olarak aşağıda verilenlerden hangisi **yanlıştır**?
- A) Göç alan ve göç veren illerde, nüfusun cinsiyet oranı değişir.
- B) Göçler büyük şehirlere yönelmiştir.
- C) Göç eden nüfusun ekonomik düzeyi genel olarak düşüktür.
- D) Göçlerde şehirlerin çekiciliği yanında kırsal alanların iticiliği de etkilidir.
- E) Göçlerin çoğunluğu beyin göçü şeklindedir.

38. Aşağıdaki haritada, turunçgil üretiminin yapıldığı bazı alanlar koyu renkle gösterilmiştir.



Buna göre, turunçgil üretiminin kıyı bölgelerinde yoğunlaşmasının **temel nedeni** aşağıdakilerden hangisidir?

- A) Bu bölgelerde nem oranının fazla olması
- B) Bu bölgelerde kireçli toprakların yaygın olması
- C) Yıllık ortalama sıcaklıkların bu bölgelerde 10 °C'nin altına düşmemesi
- D) Bu bölgelerde föhn rüzgârlarının etkili olması
- E) Turunçgillerin yetişme döneminde bu bölgelerde don olayının yaşanmaması

39. Aşağıdakilerden hangisi, Türkiye’deki arazi varlığı içinde en geniş alana sahiptir?

- A) Tarım alanları
- B) Dikili alanlar
- C) Orman alanları
- D) Çayır ve mera alanları
- E) Kayalık alanlar

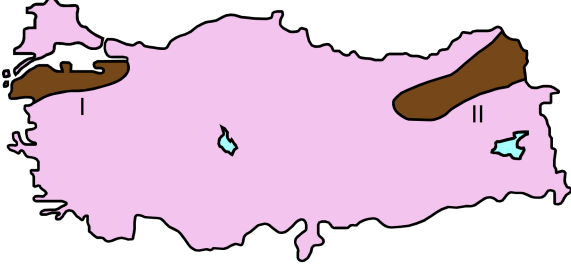
40. Türkiye’deki hayvancılık faaliyetleriyle ilgili olarak aşağıda verilenlerden hangisi **yanlıştır**?

- A) Bozkırlarda küçükbaş hayvancılık yaygındır.
- B) Küçükbaş hayvan türleri içerisinde en fazla koyun tercih edilmektedir.
- C) Mera hayvancılığında et ve süt verimi ahır hayvancılığına göre daha düşüktür.
- D) Ege kıyılarında insanların geçiminde hayvancılık tarımdan önemlidir.
- E) Ahır hayvancılığında modern yöntem ve tekniklerden yararlanılmaktadır.

41. Türkiye’de kıyı ve deniz turizmi bakımından aşağıdaki illerden hangisi diğerlerine göre **daha az** gelişmiştir?

- A) Aydın B) Muğla C) Balıkesir
- D) Sinop E) Rize

42. Aşağıdaki haritada Türkiye'nin 2023 turizm eylem planlaması içerisinde oluşturulması düşünülen iki "Turizm Gelişim Koridoru" gösterilmiştir.



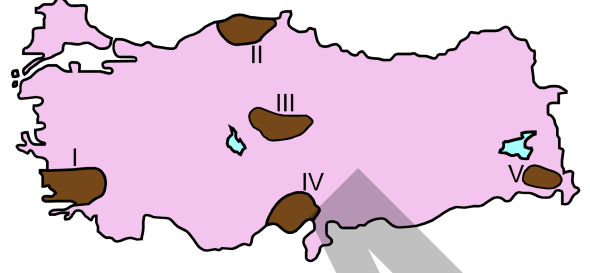
Buna göre, belli bir güzergâhın doğal ve kültürel dokusunun yenilenerek belirli temalara dayalı turizm amacıyla geliştirilmesi düşünülen bu iki koridor aşağıdakilerden hangisinde doğru verilmiştir?

- | | |
|------------------------|---------------------------|
| I | II |
| A) Eko-turizm koridoru | Yayla koridoru |
| B) Kültür koridoru | Eko-turizm koridoru |
| C) Yayla koridoru | İpek Yolu turizm koridoru |
| D) Zeytin koridoru | Kış turizmi koridoru |
| E) Yayla koridoru | Eko-turizm koridoru |

43. Türkiye'nin toplam enerji tüketimi içinde en büyük paya sahip olan yerli enerji kaynağı türü aşağıdakilerden hangisidir?

- A) Taş kömürü B) Linyit C) Asfaltit
D) Petrol E) Doğal gaz

44. Aşağıdaki haritada farklı yer şekli özelliklerine sahip beş alan numaralandırılarak koyu renkle gösterilmiştir.



Bu alanların hangilerinde, demir yolu ulaşımının gelişmemesinde yer şekillerinin etkisi diğerlerinden daha fazladır?

- A) I ve II B) I ve III C) II ve IV
D) II ve V E) IV ve V

- 45.

- I. Nüfus hareketleri
II. Ticaret hacminin genişlemesi
III. Nüfus artış hızının yükselmesi

Türkiye'de yeni iş alanlarının ortaya çıkması sonucu yukarıdakilerin hangilerinde artış olması beklenir?

- A) Yalnız I B) Yalnız II C) Yalnız III
D) I ve II E) II ve III

46. 1926 yılında kabul edilen Türk Ceza Kanunu aşağıdaki ülkelerin hangisinin ceza kanunundan iktibas edilmiştir?

- A) Fransa B) Almanya
C) İtalya D) İsviçre
E) İngiltere

47. 1982 Anayasası'na göre aşağıdakilerden hangisi, Cumhuriyetin niteliklerinden biri değildir?

- A) Başlangıçta belirtilen temel ilkelere bağlılık
- B) Demokratik devlet
- C) Hukuk devleti
- D) Sosyal devlet
- E) Liberal devlet

48. Bir kıyı devletinin kara ülkesinin denizin altında süren doğal uzantısı aşağıdakilerden hangisiyle adlandırılmaktadır?

- A) Bitişik bölge
- B) Kıta sahanlığı
- C) Münhasır ekonomik bölge
- D) İç sular
- E) Balıkçılık bölgesi

49. 1982 Anayasası'na göre, Türkiye Büyük Millet Meclisinin her yıl olağan olarak gerçekleşen toplanma tarihiyle ilgili aşağıdaki ifadelerden hangisi doğrudur?

- A) Eylül ayının ilk haftası kendiliğinden toplanır.
- B) Eylül ayının ilk günü kendiliğinden toplanır.
- C) Ekim ayının ilk günü kendiliğinden toplanır.
- D) Ekim ayının ilk günü çağrı üzerine toplanır.
- E) Kasım ayının ilk haftası kendiliğinden toplanır.

50. 1982 Anayasası'na göre Sayıştay, aşağıdakilerden hangisi adına denetim görevini gerçekleştirmektedir?

- A) Cumhurbaşkanı
- B) Bakanlar Kurulu
- C) Kamu Başdenetçisi
- D) Başbakan
- E) Türkiye Büyük Millet Meclisi

51. 1982 Anayasası'na göre seçme, seçilme ve siyasi faaliyette bulunma hakkı ile ilgili aşağıdaki ifadelerden hangisi yanlıştır?

- A) Kural olarak, 18 yaşını dolduran her Türk vatandaşı seçme ve halk oylamasına katılma hakkına sahiptir.
- B) Ceza ve infaz kurumlarında bulunan tutuklular oy kullanamaz.
- C) Silahaltında bulunan er ve erbaşılar ile askerî öğrenciler oy kullanamaz.
- D) Yurt dışında bulunan Türk vatandaşlarının oy hakkını kullanabilmeleri kanunla düzenlenir.
- E) Seçimler ve halk oylaması serbest, eşit, gizli, tek dereceli, genel oy, açık sayım ve döküm esaslarına göre yargı yönetim ve denetimi altında yapılır.

52. Devlet Memurları Kanunu'na göre, devlet memurluğunda adaylık ile ilgili aşağıdaki ifadelerden hangisi **yanlıştır**?

- A) Adaylık süresi en az 1 yıldır.
 B) Adaylık süresi 2 yıldan çok olamaz.
 C) Aday memurun başka kurumlara nakli yapılamaz.
 D) Adaylık devresinde ilişkileri kesilenler 2 yıl boyunca devlet memurluğuna alınmazlar.
 E) Aday memurların temel eğitimleri ile hazırlayıcı eğitimleri aynı kurumda yapılır.

53. İl ve ilçe dışındaki bir yerleşim yerinde belediye kurulabilmesi için gerekli olan **asgari** nüfus aşağıdakilerden hangisidir?

- A) 2.000
 B) 3.000
 C) 4.000
 D) 5.000
 E) 10.000

54.

- I. Polis
 II. Jandarma
 III. Orman kolluğu
 IV. Gümrük kolluğu

Türkiye'de, yukarıdakilerden hangileri aynı zamanda adli kolluk olarak da görev yapar?

- A) I ve II
 B) I ve III
 C) I, III ve IV
 D) II, III ve IV
 E) I, II, III ve IV

55. "İstanbul'un gözü" lakabıyla anılan, 2014 yılında Boğaziçi Üniversitesi tarafından fahri doktora unvanı verilen fotoğraf sanatçısı aşağıdakilerden hangisidir?

- A) Ara Güler
 B) Kutluğ Ataman
 C) Coşkun Aral
 D) Fikret Otyam
 E) Kudret Sabancı

56. 2014 yılında, *Kemerlerinizi Bağlayınız* adlı filmi ile İtalya'nın prestijli ödülllerinden Nastro d'Argento'da 3 dalda ödüle layık görülen, İtalya'da yaşayan ünlü yönetmen aşağıdakilerden hangisidir?

- A) Ferzan Özpetek
 B) Zeki Demirkubuz
 C) Sinan Çetin
 D) Mustafa Altıoklar
 E) Fatih Akın

57. İlk kez 2013'te yapılan ve çoğunlukla Türklerin yaşadığı veya Türkçe konuşan ülkelerin katıldığı şarkı yarışması aşağıdakilerden hangisidir?

- A) Altın Mikrofon
 B) Anadolu Ateşi
 C) Türkvizyon
 D) Türk Melodi
 E) Türkü Star

58. Aşağıdakilerden hangisi, İskandinav ülkelerinden biri **değildir**?

- A) İsveç
B) Norveç
C) Finlandiya
D) Danimarka
E) Polonya

59. Özgürlük Heykeli'ni ABD'ye hediye olarak gönderen ülke aşağıdakilerden hangisidir?

- A) İngiltere
B) Almanya
C) Rusya
D) Japonya
E) Fransa

60. 1882 yılında Mekteb-i Sanayi-i Nefise-i Şâhâne adıyla kurulan yükseköğretim kurumunun günümüzdeki adı aşağıdakilerden hangisidir?

- A) İstanbul Teknik Üniversitesi
B) İstanbul Üniversitesi
C) Yıldız Teknik Üniversitesi
D) Mimar Sinan Güzel Sanatlar Üniversitesi
E) Boğaziçi Üniversitesi

SINAVDA UYULACAK KURALLAR

- Sınav salonları kamera ile kayıt altına alınacaktır.** Kamera kayıtlarının incelenmesinden sonra sınav kurallarına uymadığı tespit edilen adayların sınavları ÖSYM Yönetim Kurulunca geçersiz sayılacaktır.
- Cep telefonu ile sınava girmek kesinlikle yasaktır.** Çağrı cihazı, telsiz, fotoğraf makinesi vb. araçlarla; cep bilgisayarı, kol veya cep saati gibi her türlü bilgisayar özelliği bulunan cihazlarla; silah ve benzeri teçhizatla; müsvedde kâğıdı, defter, kitap, sözlük, sözlük işlevi olan elektronik aygıt, hesap cetveli, hesap makinesi, pergel, açıölçer, cetvel vb. araçlarla sınava girmek kesinlikle yasaktır. Bu araçlarla sınava girmiş adayların adı mutlaka Salon Sınav Tutanağına yazılacak, bu adayların sınavı geçersiz sayılacaktır. **Sınava kalem, silgi, kalemtraş, saat vb. araçla ve kulaklık, küpe, broş vb. takı, herhangi bir metal eşya ile girmek de kesinlikle yasaktır. Yiyecek, içecek vb. tüketim malzemeleri de sınava getirilemez. Adaylar sınava şeffaf şişe içerisinde su getirebilecektir.**
- Bu sınav için verilen toplam cevaplama süresi **120 dakikadır.** Sınav başladıktan sonra **ilk 90** ve **son 15** dakika içinde adayın sınavdan çıkmasına kesinlikle izin verilmeyecektir. **Bu süreler dışında, cevaplama sınav bitmeden tamamlarsanız cevap kâğıdınızı ve soru kitapçığınızı salon görevlilerine teslim ederek salonu terk edebilirsiniz. Bildirilen süreler aykırı davranışlardan adayın kendisi sorumludur.**
- Sınav salonundan ayrılan aday, her ne sebeple olursa olsun, tekrar sınava alınmayacaktır.**
- Sınav süresince görevlilerle konuşmak, görevlilere soru sormak yasaktır. Aynı şekilde görevlilerin de adaylarla yakından ve alçak sesle konuşmaları ayrıca adayların birbirinden kalem, silgi vb. şeyleri istemeleri kesinlikle yasaktır.
- Sınav sırasında, görevlilerin her türlü uyarısına uymak zorundasınız. Sınavınızın geçerli sayılması, her şeyden önce, sınav kurallarına uymanıza bağlıdır. Kurallara aykırı davranışta bulunanların ve yapılacak uyarılara uymayanların kimlik bilgileri Salon Sınav Tutanağına yazılacak ve sınavları geçersiz sayılacaktır.
- Sınav sırasında kopya çeken, çekmeye kalkışan, kopya veren, kopya çekilmesine yardım edenlerin kimlik bilgileri Salon Sınav Tutanağına yazılacak ve bu adayların sınavları geçersiz sayılacaktır.
Adayların test sorularına verdikleri cevapların dağılımları bilgi işlem yöntemleriyle incelenecek, bu incelemelerden elde edilen bulgular bireysel veya toplu olarak kopya çekildiğini gösterirse kopya eylemine katılan adayın/adayların sınavı geçersiz sayılacak ayrıca 2 yıl boyunca ÖSYM tarafından düzenlenen tüm sınavlara başvurusu yasaklanabilecektir.
Sınav görevlileri bir salondaki sınavın, kurallara uygun biçimde yapılmadığını, toplu kopya girişiminde bulunulduğunu raporlarında bildirdiği takdirde, ÖSYM bu salonda sınava giren tüm adayların sınavını geçersiz sayabilir.
- Cevap kâğıdında doldurmanız gereken alanlar bulunmaktadır. Bu alanları doldurunuz. Cevap kâğıdınızı başkaları tarafından görülmeyecek şekilde tutmanız gerekmektedir. Cevap kâğıdına yazılacak her türlü yazıda ve yapılacak bütün işaretlemelerde kurşun kalem kullanılacaktır. Sınav süresi bittiğinde cevapların cevap kâğıdına işaretlenmiş olması gerekir. Soru kitapçığına işaretlenen cevaplar geçerli değildir.
- Soru kitapçığınızı alır almaz kapağında bulunan ilgili alanları doldurunuz. Size söylendiği zaman sayfaların eksik olup olmadığını, kitapçıkta basım hatalarının bulunup bulunmadığını ve soru kitapçığının her sayfasında basılı bulunan soru kitapçık numarasının, kitapçığın ön kapağında basılı soru kitapçık numarasıyla aynı olup olmadığını kontrol ediniz. Soru kitapçığının sayfası eksik veya basımı hatalıysa değiştirilmesi için salon başkanına başvurunuz.
Size verilen soru kitapçığının numarasını cevap kâğıdınızdaki “Soru Kitapçık Numarası” alanına yazınız ve kodlayınız. Cevap kâğıdınızdaki “Soru kitapçık numaramı doğru kodladım.” kutucuğunu işaretleyiniz.
Soru kitapçığı üzerinde yer alan Soru Kitapçık Numarasını doğru kodladığınızı beyan eden alanı imzalayınız.
- Sınav sonunda soru kitapçıkları toplanacak ve ÖSYM’de incelenecektir. Soru kitapçığının sayfalarını koparmayınız. Soru kitapçığının bir sayfası bile eksik çıkarsa sınavınız geçersiz sayılacaktır.
- Cevap kâğıdına ve soru kitapçığına yazılması ve işaretlenmesi gereken bilgilerde bir eksiklik ve/veya yanlışlık olması hâlinde sınavınızın değerlendirilmesi mümkün olamamaktadır, bu husustaki özen yükümlülüğü ve sorumluluk size aittir.
- Soru kitapçığının sayfalarındaki boş yerleri müsvedde için kullanabilirsiniz.
- Soruları ve/veya bu sorulara verdiğiniz cevapları ayrı bir kâğıda yazıp bu kâğıdı dışarı çıkarmanız kesinlikle yasaktır.
- Her bölümün cevaplarını cevap kâğıdındaki ilgili alana işaretlemeye dikkat ediniz.**
- Sınav salonundan ayrılmadan önce, soru kitapçığınızı, cevap kâğıdınızı ve sınava giriş belgenizi salon görevlilerine eksiksiz olarak teslim etmeyi unutmayınız.**

Bu testlerin her hakkı saklıdır. Hangi amaçla olursa olsun, testlerin tamamının veya bir kısmının Merkezimizin yazılı izni olmadan kopya edilmesi, fotoğrafının çekilmesi, herhangi bir yolla çoğaltılması, yayımlanması ya da kullanılması yasaktır. Bu yasağa uymayanlar gerekli cezai sorumluluğu ve doğacak tüm mali külfeti peşinen kabullenmiş sayılır.

KAMU PERSONEL SEÇME SINAVI
ÖN LİSANS
27.09.2014

GENEL YETENEK TESTİ

- | | | |
|-------|-------|-------|
| 1. C | 26. E | 51. D |
| 2. B | 27. C | 52. C |
| 3. C | 28. B | 53. B |
| 4. A | 29. E | 54. B |
| 5. B | 30. E | 55. D |
| 6. C | 31. C | 56. D |
| 7. C | 32. A | 57. D |
| 8. D | 33. D | 58. C |
| 9. B | 34. C | 59. D |
| 10. D | 35. E | 60. B |
| 11. C | 36. B | |
| 12. A | 37. E | |
| 13. C | 38. B | |
| 14. D | 39. D | |
| 15. C | 40. C | |
| 16. A | 41. E | |
| 17. D | 42. A | |
| 18. B | 43. A | |
| 19. C | 44. C | |
| 20. C | 45. D | |
| 21. E | 46. C | |
| 22. E | 47. A | |
| 23. C | 48. B | |
| 24. C | 49. C | |
| 25. E | 50. C | |

GENEL KÜLTÜR TESTİ

- | | | |
|-------|-------|-------|
| 1. C | 26. A | 51. B |
| 2. C | 27. B | 52. D |
| 3. A | 28. A | 53. D |
| 4. C | 29. C | 54. A |
| 5. A | 30. C | 55. A |
| 6. C | 31. E | 56. A |
| 7. A | 32. B | 57. C |
| 8. A | 33. C | 58. E |
| 9. A | 34. C | 59. E |
| 10. A | 35. A | 60. D |
| 11. B | 36. E | |
| 12. A | 37. E | |
| 13. A | 38. E | |
| 14. D | 39. A | |
| 15. A | 40. D | |
| 16. A | 41. E | |
| 17. A | 42. D | |
| 18. A | 43. B | |
| 19. A | 44. D | |
| 20. C | 45. D | |
| 21. A | 46. C | |
| 22. A | 47. E | |
| 23. A | 48. B | |
| 24. A | 49. C | |
| 25. B | 50. E | |