



T.C. Ölçme, Seçme ve Yerleştirme Merkezi

**KAMU PERSONEL SEÇME SINAVI
ÖĞRETMENLİK ALAN BİLGİSİ TESTİ
COĞRAFYA ÖĞRETMENLİĞİ
12 TEMMUZ 2015 PAZAR**

Bu testlerin her hakkı saklıdır. Hangi amaçla olursa olsun, testlerin tamamının veya bir kısmının Merkezimizin yazılı izni olmadan kopya edilmesi, fotoğrafının çekilmesi, herhangi bir yolla çoğaltılması, yayımlanması ya da kullanılması yasaktır. Bu yasağa uymayanlar gerekli cezai sorumluluğu ve testlerin hazırlanmasındaki mali külfeti peşinen kabullenmiş sayılır.

AÇIKLAMA

1. Bu kitapçıkta **Alan Bilgisi** ve **Alan Eğitimi Testi** bulunmaktadır.
2. Bu test için verilen toplam cevaplama süresi **75 dakikadır (1 saat, 15 dakika)**.
3. Bu kitapçıkta testlerde yer alan her sorunun sadece bir doğru cevabı vardır. Bir soru için birden çok cevap yeri işaretlenmişse o soru yanlış cevaplanmış sayılacaktır.
4. İşaretlediğiniz bir cevabı değiştirmek istediğinizde, silme işlemini çok iyi yapmanız gerektiğini unutmayınız.
5. Bu testler puanlanırken her bölümde doğru cevaplarınızın sayısından yanlış cevaplarınızın sayısının dörtte biri çıkarılacak ve kalan sayı o bölümle ilgili ham puanınız olacaktır.
6. Cevaplamaya istediğiniz sorudan başlayabilirsiniz. Bir soru ile ilgili cevabınızı, cevap kâğıdında o soru için ayrılmış olan yere işaretlemeyi unutmayınız.
7. Sınavda uyulacak diğer kurallar bu kitapçığın arka kapağında belirtilmiştir.

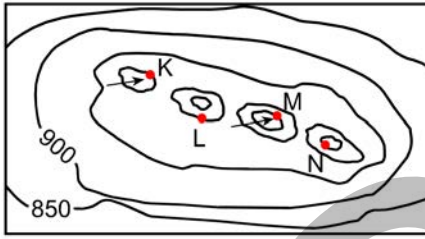
Bu testte 50 soru vardır.

1. Bir profilin çizimi sırasında grafiğin yatay ve dikey ekseninde kullanılan ölçekler, aşağıdakilerin hangisinde doğru olarak verilmiştir?

Yatay eksen Dikey eksen

- A) Uzunluk Yükseklik
B) Yükseklik Uzunluk
C) Genel Özel
D) Yükseklik Yükseklik
E) Uzunluk Uzunluk

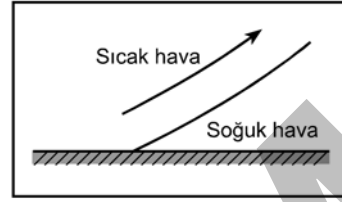
2.



Yukarıda bir bölümü verilen topografya haritasında K, L, M ve N noktalarının yükseltileri aşağıdakilerin hangisinde doğru olarak verilmiştir?

	K	L	M	N
A)	1000	1050	950	1100
B)	950	1000	900	1050
C)	900	1000	850	1050
D)	950	950	900	1050
E)	1000	950	1050	900

3.



Yukarıdaki şekilde hangi terselme türü gösterilmiştir?

- A) Vadi B) Antisiklonal C) Soğuk cephe
D) Sıcak cephe E) Termik

4.

Hava bölümleri, çeşitli etkilerle zaman zaman çevrelerinden bağımsız olarak alçalıp yükselmektedir. Alçalan hava bölümü, basıncın artmasıyla sıkışıp ısınırken yükselen hava bölümü, basıncın azalmasıyla genişleyerek soğur. Hava bölümleri bu süreçte dışarıdan hiç ısı alıp vermeden kendi kendini ısıtır veya soğutur. Klimatolojide bu olaya ---- ısınma/soğuma denir.

Parçadaki tanıma göre boş bırakılan yere aşağıdakilerden hangisi getirilmelidir?

- A) gizli B) kondüksiyon C) özgül
D) adyabatik E) difüzyonik

5.

Aşağıdakilerden hangisi, rüzgâr hızının ifade edilmesinde kullanılan birimlerden biri değildir?

- A) Saniyede knot (kt/s)
B) Saniyede metre (m/s)
C) Saatte kilometre (km/saat)
D) Saatte mil (mil/saat)
E) Knot (kt)

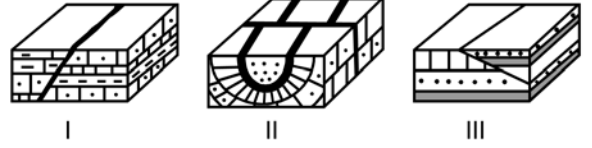
6. I. Seyrek gaz iyonlarından oluşur.
II. Azot ve su buharı açısından fakirdir.
III. -50 ile -80 °C arasında sıcaklığa sahiptir.
IV. Güçlü yatay ve dikey hava hareketleri vardır.

Yukarıdaki özelliklerden hangileri iyonosfer katına aittir?

- A) I ve II B) I ve III C) II ve III
D) II ve IV E) III ve IV

7. Bu soru iptal edilmiştir.

8.

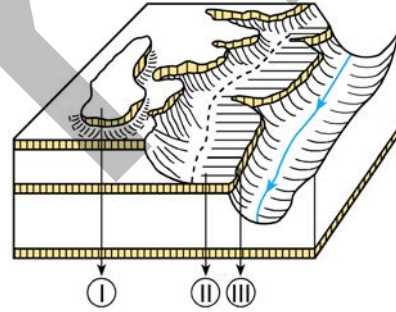


Yukarıdaki şekillerde bazı fay tipleri numaralandırılarak gösterilmiştir.

Bu fay tipleri aşağıdakilerin hangisinde sırayla verilmiştir?

- | I | II | III |
|------------------|---------------|---------------|
| A) Yırtılma fayı | Bindirme fayı | Normal fay |
| B) Bindirme fayı | Yırtılma fayı | Ters fay |
| C) Normal fay | Yırtılma fayı | Ters fay |
| D) Bindirme fayı | Normal fay | Ters fay |
| E) Normal fay | Ters fay | Yırtılma fayı |

9.



Yukarıdaki şekilde yatay yapılı sahalarda akarsu aşındırmasına bağlı oluşan bazı yer şekilleri numaralandırılarak gösterilmiştir.

Bu yer şekilleri aşağıdakilerin hangisinde sırayla verilmiştir?

- | I | II | III |
|---------|----------------|--------------|
| A) Mesa | Yapı platformu | Korniş |
| B) Büt | Mesa | Yapı platosu |
| C) Mesa | Yapı platosu | Korniş |
| D) Büt | Korniş | Yapı platosu |
| E) Mesa | Yapı platformu | Büt |

10. Volkanik aktivitelerde yeryüzüne ulaşan katı maddeler patlamalar sırasında havaya fırlatılan çeşitli boyuttaki unsurlardır. Bu unsurlar volkanın farklı bölümlerine ait olup hepsinin ortak adı "piroklastik maddeler" olarak adlandırılır.

Aşağıdakilerden hangisi bu maddelerden biri değildir?

- A) Küller B) Lapilli C) Tüfler
D) Tozlar E) Bloklar

11. Defne, Servi, Kızılcım ve Kermez meşesi sıcaklık istekleri bakımından hangi grup bitkiler içerisinde yer alır?

- A) Megaterm B) Mezoterm C) Mikroterm
D) Hekistoterm E) Miniterm

12. Bitkilerin yayılışı ile iklimatik, edafik ve biyotik koşullar arasındaki ilişkiyi konu edinen bitki coğrafyası dalı aşağıdakilerden hangisidir?

- A) Floristik B) Genetik C) Ekolojik
D) Sosyolojik E) Vejetatif

13. Aşağıdakilerden hangisi, organik maddelerin toprak üzerindeki etkileri arasında **yer almaz**?

- A) Toprağın koyu renkli olmasını sağlar.
B) Toprağın su tutma kapasitesini artırır.
C) Topraktaki ayrışmayı hızlandırır.
D) Toprağın verimini artırır.
E) Toprağın absorpsiyon kapasitesini azaltır.

14. Yağışlı bir dönem sonunda su tablasının yükselerek ovalarda topoğrafya yüzeyi ile **çakıştığı ve geçici bir süre için tek yer altı su kuşağı haline geldiği kuşak aşağıdakilerden hangisidir?**

- A) Aerasyon kuşağı B) Satürasyon kuşağı
C) Kılcal su kuşağı D) Ara kuşak
E) Toprak nemi kuşağı

15. Gayzerlerin aralıklı olarak püskürmesinin nedeni aşağıdakilerden hangisidir?

- A) Yer altındaki boşlukların tıkanması
B) Yüzeiden derine indikçe suyun kaynama noktası sıcaklığının artması
C) Mağmadan beslenmenin devirli olması
D) Kaynağın yer altı suyundan beslenmesinin devirli olması
E) Suyun fazla miktarda eriyik madde içermesi

16. • Amasyalı Strabo'nun görüşlerinden etkilenmiştir.
• Endülüs bölgesi ve Kuzey Afrika'yı gezip görmüştür.
• Eserleri arasında en ünlüsü *Kitab'ül-İber*'dir.
• Coğrafi mekân ve iklimin insanlar üzerindeki etkilerine ilişkin görüşleri vardır.

Yukarıda bazı özellikleri belirtilen Orta Çağ düşünürü aşağıdakilerin hangisidir?

- A) İbn Batuta B) İdrisî C) İbn Haldun
D) Mesudi E) El Birüni

17. Coğrafyada, yerlerin ve olayların arasındaki benzerlikleri bulmaya önem veren teorik yaklaşım aşağıdakilerin hangisidir?

- A) İdiografik B) İndüktif C) Normatif
D) Nomotetik E) Dedüktif

18. Bu soru iptal edilmiştir.

19. Aşağıda, demografik döngü teorisinin dönemlerine ilişkin bazı özellikler verilmiştir.

- I. Doğum ve ölüm oranları yüksektir.
- II. Nüfus artış oranı düşmeye başlamıştır.
- III. Ölüm oranları oldukça düşüktür.

Bu özelliklerden hangileri demografik döngü teorisinin birinci dönemine aittir?

- A) Yalnız I
- B) Yalnız II
- C) Yalnız III
- D) I ve II
- E) II ve III

20. Şehirsel hizmetlere ihtiyaç duyan ve şehrin kendisine çektiği bölge aşağıdakilerden hangisidir?

- A) Konürbasyon
- B) Banliyo
- C) Hinterland
- D) Getto
- E) Slum

21. 1951 Birleşmiş Milletler Antlaşması'na göre "ırkı, dili, dini yüzünden bir toplumsal gruba ait ya da bir siyasal görüşte olduğu için ülkesinde takibe uğrama korkusuyla ülke dışına çıkmış kişilere" verilen isim aşağıdakilerden hangisidir?

- A) Mübadil
- B) Diaspora
- C) Mülteci
- D) Göçmen
- E) Azınlık

22. Cater ve Goodall'a göre kısa ve uzun dönemde gelişmiş yaşam standardı bakımından ev sahibi halkın gereksiniminin karşılanması, sayısı artan turistlerin isteklerinin karşılanması ve onları çekmeye devam edebilme, bu iki amacı gerçekleştirirken çevrenin korunması ---- olarak adlandırılırken, Liu'ya göre turizmin doğal çevreye olan etkisini ve doğal kaynakların uzun dönem yaşayabilirliği ---- olarak adlandırılır.

Bu parçada boş bırakılan yerlere sırasıyla aşağıdakilerden hangisi getirilmelidir?

- A) sürdürülebilir turizm fiziksel taşıma kapasitesi
- B) sürdürülebilir turizm ekolojik taşıma kapasitesi
- C) eko turizm psikolojik taşıma kapasitesi
- D) eko turizm sosyal taşıma kapasitesi
- E) yeşil turizm ekonomik taşıma kapasitesi

23. Düzenli bir seyir planı olan gemilerin belirli bir yol üzerinde düzgün aralıklarla ve belirli bir tarifeyle çalışmasına verilen ad aşağıdakilerden hangisidir?

- A) Liner
- B) Tramp
- C) Reefer
- D) Kruvaziyer
- E) Ro / Ro

24. Aşağıdakilerden hangisi maden yataklarının işletilmesinde daha az etkiye sahiptir?

- A) İşletme maliyeti
- B) Rezerv
- C) Teknik düzey
- D) Tenör
- E) İklim

25. Bu soru iptal edilmiştir.

26. Jeopolitik teoriler içerisinde yer alan ve Halford Mackinder'in geliştirdiği "Kara Hâkimiyeti Teorisi", kara hâkimiyeti gücünü elinde bulunduran devletin veya gücün dünyaya hâkim olacağını ileri sürer.

Bu teoriye göre "Kara Hâkimiyeti" veya "Heartland" olarak tanımlanan alan aşağıdakilerin hangisinde doğru olarak verilmiştir?

- A) Çin'in batısı B) Merkezî Sibiryaya
C) Batı Avrupa D) Kuzey Amerika
E) Orta Doğu

27. Aşağıdaki ülkelerden hangisi Avrupa Birliğine üye **değildir**?

- A) Polonya B) Romanya C) Norveç
D) İsveç E) Finlandiya

28. Aşağıdakilerden hangisi ormanların ekolojik işlev yararlarından biri **değildir**?

- A) Gen kaynağı olması
B) İnsan sağlığı ve dinlenme amaçlı kullanılması
C) Odun ham maddesi ve yan ürünlerini sağlaması
D) Havayı temizlemesi ve gürültü şiddetini azaltması
E) Suyu koruması, taşkın ve çığları önlemesi

29. Richter ölçeği depremin hangi fiziksel özelliğini ölçmektedir?

- A) Şiddetini B) Büyüklüğünü
C) Odak derinliğini D) Odak merkezini
E) Sıklığını

30. Sürdürülebilir kalkınmanın ilk kez somut olarak ortaya konulduğu tarih ve olay eşleşmesi aşağıdakilerin hangisinde doğru olarak verilmiştir?

Tarih	Olay
A) 1972	Stockholm Konferansı
B) 1987	Ortak Geleceğimiz Raporu
C) 1992	Rio Konferansı
D) 2002	Johannesburg Zirvesi
E) 1996	Habitat II Konferansı

31. Türkiye'de geçici kırsal yerleşmeler büyük bir çeşitlilik gösterir. Bu yerleşmelerden biri de yaylacılık faaliyetiyle bağlantılı olan, yaylaya çıkmadan önce ve yaylacılık faaliyeti dönüşünde genellikle yılda iki kez konaklanan dönemlik yerleşmelerdir.

Türkiye'de Kuzeybatı Anadolu ile Göller Yöresi'nde görülen bu dönemlik yerleşme aşağıdakilerden hangisidir?

- A) Güzle B) Dam C) Kom
D) Bağ evi E) Oba

32. Son yıllarda yapılan çalışmalar, Anadolu'da günümüzden 20 bin yıl önce, "Son Buzul Maksimumu" olarak adlandırılan bir dönemde Karadeniz'in bir göle dönüştüğünü, bugünkü Konya Ovası'nda büyük bir gölün varlığını ve ayrıca başta Doğu Karadeniz Dağları olmak üzere ülkenin yüksek dağlık kesimlerinde buzul ilerlemelerinin gerçekleştiğini göstermektedir.

Türkiye'deki yer şekillerinin oluşum süreçleri dikkate alındığında, Anadolu'da sözü edilen bu ortam değişimlerinin ortak nedeni aşağıdakilerden hangisidir?

- A) Tektonik hareketler
B) Epirojenik hareketler
C) Orojenik hareketler
D) İklim değişimleri
E) Volkanik faaliyetler

33. Bu soru iptal edilmiştir.

34. Güneydoğu Anadolu Projesi kapsamında yapılan yatırımların sonuçları günümüzde olumlu bir şekilde Türkiye ekonomisine ve bölge halkına yansımaktadır.

Bu durumun ortaya çıkmasında etkili olan faktörlere aşağıdakilerden hangisi örnek gösterilemez?

- A) Tarımsal ürünlerin üretim miktarının artması
- B) Tarım ürünlerinde çeşitliliğin artması
- C) Tarım ürünlerine bağlı sanayi kuruluşlarının artması
- D) Tarımda çalışan insanların gelir düzeyinin artması
- E) Tarımın gelişmesine yönelik arazi toplulaştırmasının artması

35. Bölge kavramı ve teorileri açısından aşağıdaki ifadelerden hangisi **yanlıştır**?

- A) İşlevsel bölgeler aslında bir etki alanıdır.
- B) Tek bir özelliğin benzerliğine göre bölgeler belirlenebilir.
- C) Bölgeyi oluşturan elemanların zamanla değişmesine bağlı olarak bölgeler de değişebilir.
- D) Bölgeler daima sabit kalan ölçütlere göre belirlenmelidir.
- E) Bir bölge içinde yer alan tüm elemanların türdeş olması beklenemez.

36. Sınırları göz önüne alındığında bazı ülkeler hem Kuzey Yarım Kürede hem de Güney Yarım Kürede toprağa sahiptir.

Aşağıdaki ülkelerden hangisi böyle bir özelliğe sahip değildir?

- A) Kolombiya
- B) Brezilya
- C) Etiyopya
- D) Kongo
- E) Kenya

37. Aşağıdaki ülke ve bulunduğu yarımada eşleşmelerinden hangisi **yanlış** verilmiştir?

Ülke	Yarımada
A) Yunanistan	Balkan
B) İspanya	İber
C) Vatikan	İtalya
D) İran	Arap
E) Danimarka	Jutland

38. Afrika kıtası, yer altı kaynakları bakımından zengin olmasına rağmen gelişmişlik düzeyi düşüktür.

Aşağıdakilerden hangisi, bu duruma neden olan faktörlerden biri değildir?

- A) Yer altı kaynaklarının ekonomik değerinin az olması
- B) Koloni dönemine bağlı olarak millî sermayenin gelişmemesi
- C) Yer altı kaynaklarının ham madde şeklinde değerlendirilmesi
- D) Sanayinin tüm ülkelerde aynı oranda gelişmemiş olması
- E) Pek çok ülkede siyasi istikrarın sağlanamaması

39. • Arazisinin % 70'ini Karakum Çölü oluşturur.
• Zengin doğal gaz ve petrol yatakları vardır.
• Alanının % 80'den fazlası tarımsal kullanıma uygun değildir.

Yukarıda bazı özellikleri verilen Orta Asya ülkesi aşağıdakilerden hangisidir?

- A) Kazakistan B) Kırgızistan C) Özbekistan
D) Türkmenistan E) Tacikistan

40. Asya kıtasının Bengal Körfezi, Andaman Denizi ve Güney Çin Denizi arasında ekvatora doğru uzanan kısmına Çin Hindi adı da verilir.

Aşağıdakilerden hangisi bu alandaki ülkelerden biri değildir?

- A) Myanmar B) Tayland C) Vietnam
D) Güney Kore E) Kamboçya

41. Coğrafya Öğretmeni Eylem Hanım; coğrafyanın, dual yapısı ve metodolojisi açısından farklı şekillerde sınıflandırılabilirliğini öğrencilerine anlatmıştır.

Aşağıdakilerden hangisi bu sınıflandırma için kullanılabilir kategorilerden biri değildir?

- A) Fiziki B) Beşerî C) Genel
D) Yerel E) Küresel

42. **Aşağıdakilerden hangisi Coğrafya Dersi Öğretim Programı'nın özelliklerini yansıtan bir ifade değildir?**

- A) Programda ünite ve konu sıralaması kurgulanmıştır.
B) Programın bileşenlerini bilgi, beceri, değer ve tutum oluşturur.
C) Sınıflar arasında bir kademelenme söz konusudur.
D) Bütün sınıflar için aynı öğrenme alanları belirlenmiştir.
E) Hem sınıf içi hem de sınıf dışı etkinlikleri önemser.

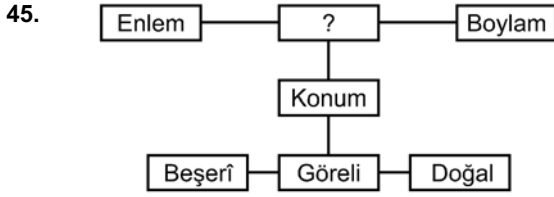
43. İklim konusunu işleyen bir coğrafya öğretmeni, girdiği sınıflarda çok farklı öğrenme deneyimlerinden gelen öğrencilerle karşılaşmıştır. İklimle ilgili bilgi ve becerilerin bazı öğrencilerde üst seviyede, bazı öğrencilerde ise alt seviyede olduğunu tespit etmiştir.

Bu durumda öğretmen aşağıdaki stratejilerden hangisini benimsemelidir?

- A) Orta seviyeye yönelik ders işlemelidir.
B) Derste farklılaşmayı sağlayacak uygulamalar gerçekleştirmelidir.
C) Konuyu bilenlerden ziyade bilmeyenlere odaklanmalıdır.
D) Üst seviyedeki öğrencilere odaklanmalıdır.
E) Konuyu anlamayanlara yönelik ek ders yapmalıdır.

44. **Coğrafya Dersi Öğretim Programı'nda yer alan "Yaşadığı yerleşim biriminin coğrafi özellikleri hakkında çıkarımlarda bulunur." kazanımına yönelik coğrafi sorgulama yaptırmak isteyen bir öğretmen, aşağıdaki sorulardan hangisini coğrafi sorgulama mantığı çerçevesinde kullanamaz?**

- A) Yakın çevrenin, bulunulan yerleşim birimine etkileri nelerdir?
B) Yerleşim birimindeki mekânsal düzenlemeler nelerdir?
C) Yerleşim birimindeki sosyal yapıyı neler etkilemektedir?
D) Yerleşim birimindeki insan ilişkileri nasıldır?
E) Yerleşim birimindeki değişimleri etkileyen faktörler nelerdir?



Coğrafya Öğretmeni İhsan Bey, konum kavramını dersinde yukarıda verilen kavram haritasıyla işlemektedir.

Buna göre, haritada soru işaretiyle (?) gösterilen alana aşağıdaki kavramlardan hangisi getirilmelidir?

- A) Mutlak B) Bölge C) Mekân
D) Yer E) Koordinat

46. Dersinde Türkiye’de yerleşme konusunu işleyen bir coğrafya öğretmeni, yerleşmelerin Türkiye’nin kuzeydoğu kıyılarında dağınık, kuzeybatı kıyılarında toplu olduğunu, batıdan doğuya doğru gidildikçe yerleşme üst sınırının değiştiğini ve tarihî süreçte batıda bazı yerleşim merkezlerinin hızla büyürken ülkenin doğu kesimlerinde ise bazı yerleşim birimlerinin yok olduğunu ifade etmiştir.

Buna göre öğretmen, dağılışın hangi türlerini bir arada örneklendirmiştir?

- A) Yatay B) Dikey
C) Dikey ve zaman D) Yatay ve dikey
E) Yatay, dikey ve zaman

47. Öğrencileriyle birlikte arazi çalışması yapan bir coğrafya öğretmenin, bu süreçte öğrencilerinden aşağıdakilerden hangisini beklemesi doğru olmaz?

- A) Çalışmanın amaçlarını belirleme
B) Veri toplama ve kaydetme
C) Öneriler geliştirme
D) Rapor yazma
E) Jeolojik süreçleri kaydetme

48. Çeşitli arazi çalışma stratejileri vardır. Bunların bazılarında öğretmen, ağırlıklı olarak süreci yönlendirirken bazılarında ise öğrencinin aktif olması esastır. Örneğin, geleneksel arazi çalışmalarında öğretmen nispeten daha aktifken keşfetmeye dayalı arazi çalışmalarında öğrencilerin daha aktif olması beklenir.

Buna göre aşağıdakilerden hangisi, keşfetmeye yönelik arazi çalışmalarında benimsenecek bir yaklaşımdır?

- A) Öğrencilerin arazide kendi rotalarını belirlemeleri
B) Öğrencilerin, arazinin estetik yönlerini takdir etmelerinin sağlanması
C) Öğrencilerin, öğretmenin talimatlarını takip etmeleri
D) Öğrencilerin kılavuzda belirlenen hususların dışına çıkmamaları
E) Öğrencilerin, öğretmen tarafından belirlenen hipotezi test etmeleri

49. Öğrencilerinden, çevre ve insan etkileşimine yönelik bir performans ödevi isteyen öğretmen, ödevleri değerlendirmek için bir derecelendirme ölçeği hazırlamıştır.

Aşağıdaki ölçütlerden hangisinin bu derecelendirme ölçeğinde kullanılması uygun değildir?

- A) Konunun analizinin farklı mekânsal ölçeklerde gerçekleştirilmesi
B) Kullanılan coğrafi kavramların uygunluğu
C) Dağılışların uygun bir şekilde haritalanması
D) Ödevin şekilsel standartlarının uygunluğu
E) Küresel ilişkilerin değerlendirmeye tabi tutulması

50. Öğrencilerinden, dönem boyunca coğrafya öğrenmelerini değerlendirmek için ürün dosyası hazırlamalarını isteyen öğretmen, dosyaları değerlendirmek amacıyla ilk boyutu coğrafi kavramların kullanılmasına yönelik olan analitik bir derecelendirme ölçeği hazırlamıştır.

Aşağıdakilerden hangisi bu derecelendirme ölçeğinin ilk boyutunda kullanılacak ölçütlerden biri değildir?

- A) Coğrafi kavramları daima uygun bir şekilde kullanır.
- B) Uygun coğrafi kavramları çoğu zaman kullanır.
- C) Coğrafi kavramları yazılı yoklamalarda kullanır.
- D) Uygun olmayan coğrafi kavramları kullanır.
- E) Coğrafi kavramları sorulan soruya bağlı olarak kullanır.

SINAVDA UYULACAK KURALLAR

1. **Sınav salonunda saate entegre kamera ile kayıt yapılıyor ise; kamera kayıtlarının incelenmesinden sonra sınav kurallarına uymadığı tespit edilen adayların sınavları ÖSYM Yönetim Kurulunca geçersiz sayılacaktır.**
2. **Cep telefonu ile sınava girmek kesinlikle yasaktır.** Her türlü elektronik/mekanik cihazla ve çağrı cihazı, telsiz, fotoğraf makinesi vb. araçlarla; cep bilgisayar, her türlü saat ile; kablosuz iletişim sağlayan bluetooth, kulaklık vb. her türlü bilgisayar özelliği bulunan cihazlarla; her türlü kesici ve delici alet, ateşli silah vb. teçhizatla; kalem, silgi, kalemıraş, müsvedde kâğıdı, defter, kitap, ders notu, sözlük, dergi, gazete vb. yayınlar, hesap makinesi, pergel, açılörçer, cetvel vb. araçlarla sınava girmek kesinlikle yasaktır. Adayların sınava kolye, küpe, yüzük (alyans hariç), bilezik, broş, anahtar, anahtarlık, metal para gibi metal içerikli eşyalarla (basit başörtü iğnesi ve ince metal tokalı kemer hariç); plastik veya camdan yapılmış her türlü güneş gözlüğü ile (şeffaf/numaralı gözlük hariç), banka/kredi kartı, ulaşım kartı vb. kartlarla; yiyecek, içecek (şeffaf pet şişe içerisindeki su hariç) ve diğer tüketim maddeleri ile gelmeleri kesinlikle yasaktır. Bu araçlarla sınava girmiş adayların adı mutlaka Salon Sınav Tutanağına yazılacak, bu adayların sınavı geçersiz sayılacaktır.
Ancak, ÖSYM Başkanlığı tarafından belirlenen Engelli ve Yedek Sınav Evrakı Yönetim Merkezi (YSYM) binalarında sınava girecek olan engelli adayların sınava giriş belgelerinde yazılı olan araç gereçler, cihazlar vb. yukarıda belirtilen yasakların kapsamı dışında değerlendirilecektir.
3. Bu sınav için verilen toplam cevaplama süresi **75 dakikadır (1 saat, 15 dakika)**. **Sınav başladıktan sonra adayın sınav sonuna kadar sınav salonundan çıkmasına kesinlikle izin verilmeyecektir.**
4. **Sınav salonundan ayrılan aday, her ne sebeple olursa olsun, tekrar sınava alınmayacaktır.**
5. Sınav süresince görevlilerle konuşmak, görevlilere soru sormak yasaktır. Aynı şekilde görevlilerin de adaylarla yakından ve alçak sesle konuşmaları ayrıca adayların birbirinden kalem, silgi vb. şeyleri istemeleri kesinlikle yasaktır.
6. Sınav sırasında, görevlilerin her türlü uyarısına uymak zorundasınız. Sınavınızın geçerli sayılması, her şeyden önce, sınav kurallarına uymanıza bağlıdır. Kurallara aykırı davranışta bulunanların ve yapılacak uyarılara uymayanların kimlik bilgileri Salon Sınav Tutanağına yazılacak ve sınavları geçersiz sayılacaktır.
7. Sınav sırasında kopya çeken, çekmeye kalkışan, kopya veren, kopya çekilmesine yardım edenlerin kimlik bilgileri Salon Sınav Tutanağına yazılacak ve bu adayların sınavları geçersiz sayılacaktır.
Adayların test sorularına verdikleri cevapların dağılımları bilgi işlem yöntemleriyle incelenecek, bu incelemelerden elde edilen bulgular bireysel veya toplu olarak kopya çekildiğini gösterirse kopya eylemine katılan adayın/adayların sınavı geçersiz sayılacak ayrıca 2 yıl boyunca ÖSYM tarafından düzenlenen tüm sınavlara başvurusu yasaklanabilecektir. Sınav görevlileri bir salondaki sınavın, kurallara uygun biçimde yapılmadığını, toplu kopya girişiminde bulunulduğunu raporlarında bildirdiği takdirde, ÖSYM bu salonda sınava giren tüm adayların sınavını geçersiz sayabilir.
8. Cevap kâğıdında doldurmanız gereken alanlar bulunmaktadır. Bu alanları doldurunuz. Cevap kâğıdınızı başkaları tarafından görülmeyecek şekilde tutmanız gerekmektedir. Cevap kâğıdına yazılacak her türlü yazıda ve yapılacak bütün işaretlemelerde kurşun kalem kullanılacaktır. Sınav süresi bittiğinde cevapların cevap kâğıdına işaretlenmiş olması gerekir. Soru kitapçığına işaretlenen cevaplar geçerli değildir.
9. Soru kitapçığınızı alır almaz kapağında bulunan alanları doldurunuz. Size söylendiği zaman sayfaların eksik olup olmadığını, kitapçıkta basım hatalarının bulunup bulunmadığını ve soru kitapçığının her sayfasında basılı bulunan soru kitapçık numarasının, kitapçığın ön kapağında basılı soru kitapçık numarasıyla aynı olup olmadığını kontrol ediniz. Soru kitapçığının sayfası eksik veya basımı hatalıysa değiştirilmesi için salon başkanına başvurunuz.
Size verilen soru kitapçığının numarasını cevap kâğıdınızdaki "Soru Kitapçık Numarası" alanına yazınız ve kodlayınız. Cevap kâğıdınızdaki "Soru Kitapçık Numaramı doğru kodladım." kutucuğunu işaretleyiniz.
Soru kitapçığı üzerinde yer alan Soru Kitapçık Numarasını doğru kodladığınızı beyan eden alanı imzalayınız.
10. Sınav sonunda soru kitapçıkları toplanacak ve ÖSYM'de incelenecektir. Soru kitapçığının sayfalarını koparmayınız. Soru kitapçığının bir sayfası bile eksik çıkarsa sınavınız geçersiz sayılacaktır.
11. Cevap kâğıdına ve soru kitapçığına yazılması ve işaretlenmesi gereken bilgilerde bir eksiklik ve/veya yanlışlık olması hâlinde sınavınızın değerlendirilmesi mümkün değildir, bu husustaki özen yükümlülüğü ve sorumluluk size aittir.
12. Soru kitapçığının sayfalarındaki boş yerleri müsvedde için kullanabilirsiniz.
13. Soruları ve/veya bu sorulara verdiğiniz cevapları ayrı bir kâğıda yazıp bu kâğıdı dışarı çıkarmanız kesinlikle yasaktır.
14. **Sınav salonundan ayrılmadan önce soru kitapçığınızı, cevap kâğıdınızı ve sınava giriş belgenizi salon görevlilerine eksiksiz olarak teslim etmeyi unutmayınız.**
15. Sınav süresi salon görevlilerinin "SINAV BAŞLAMIŞTIR" ibaresiyle başlar, "SINAV BİTMİŞTİR" ibaresiyle sona erer.

Bu testlerin her hakkı saklıdır. Hangi amaçla olursa olsun, testlerin tamamının veya bir kısmının Merkezimizin yazılı izni olmadan kopya edilmesi, fotoğrafının çekilmesi, herhangi bir yolla çoğaltılması, yayımlanması ya da kullanılması yasaktır. Bu yasağa uymayanlar gerekli cezai sorumluluğu ve doğacak tüm mali külfeti peşinen kabullenmiş sayılır.

KAMU PERSONEL SEÇME SINAVI ÖĞRETMENLİK ALAN BİLGİSİ TESTİ
COĞRAFYA ÖĞRETMENLİĞİ
12.07.2015

- | | |
|-----------|-----------|
| 1. A | 26. B |
| 2. B | 27. C |
| 3. D | 28. C |
| 4. D | 29. B |
| 5. A | 30. B |
| 6. A | 31. A |
| 7. İptal | 32. D |
| 8. C | 33. İptal |
| 9. A | 34. E |
| 10. C | 35. D |
| 11. A | 36. C |
| 12. C | 37. D |
| 13. E | 38. A |
| 14. B | 39. D |
| 15. B | 40. D |
| 16. C | 41. E |
| 17. D | 42. A |
| 18. İptal | 43. B |
| 19. A | 44. D |
| 20. C | 45. A |
| 21. C | 46. E |
| 22. B | 47. E |
| 23. A | 48. A |
| 24. E | 49. E |
| 25. İptal | 50. C |