



T.C. Ölçme, Seçme ve Yerleştirme Merkezi

LİSANS YERLEŐTİRME SINAVI-3
COĞRAFYA-1 TESTİ
21 HAZİRAN 2015 PAZAR

Bu testlerin her hakkı saklıdır. Hangi amaçla olursa olsun, testlerin tamamının veya bir kısmının Merkezimizin yazılı izni olmadan kopya edilmesi, fotoğrafının çekilmesi, herhangi bir yolla çoğaltılması, yayımlanması ya da kullanılması yasaktır. Bu yasağa uymayanlar gerekli cezai sorumluluğu ve testlerin hazırlanmasındaki mali külfeti peşinen kabullenmiş sayılır.

AÇIKLAMA

1. Bu kitapçıkta Lisans Yerleşirme Sınavı-3 **Coğrafya-1 Testi** bulunmaktadır.
2. Bu test için verilen cevaplama süresi **35 dakikadır**.
3. Bu testte yer alan her sorunun sadece bir doğru cevabı vardır. Bir soru için birden çok cevap yeri işaretlenmişse o soru yanlış cevaplanmış sayılacaktır.
4. İşaretlediğiniz bir cevabı değiştirmek istediğinizde, silme işlemini çok iyi yapmanız gerektiğini unutmayınız.
5. **Bu test puanlanırken doğru cevaplarınızın sayısından yanlış cevaplarınızın sayısının dörtte biri çıkarılacak ve kalan sayı ham puanınız olacaktır.**
6. Cevaplamaya istediğiniz sorudan başlayabilirsiniz. Bir soru ile ilgili cevabınızı, cevap kâğıdında o soru için ayrılmış olan yere işaretlemeyi unutmayınız.
7. Sınavda uyulacak diğer kurallar bu kitapçığın arka kapağında belirtilmiştir.

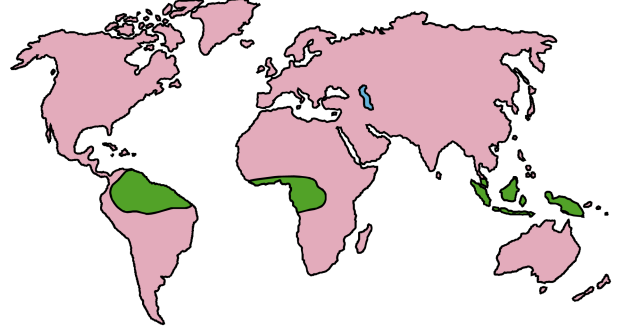
1. Bu testte 24 soru vardır.
2. Cevaplarınızı, cevap kâğıdının Coğrafya-1 Testi için ayrılan kısmına işaretleyiniz.

1. Yer kabuğunun geniş alanlı alçalma ve yükselmeleri epirojenik hareketler olarak ifade edilir. Bu durum, yer kabuğunu oluşturan levhaların izostatik dengeye bağlı olarak ağırlıklarının artması veya azalmasıyla gerçekleşir.

Aşağıdakilerden hangisi bu durumun gerçekleşmesinde etkili olmaz?

- A) İklim değişimine bağlı olarak geniş ve kalın buzulların oluşması
- B) Okyanus tabanlarında tortullanmanın oluşması
- C) Kara içlerindeki volkan faaliyetlerinin artması
- D) Dış kuvvetlerin aşındırmasıyla karaların hacim kaybetmesi
- E) Okyanus ve denizlerde derinliğin değişmesi

2. Aşağıdaki haritada tropikal iklimin etkili olduğu bazı alanlar yeşil renkle gösterilmiştir.



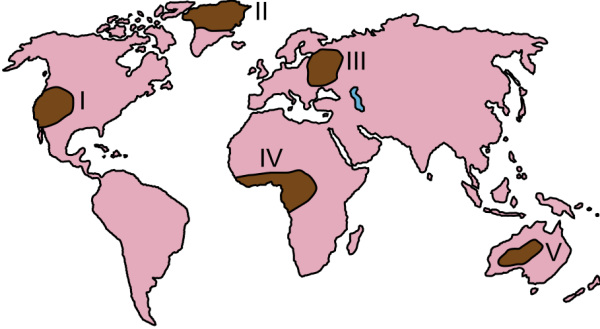
Bu iklimin etkili olduğu alanlardaki doğal bitki örtüsü için aşağıdakilerden hangisi söylenemez?

- A) Tür sayısı fazladır.
- B) Bitkilerin büyümesi hızlıdır.
- C) Yetiştirme dönemi kesintisizdir.
- D) İğne yapraklı ağaçlar yaygındır.
- E) Yıl boyunca yeşil kalırlar.

3. Canlı dokularını meydana getiren bileşikleri oluşturması nedeniyle hayati öneme sahip olan karbon döngüsü, karasal ve sulara ait iki büyük ekosistemde meydana gelir. Bu ekosistemlerde üretilen karbondioksit; karalar, sular ve atmosfer arasında dolaşmaktadır. Ancak bazı durumlarda bu döngünün kesintiye uğradığı görülür.

Aşağıdakilerden hangisi, bu döngü sırasındaki kesintinin nedenlerinden biridir?

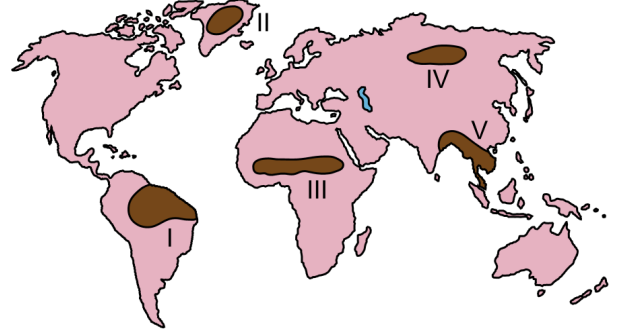
- A) Kireç taşlarının yakılması
B) Bitki kalıntılarının kömürleşmesi
C) Fosil yakıtların kullanılması
D) Katı atıkların depo edilmesi
E) Su kaynaklarının kirlenmesi
4. Aşağıdaki haritada bazı alanlar numaralandırılarak koyu renkle gösterilmiştir.



Bu alanların hangilerinde, birincil tüketiciler ihtiyaçları olan enerjiyi daha zor karşılarlar?

- A) I ve II B) I ve III C) II ve V
D) III ve IV E) IV ve V

5. Aşağıda, haritada numaralandırılarak koyu renkle gösterilmiş beş bölge ve bu bölgelerin dördünde insan etkisine bağlı olarak doğal sistemlerde meydana gelebilecek değişimlere ait tahminler verilmiştir.



- Bitki örtüsündeki aşırı tahribat, dünyanın akciğeri olarak adlandırılan bu bölgedeki ormanların büyük oranda yok olmasına yol açacaktır.
- Buzulların erimesine bağlı olarak deniz seviyesinde meydana gelecek yükselme, burada yaşayan insanların yer değiştirmesine neden olacaktır.
- Küresel ısınmaya bağlı olarak atmosfer sıcaklıklarının artması, bu bölgedeki buzulların erime sürecini hızlandıracaktır.
- İklim değişimlerine bağlı olarak yağışlardaki düzensizlik, bu bölgede çölleşme sürecini hızlandıracaktır.

Buna göre, yukarıda hangi numarayla gösterilen bölgenin değişimi hakkında bir tahmin verilmemiştir?

- A) I B) II C) III D) IV E) V

6. Tarih boyunca dünya nüfusunun büyük kısmı kırsal alanlarda yaşamış olsa da ekonomik faaliyetlerdeki değişim ve bilgi birikimi, şehirlerin büyümesini ve sayılarının hızla artmasını sağlamıştır.

Aşağıdakilerden hangisi bu sürecin yaşanmasında dönüm noktası olmuştur?

- A) Sanayi faaliyetlerinin artması
- B) Yeni enerji kaynaklarının keşfi
- C) Değerli madenlerin çıkarılması
- D) Yönetim şekillerinin değişmesi
- E) Tarımsal tekniklerin yenilenmesi
7. Bir ülkedeki K ve L şehirlerine her yıl yurt içi ve yurt dışından binlerce insan gelmektedir. K şehrine gelenler, bu şehirde belirli bir süre kalmakta ve şehrin farklı doğal güzelliklerinden yararlanmakta iken L şehrine gelenler, farklı ürünleri görmek ve alışveriş yapmak için bu şehre gelmektedir.

Bu şehirlerin etki alanlarının farklılık göstermesindeki temel unsurlar aşağıdakilerin hangisinde verilmiştir?

 K şehri L şehri

- A) Turizm Ticaret
- B) Ticaret Ulaşım
- C) Sanat Ticaret
- D) İletişim Sanayi
- E) Ulaşım Turizm

8. Yeryüzünde coğrafi koşullara bağlı olarak birbirinden farklı medeniyetler doğmuş ve gelişmiştir. Akdeniz, Mezopotamya, Çin ve Mısır gibi medeniyetlere ait kültürel özellikler, etkileşim ile kısmen de olsa birbirlerine geçerken coğrafi keşiflerden sonra bulunan Kuzey ve Güney Amerika kıtalarındaki toplumların oluşturduğu medeniyetlerin yakın zamana kadar Doğu medeniyetleri ile böyle bir etkileşime uğramadıkları görülmüştür.

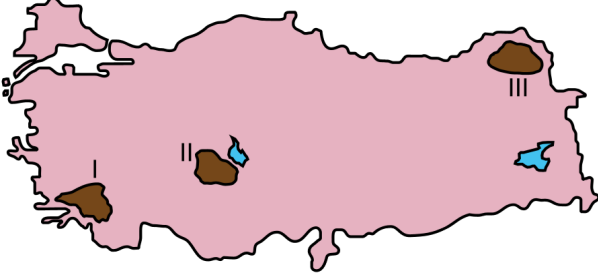
Bu durumun yaşanmasındaki en önemli neden aşağıdakilerden hangisidir?

- A) Dil gruplarının farklılık göstermesi
- B) Etki alanlarının sınırlı olması
- C) İletişim olanaklarının bulunmaması
- D) Ekonomik özelliklerinin değişik olması
- E) Farklı iklim kuşakları üzerinde bulunmaları
9. Türkiye; göreceli konumunun sağladığı koşullarla bölgesel ve küresel ölçekte siyasi, askerî ve ekonomik bir etkiye sahiptir. Bir devletin dünya üzerindeki yeri; dış siyaseti ve ekonomik ilişkileri bu etkide önemli bir yere sahiptir.

Aşağıdakilerden hangisi, Türkiye’de bu durumun ortaya çıkardığı bir gelişme değildir?

- A) Nüfusunun giderek artması
- B) Enerji koridoru olması
- C) AB’ye üyelik başvurusu
- D) NATO’ya üye olması
- E) Ulaşımın giderek gelişmesi

10. Aşağıdaki haritada nüfus yoğunluğunun az olduğu üç alan numaralandırılarak koyu renkle gösterilmiştir.



Bu alanlarda nüfus yoğunluğunun az olmasına neden olan faktörler aşağıdakilerin hangisinde verilmiştir?

- | I | II | III |
|--------------------|------------------|-----------------|
| A) Yer şekilleri | Su yetersizliği | Sert iklim |
| B) Sert iklim | Yükseklik etkisi | Yer şekilleri |
| C) Bitki örtüsü | Yer şekilleri | Toprak verimi |
| D) Su yetersizliği | Toprak verimi | Bitki örtüsü |
| E) Toprak verimi | Sert iklim | Su yetersizliği |

11. Türkiye arazisinin yaklaşık % 62'si, eğim değeri % 15'in üzerinde olan sarp ve engebeli bir yapıya sahiptir. Şiddetli erozyonun yaşandığı bu alanlarda tarım alanları oldukça dardır. Nüfusun seyrek, toprak örtüsünün ince olduğu bu alanlar daha çok ormancılık veya hayvancılık faaliyetlerinin yoğunlaştığı yörelerdir.

Aşağıdaki yörelerden hangisi bu özellikleri daha az gösterir?

- | | | |
|--------------|--------------|-----------|
| A) Artvin | B) Tunceli | C) Manisa |
| D) Zonguldak | E) Kastamonu | |

12. Cumhuriyetin ilanından günümüze Türkiye ekonomisinin sektörlere göre oransal dağılımı büyük ölçüde değişim göstermiştir. Cumhuriyetin ilk yıllarında millî gelir içerisinde tarım sektörü en büyük paya sahipken günümüzde bu sektör üçüncü sıraya gerilemiştir.

Bu sektörün payının azalmasının en önemli nedeni aşağıdakilerden hangisidir?

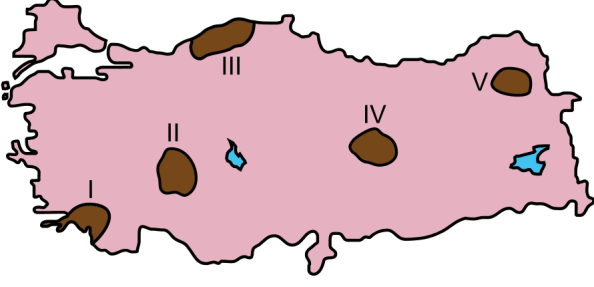
- A) Tarımsal arazilerin nitelik ve yapısının iyi olmaması
- B) Tarımsal arazilerin yeterli büyüklükte olmaması
- C) Gübre ve ilaç kullanımındaki yetersizlikler
- D) Tarımsal araç ve gereç kullanımındaki yetersizlikler
- E) Ekonomik büyümenin hizmet ve sanayi sektörüne bağlı gelişmesi

13. Türkiye arazisi, sahip olduğu coğrafi özelliklere bağlı olarak dünyadaki ilk yerleşim yerlerinden ve en eski medeniyetlerin kurulduğu bölgelerden biri olmuştur.

Bu durumun ortaya çıkmasında aşağıdakilerden hangisinin etkisi diğerlerinden daha azdır?

- A) Verimli toprakların bulunması
- B) Uygun iklim koşullarının bulunması
- C) Çeşitli madenlere sahip olması
- D) Su kaynaklarının yeterli olması
- E) Topoğrafik çeşitliliğinin bulunması

14.



Yukarıdaki haritada numaralandırılarak koyu renkle gösterilen alanların hangilerinde, step bitki örtüsü bölge sınıflandırmasında bir ölçüt olarak kullanılabilir?

- A) I ve II B) I ve V C) II ve IV
D) III ve IV E) III ve V

15. Aşağıda, 2013 yılı ihracat rakamlarına göre Türkiye'nin ihracatındaki ürün gruplarından bazıları verilmiştir.

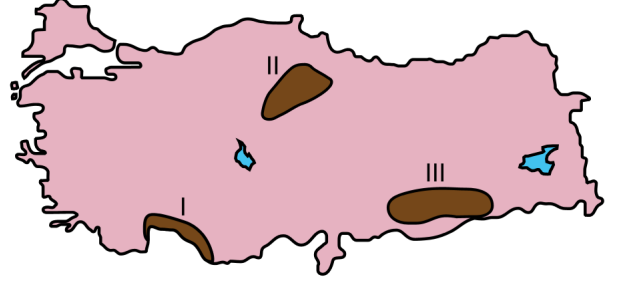
Buna göre;

- I. alüminyum ve alüminyum mamulleri,
- II. motorlu kara taşıtları,
- III. kazan, makine, cihazlar ve aletler,
- IV. pamuk, pamuk ipliği ve pamuklu dokuma

ürünlerinden hangilerinin payı ihracat içinde daha fazla yer tutar?

- A) I ve II B) I ve III C) II ve III
D) II ve IV E) III ve IV

16. Aşağıdaki haritada bazı alanlar numaralandırılarak koyu renkle gösterilmiştir.



Bu alanlarda gerçekleştirilen turizm faaliyetleriyle ilgili olarak aşağıdakilerden hangisi yanlıştır?

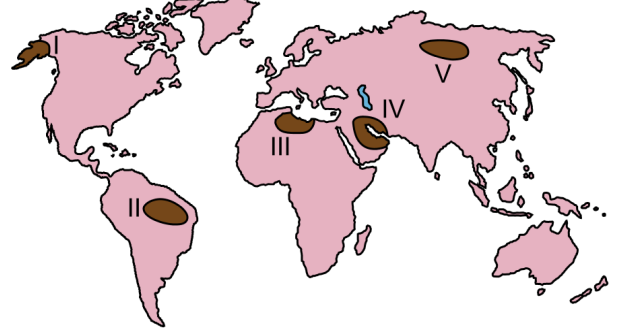
- A) I numaralı alanda, yaz aylarının sıcak geçmesi ve yağışın az olması deniz ve kıyı turizmini geliştirmiştir.
B) II numaralı alan, tarihî bakımdan oldukça zengin olmakla birlikte eski medeniyetlere ait izler de taşımaktadır.
C) III numaralı alanda bitki çeşitliliği, yaban hayatı, botanik ve av turizmi gelişmiştir.
D) I ve III numaralı alanlar, kültürel çeşitliliğe sahip olduğundan kültür turizmi gelişmiştir.
E) I ve II numaralı alanlarda, tarihî kalıntıların fazlalığı buraların koruma altına alınmasını sağlamıştır.

17. Bölge sınırları belirlenirken doğal özellikler, yaygın olarak kullanılan ölçütler arasında yer alır. Ancak zaman içerisinde meydana gelen beşerî müdahaleler, doğal özelliklerle belirlenmiş bir bölge sınırının değişebildiğini göstermektedir.

Bu durum, aşağıdakilerden hangisi için geçerli değildir?

- A) Dağlık bölgelerin madencilik faaliyetine bağlı olarak yerleşime açılması
- B) Bataklık bölgelerin iklime bağlı olarak kuruması sonucu tarıma açılması
- C) Orman bölgelerinin tahribat sonucu yerleşim alanına dönüşmesi
- D) Mera bölgelerinin sayfiye alanı olarak turizm faaliyetlerine açılması
- E) Ovalık bölgelerin nüfus artışına bağlı olarak yerleşime açılması

18. Aşağıdaki haritada bazı alanlar numaralandırılarak koyu renkle gösterilmiştir.



Bu alanlardaki ham madde kaynaklarıyla ilgili olarak aşağıdaki ifadelerden hangisi doğrudur?

- A) I ve II numaralı alanlar zengin kömür kaynaklarına sahiptir.
- B) II ve V numaralı alanlar önemli tarım alanlarına sahiptir.
- C) III ve IV numaralı alanlar zengin petrol kaynaklarına sahiptir.
- D) I ve IV numaralı alanlar ormanlar bakımından öneme sahiptir.
- E) III ve V numaralı alanlar zengin ve temiz su kaynaklarına sahiptir.

19. Dünyanın dördüncü büyük ekonomisine sahip olan Almanya, bu gücünü sanayi alanındaki gelişmişliğinden almaktadır.

Almanya'nın bu gücü yakalamasında;

- I. nüfus büyüklüğü,
- II. nitelikli iş gücü,
- III. nüfus artış oranının düşüklüğü,
- IV. zengin doğal kaynak

faktörlerinden hangileri daha fazla etkili olmuştur?

- A) I ve II
- B) I ve III
- C) II ve III
- D) II ve IV
- E) III ve IV

20. Geçmişten günümüze yapılan insan faaliyetleri doğayla etkileşim içerisinde gerçekleşmiştir. Bazı faaliyetlerin gerçekleştirilmesinde doğal unsurlar belirleyici olduğundan bu faaliyetler sadece belirli alanlarda yapılabilmektedir.

Bu durum;

- I. tarım,
- II. sanayi,
- III. madencilik,
- IV. hayvancılık

faaliyetlerinden hangilerinde daha fazla belirgindir?

- A) I ve II
- B) I ve III
- C) II ve III
- D) II ve IV
- E) III ve IV

21.

- I. Ülkede hizmet sektöründe çalışanların oranının az olması
- II. Tarım alanlarının dar ve toprak veriminin az olması
- III. Halkın temel geçim kaynağının tarım ve hayvancılık olması

Yukarıdakilerden hangileri, bir ülkede yaşanan kuraklığın afet boyutuna ulaşmasında etkilidir?

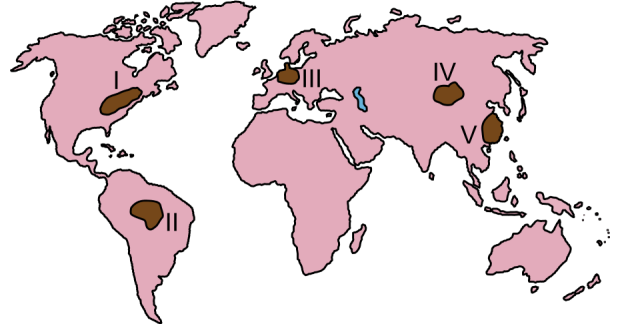
- A) Yalnız I
- B) Yalnız II
- C) Yalnız III
- D) I ve II
- E) II ve III

22. XIX. yüzyılda Batı Avrupa ülkelerinde başlayan sanayileşme faaliyetleri, zamanla Kuzey Amerika ve Doğu Asya ülkelerinde de gelişmeye başlamıştır. Demir-çelik sanayisi bu faaliyetlerin lokomotifini oluşturmuş ve gelişen teknoloji ile birlikte farklı sanayi kolları doğmuştur.

Buna göre, demir-çelik sanayisinin gelişmesinde aşağıdaki doğal kaynaklardan hangisi etkili olmuştur?

- A) Linyit
- B) Petrol
- C) Ormanlar
- D) Doğal gaz
- E) Taş kömürü

23. Aşağıdaki haritada bazı alanlar numaralandırılarak koyu renkle gösterilmiştir.



Bu alanların hangilerinde hava kirliliğine neden olan faaliyetler diğerlerinden daha azdır?

- A) I ve II
- B) I ve V
- C) II ve IV
- D) III ve IV
- E) III ve V

24. Tarım alanları, insanların beslenmesi bakımından en önemli kaynakların başında gelmektedir. Ancak hatalı kullanımlar, tarım toprakları üzerinde önemli bir baskı oluşturmaktadır.

Bu alanların korunmasına yönelik yapılacak uygulamalar arasında aşağıdakilerden hangisi yoktur?

- A) Sürdürülebilir tarım işletmeciliği teşvik edilmelidir.
- B) Toprakların çoraklaşmasına karşı önlem alınmalıdır.
- C) Verimliliği yükseltmek için gübre kullanımı artırılmalıdır.
- D) Ekolojik ilkelere dayalı tarım politikaları geliştirilmelidir.
- E) Toprakların önemi konusunda çiftçiler bilinçlendirilmelidir.

SINAVDA UYULACAK KURALLAR

1. Sınav salonunda saate entegre kamera ile kayıt yapılıyor ise; kamera kayıtlarının incelenmesinden sonra sınav kurallarına uymadığı tespit edilen adayların sınavları ÖSYM Yönetim Kurulunca geçersiz sayılacaktır.
2. Cep telefonu ile sınava girmek kesinlikle yasaktır. Her türlü elektronik/mekanik cihazla ve çağrı cihazı, telsiz, fotoğraf makinesi vb. araçlarla; cep bilgisayarını, her türlü saat ile, kablosuz iletişim sağlayan bluetooth, kulaklık vb. her türlü bilgisayar özelliği bulunan cihazlarla; her türlü kesici ve delici alet, ateşli silah vb. teçhizatla; kalem, silgi, kalemtıraş, müsvedde kâğıdı, defter, kitap, ders notu, sözlük, dergi, gazete vb. yayınlar, hesap makinesi, pergel, açılabilir, cetvel vb. araçlarla sınava girmek kesinlikle yasaktır. Adayların sınav kolye, küpe, yüzük (alyans hariç), bilezik, broş, anahtar, anahtarlık, metal para gibi metal içerikli eşyalarla (basit başörtü iğnesi ve ince metal tokalı kemer hariç); plastik veya camdan yapılmış her türlü güneş gözlüğü ile (şeffaf/numaralı gözlük hariç), banka/kredi kartı ulaşım kartı vb. kartlarla; yiyecek, içecek (şeffaf pet şişe içerisindeki su hariç) ve diğer tüketim maddeleri ile gelmeleri kesinlikle yasaktır. Bu araçlarla sınava girmiş adayların adı mutlaka Salon Sınav Tutanağına yazılacak, bu adayların sınavı geçersiz sayılacaktır.

Ancak, ÖSYM Başkanlığı tarafından belirlenen Engelli ve Yedek Sınav Evrakı Yönetim Merkezi (YSYM) binalarında sınava girecek olan engelli adayların sınav giriş belgelerinde yazılı olan araç gereçler, cihazlar vb. yukarıda belirtilen yasakların kapsamı dışında değerlendirilecektir.

3. Bu test için verilen cevaplama süresi **35 dakikadır**. LYS-3'te adaylar **Türk Dili ve Edebiyatı Testinin cevaplama süresi içinde, Coğrafya-1 Testinin ilk 15 ve son 15 dakikası** içinde sınav salonundan ayrılamazlar. İki test arasında birinci testin soru kitapçığının toplanması ve ikinci testin soru kitapçığının dağıtılması işlemleri dışında ara verilmez. Toplama ve dağıtma işlemi sırasında adayların salondan dışarı çıkmaları kesinlikle yasaktır. **Bu süreler dışında, cevaplama süresi bitmeden tamamlarsanız cevap kâğıdınızı ve soru kitapçığınızı salon görevlilerine teslim ederek salonu terk edebilirsiniz. Bildirilen süreler aykırı davranışlardan adayın kendisi sorumludur.**
4. Sınav salonundan ayrılan aday, her ne sebeple olursa olsun, tekrar sınava alınmayacaktır.
5. Sınav süresince görevlilerle konuşmak, görevlilere soru sormak yasaktır. Aynı şekilde görevlilerin de adaylarla yakından ve alçak sesle konuşmaları ayrıca adayların birbirinden kalem, silgi vb. şeyleri istemeleri kesinlikle yasaktır.
6. Sınav sırasında, görevlilerin her türlü uyarısına uymak zorundasınız. Sınavınızın geçerli sayılması, her şeyden önce, sınav kurallarına uymanıza bağlıdır. Kurallara aykırı davranışta bulunanların ve yapılacak uyarılara uymayanların kimlik bilgileri Salon Sınav Tutanağına yazılacak ve sınavları geçersiz sayılacaktır.
7. Sınav sırasında kopya çeken, çekmeye kalkışan, kopya veren, kopya çekilmesine yardım edenlerin kimlik bilgileri Salon Sınav Tutanağına yazılacak ve bu adayların sınavları geçersiz sayılacaktır.
Adayların test sorularına verdikleri cevapların dağılımları bilgi işlem yöntemleriyle incelenecek, bu incelemelerden elde edilen bulgular bireysel veya toplu olarak kopya çekildiğini gösterirse kopya eylemine katılan adayın/adayların sınavı geçersiz sayılacak ayrıca 2 yıl boyunca ÖSYM tarafından düzenlenen tüm sınavlara başvurusu yasaklanabilecektir.
Sınav görevlileri bir salondaki sınavın, kurallara uygun biçimde yapılmadığını, toplu kopya girişiminde bulunulduğunu raporlarında bildirdiği takdirde, ÖSYM bu salonda sınava giren tüm adayların sınavını geçersiz sayabilir.
8. Cevap kâğıdında doldurmanız gereken alanlar bulunmaktadır. Bu alanları doldurunuz. Cevap kâğıdınızı başkaları tarafından görülmeyecek şekilde tutmanız gerekmektedir. Cevap kâğıdına yazılacak her türlü yazıda ve yapılacak bütün işaretlemelerde kurşun kalem kullanılacaktır. Sınav süresi bittiğinde cevapların cevap kâğıdına işaretlenmiş olması gerekir. Soru kitapçığına işaretlenen cevaplar geçerli değildir.
9. Soru kitapçığınızı alır almaz kapağında bulunan ilgili alanları doldurunuz. Size söylendiği zaman sayfaların eksik olup olmadığını, kitapçıkta basım hatalarının bulunup bulunmadığını ve soru kitapçığının her sayfasında basılı bulunan soru kitapçık numarasının, kitapçığın ön kapağında basılı soru kitapçık numarasıyla aynı olup olmadığını kontrol ediniz. Soru kitapçığının sayfası eksik veya basımı hatalıysa değiştirilmesi için salon başkanına başvurunuz.
Size bu sınavın her bir testi için ayrı ayrı kitapçıklar verilmektedir. Her kitapçığın Soru Kitapçık Numarası birbirinden farklıdır. Bu nedenle her test için aldığınız kitapçığın Soru Kitapçık Numarasını cevap kâğıdınızdaki ilgili alana kodlamanız çok önemlidir. Cevap kâğıdınızdaki "Soru Kitapçık Numaralarını doğru kodladım." kutucuğunu işaretleyiniz.
LYS-3'te size verilen Coğrafya-1 Testinin Soru Kitapçık Numarasını cevap kâğıdınızdaki "Coğrafya-1 Soru Kitapçık Numarası" alanına kodlayınız.
Soru kitapçığı üzerinde yer alan Soru Kitapçık Numarasını doğru kodladığınızı beyan eden alanı imzalayınız.
10. Sınav sonunda soru kitapçıkları toplanacak ve ÖSYM'de incelenecektir. Soru kitapçığının sayfalarını koparmayınız. Soru kitapçığının bir sayfası bile eksik çıkarsa sınavınız geçersiz sayılacaktır.
11. Cevap kâğıdına ve soru kitapçığına yazılması ve işaretlenmesi gereken bilgilerde bir eksiklik ve/veya yanlışlık olması hâlinde sınavınızın değerlendirilmesi mümkün değildir, bu husustaki özen yükümlülüğü ve sorumluluk size aittir.
12. Soru kitapçığının sayfalarındaki boş yerleri müsvedde için kullanabilirsiniz.
13. Soruları ve/veya bu sorulara verdiğiniz cevapları ayrı bir kâğıda yazıp bu kâğıdı dışarı çıkarmanız kesinlikle yasaktır.
14. Her testin cevaplarını cevap kâğıdındaki ilgili alana işaretleyiniz.
15. **Sınav salonundan ayrılmadan önce, soru kitapçığınızı, cevap kâğıdınızı ve sınava giriş belgenizi salon görevlilerine eksiksiz olarak teslim etmeyi unutmayınız.**
16. Sınav süresi salon görevlilerinin "SINAV BAŞLAMIŞTIR" ibaresiyle başlar, "SINAV BİTMİŞTİR" ibaresiyle sona erer.

Bu testlerin her hakkı saklıdır. Hangi amaçla olursa olsun, testlerin tamamının veya bir kısmının Merkezimizin yazılı izni olmadan kopya edilmesi, fotoğrafının çekilmesi, herhangi bir yolla çoğaltılması, yayımlanması ya da kullanılması yasaktır. Bu yasağa uymayanlar gerekli cezai sorumluluğu ve doğacak tüm mali külfeti peşinen kabullenmiş sayılır.

LİSANS YERLEŐTİRME SINAVI-3
COĖRAFYA-1 TESTİ
21.06.2015

- | | |
|-------|-------|
| 1. C | 21. E |
| 2. D | 22. E |
| 3. B | 23. C |
| 4. C | 24. C |
| 5. D | |
| 6. A | |
| 7. A | |
| 8. C | |
| 9. A | |
| 10. A | |
| 11. C | |
| 12. E | |
| 13. C | |
| 14. C | |
| 16. C | |
| 17. B | |
| 18. C | |
| D | |
| 20. B | |

ÖSYM