



T.C. Ölçme, Seçme ve Yerleştirme Merkezi

**LİSANS YERLEŐTİRME SINAVI-4  
COĞRAFYA-2 TESTİ  
13 HAZİRAN 2015 CUMARTESİ**

*Bu testlerin her hakkı saklıdır. Hangi amaçla olursa olsun, testlerin tamamının veya bir kısmının Merkezimizin yazılı izni olmadan kopya edilmesi, fotoğrafının çekilmesi, herhangi bir yolla çoğaltılması, yayımlanması ya da kullanılması yasaktır. Bu yasağa uymayanlar gerekli cezai sorumluluğu ve testlerin hazırlanmasındaki mali külfeti peşinen kabullenmiş sayılır.*

## AÇIKLAMA

1. Bu kitapçıkta Lisans Yerleşirme Sınavı-4 **Coğrafya-2 Testi** bulunmaktadır.
2. Bu test için verilen cevaplama süresi **20 dakikadır**.
3. Bu testte yer alan her sorunun sadece bir doğru cevabı vardır. Bir soru için birden çok cevap yeri işaretlenmişse o soru yanlış cevaplanmış sayılacaktır.
4. İşaretlediğiniz bir cevabı değiştirmek istediğinizde, silme işlemini çok iyi yapmanız gerektiğini unutmayınız.
5. **Bu test puanlanırken doğru cevaplarınızın sayısından yanlış cevaplarınızın sayısının dörtte biri çıkarılacak ve kalan sayı ham puanınız olacaktır.**
6. Cevaplamaya istediğiniz sorudan başlayabilirsiniz. Bir soru ile ilgili cevabınızı, cevap kâğıdında o soru için ayrılmış olan yere işaretlemeyi unutmayınız.
7. Sınavda uyulacak diğer kurallar bu kitapçığın arka kapağında belirtilmiştir.

1. Bu testte 14 soru vardır.

2. Cevaplarınızı, cevap kâğıdının Coğrafya-2 Testi için ayrılan kısmına işaretleyiniz.

1.

- I. Sıcaklık ile yağışa bağlı olarak gür ve çeşitli bitki toplulukları gelişir.
- II. Yıllık kar yağışlı gün sayısı ve karın yerde kalma süresi fazladır.
- III. Kimyasal çözülmeye bağlı olarak bazı kayalarda lapy ve dolinler oluşur.

**Yukarıdakilerden hangileri, bir yörenin iklim özellikleriyle doğrudan ilişkilidir?**

- A) Yalnız I      B) Yalnız II      C) I ve II  
D) II ve III      E) I, II ve III

2. Bilimsel çalışmalar orta kuşaktaki biyoçeşitliliğin 100-135 bin yıl önce çok daha farklı olduğunu ortaya koymuştur. Yapılan polen analizi ve relikt bitki topluluklarının değerlendirilmesiyle o dönemde daha gür bir bitki örtüsünün bulunduğu sonucuna ulaşılmıştır.

**Buna göre, sözü edilen farklılığın nedeni aşağıdakilerden hangisidir?**

- A) Deniz seviyesinde görülen değişimler  
B) Toprak oluşum hızının değişmesi  
C) Küresel iklimde görülen değişiklikler  
D) Epirojenik hareketlerin yavaşlaması  
E) Kıtaların konumlarının değişmesi

3.



**Yukarıdaki haritada daire içine alınıp koyu renkle gösterilen alanda, aşağıdakilerden hangisi görülmesi beklenen ekstrem olaylardan biri değildir?**

- A) Volkanik patlamalar sonucunda can ve mal kayıplarının yaşanması  
B) Şiddetli kasırgalar sonucunda binlerce kişinin evini terk etmesi  
C) Aşırı düşük sıcaklıkların insan ve diğer canlıları olumsuz etkilemesi  
D) Aşırı yağışlara bağlı oluşan sel ve taşkınların tarıma zarar vermesi  
E) Depremler sonucu oluşan tsunamilerde can ve mal kayıplarının yaşanması

4. Dünyada yürütülen çeşitli ekonomik faaliyetler birbiriyle ilişkili bir şekilde sürdürülmekte olup bu faaliyetlerin temelinde insanın ihtiyaçları bulunur. Bu faaliyetler sırasında üretilen bazı ürünlerin kısa sürede tüketim bölgelerine ulaştırılma zorunluluğu, özel teknolojilerle donatılmış ulaşım araçlarının geliştirilmesiyle üretimde artışa neden olmuştur.

**Bu durum, aşağıdaki faaliyet alanlarının hangisinde daha fazla etkili olmuştur?**

- A) Kozmetik      B) Gıda      C) Tekstil  
D) Orman      E) Elektronik

5. Sanayi Devrimi sonrasında başlayan ve günümüzde de devam eden, kırsal kesimlerden şehirlere doğru gerçekleşen göç; özellikle, gelişmekte olan ülkelerin şehirlerinde pek çok soruna neden olmaktadır.

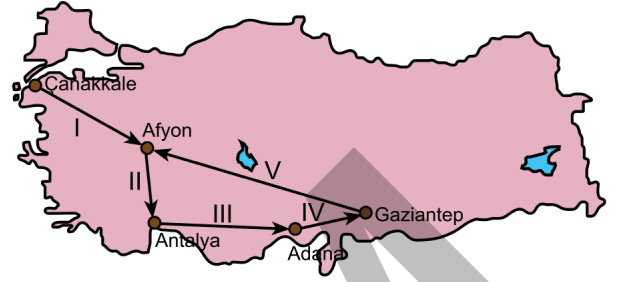
**Bu şehirlerle ilgili olarak,**

- I. Nüfus içinde yaşlı bağımlı oranları çok yüksektir.  
II. Sağlıksız konut üretimi ve plansız yapılaşma yaygındır.  
III. Nüfusta işsizlik oranları oldukça yüksektir.

**yargılarından hangileri doğrudur?**

- A) Yalnız I      B) Yalnız II      C) Yalnız III  
D) I ve II      E) II ve III

6. Aşağıdaki haritada ocak ayında bir öğrencinin seyahat ettiği şehirler ve bu seyahatin rotası numaralandırılarak gösterilmiştir.



**Bu öğrencinin seyahat ettiği şehirlerden hangi ikisi arasındaki rotada sıcaklık farkının daha fazla olması beklenir?**

- A) I      B) II      C) III      D) IV      E) V

7. Türkiye'deki birçok kıyı şehrinin gelişiminde şehrin hinterlandının önemli bir etkisi olmuştur. Ekonomik olarak limanı besleyen ve limanla etkileşen alan olarak bilinen hinterland; kapsamı içerisindeki sanayi, ticaret, tarım alanları ve enerji kaynaklarının yayıldığı alanın genişliği oranında şehrin gelişimine katkı sağlar.

**Bu durumun, Karadeniz kıyı kuşağında en fazla etkilediği yerleşim birimi aşağıdakilerden hangisidir?**

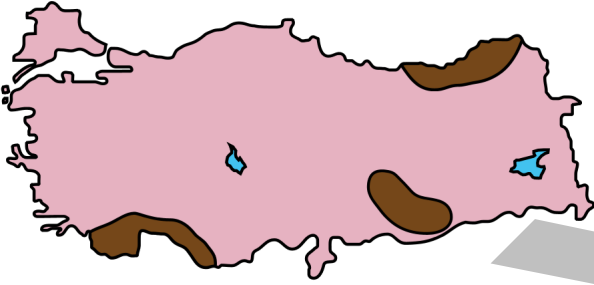
- A) Sinop      B) Ereğli      C) İnebolu  
D) Trabzon      E) Zonguldak

8. Türkiye'nin sahip olduğu iklim çeşitliliği ekonomik faaliyetler üzerinde de önemli bir etkiye sahiptir. Özellikle tarıma dayalı sanayi kollarının kuruluşunda ve gelişiminde bu etki açıkça görülmektedir.

Buna göre, aşağıdaki sanayi kollarından hangisi bu duruma örnek gösterilemez?

- A) Kâğıt                      B) Gübre                      C) Tekstil  
D) Tütün                      E) Şeker

9.



Yukarıdaki haritada Türkiye turizmde önemli paya sahip bazı doğal ve kültürel mekânların bulunduğu alanlar koyu renkle gösterilmiştir.

Bu alanlarda bulunan ve uluslararası öneme sahip olan turizm merkezleri arasında aşağıdakilerden hangisi yoktur?

- A) Sümela Manastırı  
B) Nemrut Heykelleri  
C) Aspendos Tiyatrosu  
D) Side Antik Şehri  
E) Pamukkale Travertenleri

10. Dünyada en fazla yükleme ve boşaltmanın yapıldığı limanların sıralamasında son 20 yıl içerisinde önemli değişiklikler olmuştur. Bu süre içerisinde ABD ve Avrupa limanları sıralamada gerilerken Uzak Doğu'da yer alan limanlar üst sıralara yükselmiştir.

Bu yükselişin temel nedeni aşağıdakilerden hangisidir?

- A) Uzak Doğu'daki nüfus artış oranının daha fazla olması  
B) Bu dönemde Uzak Doğu'da tarımsal ihracatın artması  
C) Uzak Doğu'da sanayi ve ticaret faaliyetlerinin hızla gelişmesi  
D) Uzak Doğu limanlarında petrol ihracatı payının yükselmesi  
E) Uzak Doğu'da son yıllarda turizm faaliyetlerindeki gelişmeler

11. Sanayi Devrimi'nin ilk yıllarında 6 milyon civarında bir nüfusa sahip olan İngiltere'nin, 80 yıl gibi bir sürede nüfusu 14 milyonu aşmıştır. Bu hızlı nüfus artışı, o zamana kadar dünyanın hiçbir ülkesinde karşılaşılmayan bir gelişmeydi.

Bu artışa neden olan faktörler arasında aşağıdakilerden hangisi bulunmaz?

- A) Çocuk sayısına göre yardım alınması  
B) Ailelerin fazla çocuk sahibi olma isteği  
C) Sağlık koşullarının gittikçe iyileştirilmesi  
D) Çocuk iş gücüne olan talebin yükselmesi  
E) Erken evliliklerin devletçe teşvik edilmesi

12. Ormanlar, sağladıkları çok yönlü ekonomik ve ekolojik yararlar nedeniyle bütün dünya için en önemli doğal kaynaklardır. Ancak insan faaliyetlerine bağlı olarak orman varlığındaki hızlı azalma, çok önemli çevresel sorunların ortaya çıkmasına neden olmaktadır.

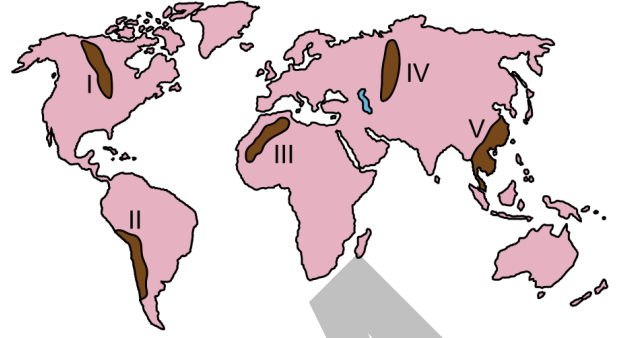
**Aşağıdaki alanların hangisinde bu sorunlar sanayideki gelişmelerin etkisiyle daha erken görülmeye başlanmıştır?**

- A) Avustralya                      B) Batı Avrupa  
C) Orta Afrika                      D) Sibiry  
E) Amazon Havzası

13. Küresel çevre sorunlarından biri olan asit yağmurlarının, aşağıdakilerden hangisi üzerinde etkisi olduğu söylenemez?

- A) Orman tahribatına yol açması  
B) Göllerde asit dengesinin bozulması  
C) Mimari yapıların zarar görmesi  
D) Küresel ısınmayı artırması  
E) Toprakların pH dengesini değiştirmesi

14.



Yukarıdaki haritada bazı alanlar numaralandırılarak koyu renkle gösterilmiştir.

**Bu alanların hangilerinde meydana gelecek depremlerin yerleşme yoğunluğuna bağlı olarak daha fazla can ve mal kaybına neden olması beklenir?**

- A) I ve III                      B) I ve IV                      C) II ve III  
D) II ve V                      E) IV ve V

## SINAVDA UYULACAK KURALLAR

1. Sınav salonunda saate entegre kamera ile kayıt yapılıyor ise; kamera kayıtlarının incelenmesinden sonra sınav kurallarına uymadığı tespit edilen adayların sınavları ÖSYM Yönetim Kurulunca geçersiz sayılacaktır.
2. Cep telefonu ile sınava girmek kesinlikle yasaktır. Her türlü elektronik/mekanik cihazla ve çağrı cihazı, telsiz, fotoğraf makinesi vb. araçlarla; cep bilgisayarı, her türlü saat ile, kablosuz iletişim sağlayan bluetooth, kulaklık vb. her türlü bilgisayar özelliği bulunan cihazlarla; her türlü kesici ve delici alet, ateşli silah vb. teçhizatla; kalem, silgi, kalemтираш, müsvedde kâğıdı, defter, kitap, ders notu, sözlük, dergi, gazete vb. yayınlar, hesap makinesi, pergel, açöölçer, cetvel vb. araçlarla sınava girmek kesinlikle yasaktır. Adayların sınava kolye, küpe, yüzük (alyans hariç), bilezik, broş, anahtar, anahtarlık, metal para gibi metal içerikli eşyalarla (basit başörtü iğnesi ve ince metal tokalı kemer hariç); plastik veya camdan yapılmış her türlü güneş gözlüğü ile (şeffaf/numaralı gözlük hariç), banka/kredi kartı ulaşım kartı vb. kartlarla; yiyecek, içecek (şeffaf pet şişe içerisindeki su hariç) ve diğer tüketim maddeleri ile gelmeleri kesinlikle yasaktır. Bu araçlarla sınava girmiş adayların adı mutlaka Salon Sınav Tutanağına yazılacak, bu adayların sınavı geçersiz sayılacaktır.

**Ancak, ÖSYM Başkanlığı tarafından belirlenen Engelli ve Yedek Sınav Evrakı Yönetim Merkezi (YSYM) binalarında sınava girecek olan engelli adayların sınava giriş belgelerinde yazılı olan araç gereçler, cihazlar vb. yukarıda belirtilen yasakların kapsamı dışında değerlendirilecektir.**

3. Bu test için verilen cevaplama süresi **20 dakikadır**. LYS-4'te adaylar **Tarih Testinin ve Coğrafya-2 Testinin cevaplama süresi içinde, Felsefe Grubu İle Din Kültürü ve Ahlak Bilgisi Testinin ilk 15 ve son 15 dakikası içinde sınav salonundan ayrılamazlar**. İki test arasında birinci testin soru kitapçığının toplanması, ikinci ve üçüncü testin soru kitapçığının dağıtılması işlemleri dışında ara verilmez. Toplama ve dağıtma işlemi sırasında adayların salondan dışarı çıkmaları kesinlikle yasaktır. **Bu süreler dışında, cevaplama süresini bitirmeden tamamlarsanız cevap kâğıdınızı ve soru kitapçığınızı salon görevlilerine teslim ederek salonu terk edebilirsiniz. Bildirilen süreleri aynkırı davranışlardan adayın kendisi sorumludur.**

4. Sınav salonundan ayrılan aday, her ne sebeple olursa olsun, tekrar sınava alınmayacaktır.
5. Sınav süresince görevlilerle konuşmak, görevlilere soru sormak yasaktır. Aynı şekilde görevlilerin de adaylarla yakından ve alçak sesle konuşmaları ayrıca adayların birbirinden kalem, silgi vb. şeyleri istemeleri kesinlikle yasaktır.
6. Sınav sırasında, görevlilerin her türlü uyarısına uymak zorundasınız. Sınavınızın geçerli sayılması, her şeyden önce, sınav kurallarına uymanıza bağlıdır. Kurallara aykırı davranışta bulunanların ve yapılacak uyarılara uymayanların kimlik bilgileri Salon Sınav Tutanağına yazılacak ve sınavları geçersiz sayılacaktır.

7. Sınav sırasında kopya çeken, çekmeye kalkışan, kopya veren, kopya çekilmesine yardım edenlerin kimlik bilgileri Salon Sınav Tutanağına yazılacak ve bu adayların sınavları geçersiz sayılacaktır.

Adayların test sorularına verdikleri cevapların dağılımları bilgi işlem yöntemleriyle incelenecek, bu incelemelerden elde edilen bulgular bireysel veya toplu olarak kopya çekildiğini gösterirse kopya eylemine katılan adayın/adayların sınavı geçersiz sayılacak ayrıca 2 yıl boyunca ÖSYM tarafından düzenlenen tüm sınavlara başvurusu yasaklanabilecektir.

Sınav görevlileri bir salondaki sınavın, kurallara uygun biçimde yapılmadığını, toplu kopya girişiminde bulunduğu raporlarında bildirdiği takdirde, ÖSYM bu salonda sınava giren tüm adayların sınavını geçersiz sayabilir.

8. Cevap kâğıdında doldurmanız gereken alanlar bulunmaktadır. Bu alanları doldurunuz. Cevap kâğıdınızı başkaları tarafından görülmeyecek şekilde tutmanız gerekmektedir. Cevap kâğıdına yazılacak her türlü yazıda ve yapılacak bütün işaretlemelerde kurşun kalem kullanılacaktır. Sınav süresi bittiğinde cevapların cevap kâğıdına işaretlenmiş olması gerekir. Soru kitapçığına işaretlenen cevaplar geçerli değildir.
9. Soru kitapçığınızı alır almaz kapağında bulunan ilgili alanları doldurunuz. Size söylendiği zaman sayfaların eksik olup olmadığını, kitapçıkta basım hatalarının bulunup bulunmadığını ve soru kitapçığının her sayfasında basılı bulunan soru kitapçık numarasının, kitapçığın ön kapağında basılı soru kitapçık numarasıyla aynı olup olmadığını kontrol ediniz. Soru kitapçığının sayfası eksik veya basımı hatalıysa değiştirilmesi için salon başkanına başvurunuz.

Size bu sınavın her bir testi için ayrı ayrı kitapçıklar verilmektedir. Her kitapçığın Soru Kitapçık Numarası birbirinden farklıdır. Bu nedenle her test için aldığınız kitapçığın Soru Kitapçık Numarasını cevap kâğıdınızdaki ilgili alana kodlamanız çok önemlidir. Cevap kâğıdınızdaki "Soru Kitapçık Numaralarını doğru kodladım." kutucuğunu işaretleyiniz.

**LYS-4'te size verilen Coğrafya-2 Testinin Soru Kitapçık Numarasını cevap kâğıdınızdaki "Coğrafya-2 Soru Kitapçık Numarası" alanına kodlayınız.**

**Soru kitapçığı üzerinde yer alan Soru Kitapçık Numarasını doğru kodladığınızı beyan eden alanı imzalayınız.**

10. Sınav sonunda soru kitapçıkları toplanacak ve ÖSYM'de incelenecektir. Soru kitapçığının sayfalarını koparmayınız. Soru kitapçığının bir sayfası bile eksik çıkarsa sınavınız geçersiz sayılacaktır.
11. Cevap kâğıdına ve soru kitapçığına yazılması ve işaretlenmesi gereken bilgilerde bir eksiklik ve/veya yanlışlık olması hâlinde sınavınızın değerlendirilmesi mümkün değildir, bu husustaki özen yükümlülüğü ve sorumluluk size aittir.
12. Soru kitapçığının sayfalarındaki boş yerleri müsvedde için kullanabilirsiniz.
13. Soruları ve/veya bu sorulara verdiğiniz cevapları ayrı bir kâğıda yazıp bu kâğıdı dışarı çıkarmanız kesinlikle yasaktır.
14. Her testin cevaplarını cevap kâğıdındaki ilgili alana işaretleyiniz.
15. **Sınav salonundan ayrılmadan önce, soru kitapçığınızı, cevap kâğıdınızı ve sınava giriş belgenizi salon görevlilerine eksiksiz olarak teslim etmeyi unutmayınız.**
16. Sınav süresi salon görevlilerinin "SINAV BAŞLAMIŞTIR" ibaresiyle başlar, "SINAV BİTMİŞTİR" ibaresiyle sona erer.

*Bu testlerin her hakkı saklıdır. Hangi amaçla olursa olsun, testlerin tamamının veya bir kısmının Merkezimizin yazılı izni olmadan kopya edilmesi, fotoğrafının çekilmesi, herhangi bir yolla çoğaltılması, yayımlanması ya da kullanılması yasaktır. Bu yasağa uymayanlar gerekli cezai sorumluluğu ve doğacak tüm mali külfeti peşinen kabullenmiş sayılır.*

LİSANS YERLEŐTİRME SINAVI-4  
COĖRAFYA-2 TESTİ  
13.06.2015

1. C
2. C
3. C
4. B
5. E
6. B
7. D
8. B
9. E
10. C
11. E
12. B
13. D
14. D

ÖSYM