



T.C. Ölçme, Seçme ve Yerleştirme Merkezi

LİSANS YERLEŐTİRME SINAVI-4

COĞRAFYA-2 TESTİ

10 HAZİRAN 2017

CUMARTESİ

Bu testlerin her hakkı saklıdır. Hangi amaçla olursa olsun, testlerin tamamının veya bir kısmının Merkezimizin yazılı izni olmadan kopya edilmesi, fotoğrafının çekilmesi, herhangi bir yolla çoğaltılması, yayımlanması ya da kullanılması yasaktır. Bu yasağa uymayanlar gerekli cezai sorumluluğu ve testlerin hazırlanmasındaki mali külfeti peşinen kabullenmiş sayılır.

AÇIKLAMA

1. Bu kitapçıkta Lisans Yerleştirme Sınavı-4 Coğrafya-2 Testi bulunmaktadır.
2. Bu test için verilen cevaplama süresi **20 dakikadır**.
3. Bu testte yer alan her sorunun sadece bir doğru cevabı vardır. Bir soru için birden çok cevap yeri işaretlenmişse o soru yanlış cevaplanmış sayılacaktır.
4. İşaretlediğiniz bir cevabı değiştirmek istediğinizde, silme işlemini çok iyi yapmanız gerektiğini unutmayınız.
5. Bu test puanlanırken doğru cevaplarınızın sayısından yanlış cevaplarınızın sayısının dörtte biri çıkarılacak ve kalan sayı ham puanınız olacaktır. Kısa cevaplı sorular bu uygulamanın dışında tutulacaktır.
6. Cevaplamaya istediğiniz sorudan başlayabilirsiniz. Bir soru ile ilgili cevabınızı, cevap kâğıdında o soru için ayrılmış olan yere işaretlemeyi unutmayınız.
7. Kısa cevaplı soruları, cevap kâğıdındaki ilgili alana sola dayalı olarak yazıp kodlayınız.
8. Sınavda uyulacak diğer kurallar bu kitapçığın arka kapağında belirtilmiştir.



1. Bu testte 14 soru vardır.
2. Cevaplarınızı, cevap kâğıdının Coğrafya-2 Testi için ayrılan kısmına işaretleyiniz.

1. Aşağıdakilerden hangisi, Dünya'nın Güneş etrafındaki yörüngesinin elips şeklinde olmasının bir sonucudur?

- A) Kuzey Yarım Küre'de yaz mevsiminin daha uzun sürmesi
- B) Ankara'nın ekinoks tarihlerinde güneş ışınlarını aynı açı ile alması
- C) Güney Yarım Küre'de kış mevsiminin daha ılıman yaşanması
- D) İstanbul'da gece ve gündüz sürelerinin yıl içinde uzayıp kısılması
- E) Kutup noktalarında 6 ay gündüz ve 6 ay gece yaşanması

2. Aşağıdakilerden hangisi, yeryüzünde karbondioksitin açığa çıkmasına neden olan etkenlerden biri değildir?

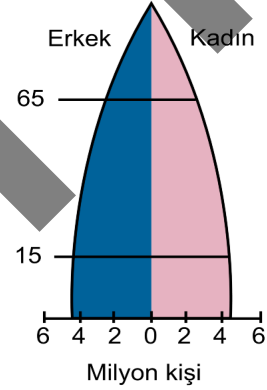
- A) Fosil yakıt kullanımı
- B) Volkanizma
- C) İnsan ve hayvan solunumu
- D) Orman yangınları
- E) Bitkilerin fotosentez yapması

3. İnsan, doğal ortamı ihtiyaçları doğrultusunda faydalı bir şekilde kullanmak için düzenleyebilir. Böylece yaşamı kolaylaştırır ve yaşamın verimliliğini artırır.

Aşağıdakilerden hangisi insanın, bu doğrultuda gerçekleştirdiği bir düzenlemeye örnektir?

- A) Gökova Körfezi
- B) Rotterdam Limanı
- C) Cebelitarık Boğazı
- D) Bering Boğazı
- E) İsveç Fiyordları

4. Aşağıda, bir ülkeye ait nüfus piramidi verilmiştir.



Bu ülke için aşağıdakilerden hangisi söylenebilir?

- A) Sağlık hizmetleri yetersizdir.
- B) Nüfusu hızla artmaktadır.
- C) Aktif nüfus oranı düşüktür.
- D) İstihdam oranı düşüktür.
- E) Gelişmiş bir ülkedir.





2017-LYS4/COĞ-2

5. I. Doğal gaz
II. Taş kömürü
III. Hayvansal ürünler
IV. Pamuklu dokuma

Yukarıdakilerden hangilerinin uluslararası pazarlara ulaştırılmasında, özel donanımına sahip araçların geliştirilmesinin etkisi **daha fazladır**?

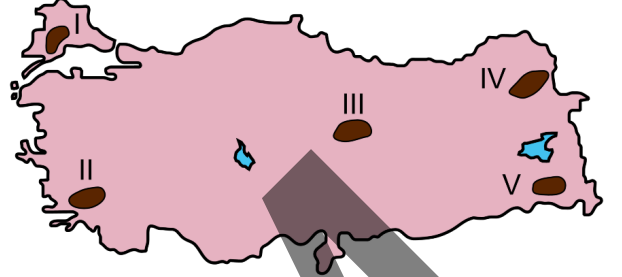
- A) I ve II B) I ve III C) II ve III
D) II ve IV E) III ve IV

6. Ulusal ve uluslararası göçlerin çoğunluğu büyük kentlere doğru olmaktadır. Büyük kentlerdeki mevcut iş imkânları, sosyokültürel faaliyetler ve daha yüksek hayat standartları, göçleri yönlendiren faktörlerin başında gelmektedir. Bununla birlikte göçe katılan bireylerin çoğu bu faaliyetlerin ancak küçük bir kısmından faydalanabilmekte ve göçler nedeniyle şehirlerde çeşitli sorunlar da yaşanabilmektedir.

Aşağıdakilerden hangisi bu sorunlardan biri **değildir**?

- A) Altyapı yatırımlarına duyulan ihtiyacın artması
B) Yerleşme amacıyla boş olan kamu arazilerinin kullanıma açılması
C) Sanayi ve ticaret sektöründe iş gücü olanaklarının artması
D) Sanayi alanları ile limanların yakın çevresinin yerleşmeye açılması
E) Kentsel dönüşüm ve kentsel yenileme gibi projelere duyulan ihtiyacın artması

7. Aşağıdaki haritada bazı alanlar numaralandırılarak koyu renkle gösterilmiştir.



Bu alanların hangisinde yaz yağışlarının oranı diğerlerine göre **daha fazladır**?

- A) I B) II C) III D) IV E) V

8. Türkiye'de, tarım ve yerleşme faaliyetleri açısından dağların güney yamaçlarında kalan alanlarda araziden faydalanma oranının daha yüksek olduğu görülmektedir.

Bu durumun temel nedeni aşağıdakilerden hangisidir?

- A) Toprakların tarıma daha elverişli olması
B) Bitki çeşitliliğinin daha fazla olması
C) Su kaynaklarının daha fazla olması
D) İklim şartlarının daha uygun olması
E) Yerçekillerinin daha sade olması





2017-LYS4/COĞ-2

9. Nüfus sayım sonuçlarına bakılarak, bir ülkenin gelecekteki nüfus özellikleri üzerinde bazı değerlendirmeler yapmak mümkündür. Türkiye'nin son 40 yıllık nüfus özellikleri incelendiğinde doğum oranlarının azaldığı, ortalama yaşam süresinin uzadığı ve nüfus artış hızının düştüğü görülmektedir.

Buna göre 2023 yılında Türkiye nüfusunda;

- I. genç nüfus oranının yükseleceği,
- II. ortanca yaş değerinin yükseleceği,
- III. yaşlı bağımlı nüfus oranının artacağı

özelliklerinden hangilerinin görülmesi beklenmektedir?

- A) Yalnız I B) Yalnız II C) Yalnız III
D) I ve II E) II ve III

10. Japonya ve İngiltere ekonomisinin, dünya ekonomisinde önemli bir yere sahip olmasında aşağıdakilerden hangisinin etkisi **daha fazladır**?

- A) Ada ülkesi olmalarından dolayı izole olmaları
B) Bölgelerinde endüstrileşmeyi başlatan ülke olmaları
C) Deniz ticaret filolarının gelişmiş olması
D) Her iki ülkenin de çok eski kültürlere sahip olması
E) Turizm gelirlerinin yüksek olması

11. Bir ülkenin 2010 yılına ait nüfus yapısıyla ilgili olarak aşağıda bazı bilgiler verilmiştir.

- Ülkenin toplam nüfusu 73.722.988 kişidir.
- Nüfusun % 51,9'unu erkek, % 48,1'ini kadınlar oluşturmaktadır.
- Nüfusun genç yaş bağımlılık oranı % 58,8'dir.
- Toplam nüfusun % 66,3'ü kırsal kesimde yaşamaktadır.
- Nüfusun artış hızı % 18,9'dur.

Buna göre yukarıdaki bilgilerden kaç bu ülkenin gelişmişlik düzeyinin belirlenmesinde ölçüt olarak kullanılabilir?

- A) 1 B) 2 C) 3 D) 4 E) 5

12. Dünya kömür rezervleri ile ülkelerin kömür kullanım oranları dikkate alındığında, aşağıdaki ülkelerin hangisinde bu enerji kaynağının kullanımına bağlı olarak görülen çevre sorunlarının **daha fazla** olması beklenir?

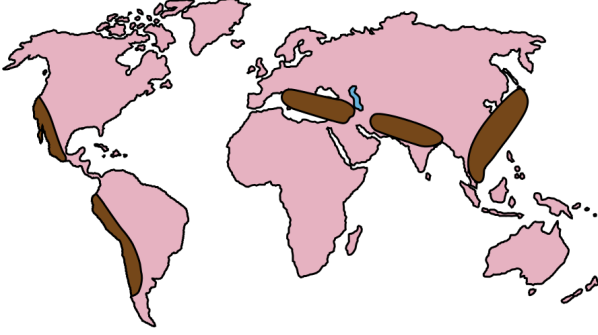
- A) Çin B) Mısır C) İran
D) Güney Afrika E) Hollanda





2017-LYS4/COĞ-2

13. Aşağıdaki haritada bazı alanlar koyu renkle gösterilmiştir.

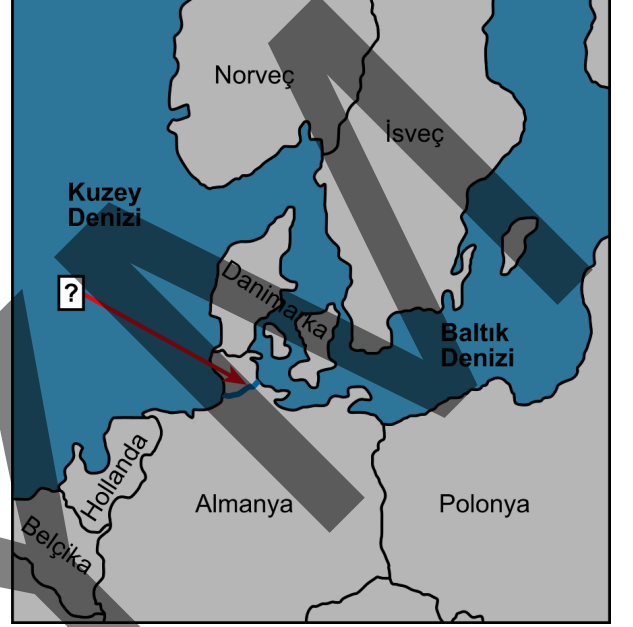


Bu alanların tamamında görülen doğal afet aşağıdakilerden hangisidir?

- A) Volkanik patlamalar B) Kuraklık
C) Tsunami D) Deprem
E) Kasırga

14. sorunun cevabını, cevap kâğıdınızdaki ilgili alana sola dayalı olarak yazıp kodlayınız.

14. Aşağıdaki haritada, Almanya'da yer alan ve Kuzey Denizi ile Baltık Denizi arasında ulaşımı sağlayan kanal soru işareti ile gösterilmiştir.



Soru işareti “?” ile gösterilen bu kanalın adı nedir?

ÖS



2017-LYS4

10-06-2017

COĞRAFYA-2 TESTİ

1. A
2. E
3. B
4. E
5. B
6. C
7. D
8. D
9. E
10. B
11. C
12. A
13. D
14. KIEL

ÖSYM



SINAVDA UYULACAK KURALLAR

1. Sınav salonunda saate entegre kamera ile kayıt yapılıyor ise; kamera kayıtlarının incelenmesinden sonra sınav kurallarına uymadığı tespit edilen adayların sınavları ÖSYM Yönetim Kurulunca geçersiz sayılacaktır.
2. **Cep telefonu ile sınava girmek kesinlikle yasaktır.** Her türlü elektronik/mekanik cihazla ve çağrı cihazı, telsiz, fotoğraf makinesi vb. araçlarla; cep bilgisayar, her türlü saat ile, kablosuz iletişim sağlayan bluetooth, kulaklık vb. her türlü bilgisayar özelliği bulunan cihazlarla; her türlü kesici ve delici alet, ateşli silah vb. teçhizatla; kalem, silgi, kalemтираş, müsvedde kâğıdı, defter, kitap, ders notu, sözlük, dergi, gazete vb. yayınlar, hesap makinesi, pergel, açıölçer, cetvel vb. araçlarla sınava girmek kesinlikle yasaktır. Sınava kolye, küpe, yüzük (alyans hariç), bilezik, broş, anahtar, anahtarlık, metal para gibi metal içerikli eşyalarla (basit başörtü iğnesi ve ince metal tokalı kemer hariç); plastik veya camdan yapılmış her türlü güneş gözlüğü ile (şeffaf/numaralı gözlük hariç), banka/kredi kartı, ulaşım kartı vb. kartlarla; yiyecek-içecek (şeffaf pet şişe içerisindeki su hariç) ve diğer tüketim maddeleri ile gelmeleri kesinlikle yasaktır. Bu tür eşya, araç-gereçlerle sınava girmiş adaylar mutlaka Salon Tutanağı'na yazılacak, bu adayların sınavı geçersiz sayılacaktır. **Ancak, ÖSYM Başkanlığı tarafından belirlenen Engelli ve Yedek Sınav Evrakı Yönetim Merkezi (YSYM) binalarında sınava girecek olan engelli adayların sınav giriş belgelerinde yazılı olan araç-gereçler, cihazlar vb. yukarıda belirtilen yasakların kapsamı dışında değerlendirilecektir.**
3. Bu test için verilen cevaplama süresi **20 dakikadır. LYS-4'te adaylar Tarih Testi'nin ve Coğrafya-2 Testi'nin cevaplama süresi içinde, Felsefe Grubu ile Din Kültürü ve Ahlak Bilgisi Testi'nin ilk 15 ve son 15 dakikası içinde sınav salonundan ayrılamazlar. İki test arasında birinci testin soru kitapçığının toplanması, ikinci ve üçüncü testin soru kitapçığının dağıtılması işlemleri dışında ara verilmez.** Toplama ve dağıtma işlemi sırasında adayların salondan dışarı çıkmaları kesinlikle yasaktır. **Bu süreler dışında, cevaplama süresi bitmeden tamamlarsanız cevap kâğıdınızı ve soru kitapçığınızı salon görevlilerine teslim ederek salonu terk edebilirsiniz. Bildirilen süreler aykırı davranışlardan adayın kendisi sorumludur.**
4. **Sınav salonundan ayrılan aday, her ne sebeple olursa olsun, tekrar sınav salonuna alınmayacaktır.**
5. Sınav süresince görevlilerle konuşmak, görevlilere soru sormak yasaktır. Aynı şekilde görevlilerin de adaylarla yakından ve alçak sesle konuşmaları ayrıca adayların birbirinden kalem, silgi vb. şeyleri istemeleri kesinlikle yasaktır.
6. Sınav sırasında, görevlilerin her türlü uyarısına uymak zorundasınız. Sınavınızın geçerli sayılması, her şeyden önce, sınav kurallarına uymanıza bağlıdır. Kurallara aykırı davranışta bulunanlar ve yapılacak uyarılara uymayanlar Salon Tutanağı'na yazılacak ve sınavları geçersiz sayılacaktır.
7. Sınav sırasında kopya çeken, çekmeye kalkışan, kopya veren, kopya çekilmesine yardım edenler Salon Tutanağı'na yazılacak ve bu adayların sınavları geçersiz sayılacaktır. Adayların test sorularına verdikleri cevapların dağılımları bilgi işlem yöntemleriyle incelenecek, bu incelemelerden elde edilen bulgular bireysel veya toplu olarak kopya çekildiğini gösterirse kopya eylemine katılan adayın/adayların sınavı geçersiz sayılacak ayrıca 2 yıl boyunca ÖSYM tarafından düzenlenen hiçbir sınava başvuru yapamayacak ve sınava giremeyecektir. Sınav görevlileri bir salondaki sınavın, kurallara uygun biçimde yapılmadığını, toplu kopya girişiminde bulunulduğunu raporlarında bildirdiği takdirde, ÖSYM bu salonda sınava giren tüm adayların sınavını geçersiz sayabilir.
8. Cevap kâğıdında doldurmanız gereken alanlar bulunmaktadır. Bu alanları doldurunuz. Cevap kâğıdınızı başkaları tarafından görülmeyecek şekilde tutmanız gerekmektedir. Cevap kâğıdına yazılacak her türlü yazıda ve yapılacak bütün işaretlemelerde kurşun kalem kullanılacaktır. Sınav süresi bittiğinde cevapların cevap kâğıdına işaretlenmiş olması gerekir. Soru kitapçığına işaretlenen cevaplar geçerli değildir.
9. Soru kitapçığınızı alır almaz kapağında bulunan ilgili alanları doldurunuz. Size söylendiği zaman sayfaların eksik olup olmadığını, kitapçıkta basım hatalarının bulunup bulunmadığını ve soru kitapçığının her sayfasında basılı bulunan soru kitapçık numarasının, kitapçığın ön kapağında basılı soru kitapçık numarasıyla aynı olup olmadığını kontrol ediniz. Soru kitapçığının sayfası eksik veya basımı hatalıysa değiştirilmesi için salon başkanına başvurunuz. Size bu sınavın her bir testi için ayrı ayrı kitapçıklar verilmektedir. Her kitapçığın Soru Kitapçık Numarası birbirinden farklıdır. Bu nedenle her test için aldığınız kitapçığın Soru Kitapçık Numarası'nı cevap kâğıdınızdaki ilgili alana kodlamanız çok önemlidir. Cevap kâğıdınızdaki "Soru kitapçık numarasını doğru kodladım." kutucuğunu işaretleyiniz. **LYS-4'te size verilen Coğrafya-2 Testi'nin Soru Kitapçık Numarası'nı cevap kâğıdınızdaki "Coğrafya-2 Soru Kitapçık Numarası" alanına kodlayınız.** **Soru kitapçığı üzerinde yer alan Soru Kitapçık Numarası'nı doğru kodladığınızı beyan eden alanı imzalayınız.**
10. Sınav sonunda soru kitapçıkları toplanacak ve ÖSYM'de incelenecektir. Soru kitapçığının sayfasını koparmayınız. Soru kitapçığının bir sayfası bile eksik çıkarsa sınavınız geçersiz sayılacaktır.
11. Cevap kâğıdına ve soru kitapçığına yazılması ve işaretlenmesi gereken bilgilerde bir eksiklik ve/veya yanlışlık olması hâlinde sınavınızın değerlendirilmesi mümkün değildir, bu husustaki özen yükümlülüğü ve sorumluluk size aittir.
12. Soru kitapçığının sayfalarındaki boş yerleri müsvedde için kullanabilirsiniz.
13. Soruları ve/veya bu sorulara verdiğiniz cevapları ayrı bir kâğıda yazıp bu kâğıdı dışarı çıkarmanız kesinlikle yasaktır.
14. **Sınav salonundan ayrılmadan önce, soru kitapçığınızı, cevap kâğıdınızı ve sınava giriş belgenizi salon görevlilerine eksiksiz olarak teslim ediniz. Bu konudaki sorumluluk size aittir.**
15. **Her testin cevaplarını cevap kâğıdındaki ilgili alana işaretlemeye dikkat ediniz.**
16. Sınav süresi salon görevlilerinin "SINAV BAŞLAMIŞTIR" ibaresiyle başlar, "SINAV BİTMİŞTİR" ibaresiyle sona erer.

Bu testlerin her hakkı saklıdır. Hangi amaçla olursa olsun, testlerin tamamının veya bir kısmının Merkezimizin yazılı izni olmadan kopya edilmesi, fotoğrafının çekilmesi, herhangi bir yolla çoğaltılması, yayımlanması ya da kullanılması yasaktır. Bu yasağa uymayanlar gerekli cezai sorumluluğu ve doğacak tüm mali külfeti peşinen kabullenmiş sayılır.

