



T.C. Ölçme, Seçme ve Yerleştirme Merkezi

**MİLLÎ SAVUNMA ÜNİVERSİTESİ
ASKERÎ ÖĞRENCİ ADAY BELİRLEME SINAVI
(2024-MSÜ)**

3 MART 2024

Bu testlerin her hakkı saklıdır. Hangi amaçla olursa olsun, testlerin tamamının veya bir kısmının Merkezimizin yazılı izni olmadan kopya edilmesi, fotoğrafının çekilmesi, herhangi bir yolla çoğaltılması, yayımlanması ya da kullanılması yasaktır. Bu yasağa uymayanlar gerekli cezai sorumluluğu ve testlerin hazırlanmasındaki mali külfeti peşinen kabullenmiş sayılır.

DİKKAT!

Din Kültürü ve Ahlak Bilgisi dersini yasal olarak almak zorunda olan adaylar ve İmam Hatip Okulları öğrencileri/mezunları, Sosyal Bilimler Testinin ilk 20 sorusunu cevaplamakla yükümlüdür. Bu adaylar 21-25. soruları cevaplamayacaklardır. Bu adaylar 21-25. sorularda işaretleme yapmış olsalar bile bu cevapları değerlendirmeye alınmayacaktır.

Din Kültürü ve Ahlak Bilgisi dersini yasal olarak almak zorunda olmayan veya farklı müfredat ile alan adaylar 16-20. soruların hiçbirini cevaplama dan 21-25. soruları cevaplayacaklardır. Bu adaylar 16-20. sorularda işaretleme yapmış olsalar bile bu cevapları değerlendirmeye alınmayacaktır.

AÇIKLAMA

1. Bu kitapçıkta toplam **125 soru** bulunmaktadır.
Türkçe Testi: 40 soru
Sosyal Bilimler Testi: 25 soru
Temel Matematik Testi: 40 soru
Fen Bilimleri Testi: 20 soru
2. Bu sınav için verilen cevaplama süresi **165 dakikadır (2 saat 45 dakika)**.
3. Bu sınav puanlanırken her testteki doğru cevaplarınızın sayısından yanlış cevaplarınızın sayısının dörtte biri çıkarılacak ve kalan sayı o bölümle ilgili ham puanınız olacaktır.
4. Kitapçığın sayfalarındaki boş yerleri müsvedde için kullanabilirsiniz.
5. Cevaplamaya istediğiniz sorudan başlayabilirsiniz. Bir soru ile ilgili cevabınızı, cevap kâğıdında o soru için ayrılmış olan yere işaretlemeyi unutmayınız.
6. Bu kitapçıkta yer alan her sorunun sadece bir doğru cevabı vardır. Cevap kâğıdında bir soru için birden çok cevap yeri işaretlenmişse o soru yanlış cevaplanmış sayılacaktır. İşaretlediğiniz bir cevabı değiştirmek istediğinizde silme işlemini çok iyi yapmanız gerektiğini unutmayınız.
7. Sınavda uyulacak kurallar bu kitapçığın arka kapağında belirtilmiştir.

1. Bu testte 40 soru vardır.

2. Cevaplarınızı, cevap kâğıdının Türkçe Testi için ayrılan kısmına işaretleyiniz.

1.

3.

2.

ÖSYM

Bu soruların telif hakları ÖSYM'ye aittir. Sorular ÖSYM'nin yazılı izni olmaksızın hiçbir kişi, kurum veya kuruluş tarafından kullanılamaz.

4. 1930-1940'lı yıllarda Balat, İstanbul'un kendi kendine yeten; hastanesi, eczaneleri, sinemaları, okulları, camileri, kiliseleri ve hemen her çeşit esnaf ve zanaatkârı bulunan minyatür bir metropoldü.

Bu cümlede Balat ile ilgili anlatılmak istenen aşağıdakilerden hangisidir?

- A) Semt sakinlerinin istek ve beklentilerine göre şekillenebilen, canlı bir mekân olması
- B) Farklı insan gruplarının türlü ihtiyaçlarına cevap veren, çok kültürlü bir yapıya sahip olması
- C) Büyük şehrin kültür atmosferini toplumun her tabakasına yayan bir yapı göstermesi
- D) Farklı meslek sahiplerini bir araya getiren renkli ve üretken bir ortam yaratması
- E) Toplumsal hiyerarşiyi ortadan kaldıran, modern ve bütünleştirici yapılar barındırması

DOĞRU CEVAP: B

5.

6.

ÖSYM

Bu soruların telif hakları ÖSYM'ye aittir. Sorular ÖSYM'nin yazılı izni olmaksızın hiçbir kişi, kurum veya kuruluş tarafından kullanılamaz.

8.

10.

9.

11.

ÖSYM

Bu soruların telif hakları ÖSYM'ye aittir. Sorular ÖSYM'nin yazılı izni olmaksızın hiçbir kişi, kurum veya kuruluş tarafından kullanılamaz.

12.

14.

13.

15.

ÖSYM

Bu soruların telif hakları ÖSYM'ye aittir. Sorular ÖSYM'nin yazılı izni olmaksızın hiçbir kişi, kurum veya kuruluş tarafından kullanılamaz.

16.

18.

17.

19.

ÖSYM

Bu soruların telif hakları ÖSYM'ye aittir. Sorular ÖSYM'nin yazılı izni olmaksızın hiçbir kişi, kurum veya kuruluş tarafından kullanılamaz.

20.

21.

22. 1950'lerde insanı taklit etme konusunda makineleri en çok mizah alanının zorlayacağı söyleniyordu. Neden olarak da komedinin mantıkla kolayca tanımlanamayan, insan kültürünün muğlak ve çelişkili yönlerinin bir örneği olması gösteriliyordu. Ancak günümüzde mizahi öğeler üreten yapay zekâ uygulamaları mevcut. Hatta ünlü bir komedyen gösteri içeriklerini hazırlarken yapay zekâ uygulaması kullandığını itiraf etti. Yapay zekâ uzmanlarından oluşan bir mizah grubu ise insanı yapay zekâ araçlarını kullanan bir robotla karşı karşıya getirerek mizah atışmaları sergiliyor. Tüm bunlar yapay zekânın kullanım alanının genişleyeceğini ve bugün yapay zekâ ile yapılamayacağı düşünülen işlerin yakın bir gelecekte gerçekleştirilebileceğini gösteriyor.

Bu parçadan yapay zekâ ile ilgili aşağıdakilerin hangisine ulaşılabılır?

- A) Ürettiği komedi programları ile evrensel bir mizah kültürü oluşturmaya çalışmaktadır.
- B) Gülmece öğelerini hızlı bir şekilde kurgulayarak mizahı mekanik hâle getirmektedir.
- C) Mizah öğeleri üreterek öngörülenin ötesinde bir kullanım alanı olabileceğini göstermektedir.
- D) Geliştirdiği içerikle insanlara entelektüel bir mizah anlayışı kazandırmayı amaçlamaktadır.
- E) Kullanım alanı, insan robot karşılaştırmasına dair sorgulamayı beraberinde getirmektedir.

DOĞRU CEVAP: C

ÖSYM

Bu soruların telif hakları ÖSYM'ye aittir. Sorular ÖSYM'nin yazılı izni olmaksızın hiçbir kişi, kurum veya kuruluş tarafından kullanılamaz.

23.

24.

ÖSYM

Bu soruların telif hakları ÖSYM'ye aittir. Sorular ÖSYM'nin yazılı izni olmaksızın hiçbir kişi, kurum veya kuruluş tarafından kullanılamaz.

25.

26.

ÖSYM

Bu soruların telif hakları ÖSYM'ye aittir. Sorular ÖSYM'nin yazılı izni olmaksızın hiçbir kişi, kurum veya kuruluş tarafından kullanılamaz.

27.

28. Bir iş yerinde aynı makineden iki tane vardır ve makineler aynı hatayı vererek bozulur. Makinelerin tamiri için birer kişi görevlendirilir. Birinci kişi önce makinenin planını inceler, kâğıt üzerinde denemeler yapar, bir hafta içinde makinenin bozulmasına neden olabilecek on durum belirler ve yedinci gün sorunu bulup makineyi tamir eder. İkinci kişi ise ilk günden makineyi açar, en iyi bildiği testleri yapar ama sorunu bulamaz. Makineyi eski hâline getirmek için yardım alır. Denemeler sonunda yedinci gün o da sorunu bularak makineyi tamir eder. Sonuç odaklı baktığımızda iki kişi de aynı işi aynı sürede bitirmiş görünüyor ancak kişilerin makineye verdikleri hasar, süreçte kullandıkları emek, kişi sayısı gibi durumlar dikkate alındığında eşit derecede başarılı oldukları söylenemez.

Bu parçada asıl anlatılmak istenen aşağıdakilerden hangisidir?

- A) Bir işi yapabileceğine inanmak, o işi başarmak için bir ön koşuldur.
- B) Bir problemde aynı sonuca ulaşmanın birden fazla çözüm yolu vardır.
- C) Bir sorunun çözümünde sonuç kadar sürecin işleyişi de önemlidir.
- D) Deneme yanılma yoluyla elde edilen sonuçlar, kişiye tecrübe kazandırır.
- E) Farklı kişilerin tecrübelerinden yararlanmak sorunların çözümünü kolaylaştırır.

DOĞRU CEVAP: C

ÖSYM

Bu soruların telif hakları ÖSYM'ye aittir. Sorular ÖSYM tarafından kullanılmaz. hiçbir kişi, kurum veya kuruluş tarafından kullanılmamaz.

29.

30.

ÖSYM

Bu soruların telif hakları ÖSYM'ye aittir. Sorular ÖSYM'nin yazılı izni olmaksızın hiçbir kişi, kurum veya kuruluş tarafından kullanılamaz.

31. Bir fotoğrafın sayfalarca yazıya bedel olduğu çokça söylenmiştir. Hatta kimileri, fotoğraf çekmek yerine yazıyla anlatmanın zaman kaybı olduğunu düşünür. Çok eskilerden bir öyküye yapılan atıf da bunun göstergesidir. Bu öyküde lalası şehzadeye uzun uzun aslanı tarif etmekte, lalanın tasviriyle de şehzade; aslanı tanıdığını sanmaktadır. Günün birinde saraya bir aslan gelir ve herkes avluya çıkıp onu seyretmeye başlar. Şehzade de aslana baktıktan sonra lalasına dönerek "Ama bu aslan değil ki!" der.

Bu parçada söz edilen öyküye atıf yapılarak anlatılmak istenen aşağıdakilerden hangisidir?

- A) Fotoğrafın aksine yazı ve söz, gerçekliği olduğundan farklı bir şekilde yansıtabilir.
- B) Bir nesneyi tüm hatlarıyla anlayabilmek için önce onun fotoğrafını görmek gerekir.
- C) Edebiyat yıllar boyu üstlendiği rolü, gelecekte fotoğrafçılık sanatına devredebilir.
- D) Yansız bir yaklaşımla değerlendirilen durum ve olaylar, bilgiyi somutlaştırmaya yarar.
- E) Fotoğrafın sanatsal bir üretim sayılması için görüntüye ruh kazandırması beklenir.

DOĞRU CEVAP: A

32.

33.

ÖSYM

Bu soruların telif hakları ÖSYM'ye aittir. Sorular ÖSYM'nin yazılı izni olmaksızın hiçbir kişi, kurum veya kuruluş tarafından kullanılamaz.

34.

ÖSYM

Bu soruların telif hakları ÖSYM'ye aittir. Sorular ÖSYM'nin yazılı izni olmaksızın hiçbir kişi, kurum veya kuruluş tarafından kullanılamaz.

35 - 36. soruları aşağıdaki parçaya göre cevaplayınız.

36.

35.

ÖSYM

Bu soruların telif hakları ÖSYM'ye aittir. Sorular ÖSYM'nin yazılı izni olmaksızın hiçbir kişi, kurum veya kuruluş tarafından kullanılamaz.

37 - 38. soruları aşağıdaki parçaya göre cevaplayınız.

39 - 40. soruları aşağıdaki parçaya göre cevaplayınız.

37.

39.

38.

40.

ÖSYM

Bu soruların telif hakları ÖSYM'ye aittir. Sorular ÖSYM'nin yazılı izni olmaksızın hiçbir kişi, kurum veya kuruluş tarafından kullanılamaz.

1. Bu testte sırasıyla, Tarih (1-5), Coğrafya (6-10), Felsefe (11-15), Din Kültürü ve Ahlak Bilgisi (16-20), Din Kültürü ve Ahlak Bilgisi dersini yasal olarak almak zorunda olmayan veya farklı müfredat ile alanlar için Felsefe (21-25) alanlarına ait toplam 25 soru vardır.

2. Cevaplarınızı, cevap kâğıdının Sosyal Bilimler Testi için ayrılan kısmına işaretleyiniz.

1.

3.

2.

4. "Arslanlarım! Bugün Türklere şan ve şeref, İngilizlere ise kara meydan olan şu kızgın toprağın güneşli semasında şehitlerimizin ruhları sevinç içinde uçarken ben de hepinizin pak alınlarından öpüyor ve hepinizi tebrik ediyorum. (...) İşte Türk sebatının İngiliz inadını kırdığı birinci olayı Çanakkale'de, ikinci olayı da burada görüyoruz."

Halil Paşa'nın askerlere yayımladığı genelgeden alınan bu ifadeler, Türk ordusunun Birinci Dünya Savaşı sırasında mücadele ettiği aşağıdaki cephelerin hangisindeki başarısıyla ilgilidir?

- A) Irak Cephesi B) Kafkas Cephesi
C) Makedonya Cephesi D) Kanal Cephesi
E) Galiçya Cephesi

DOĞRU CEVAP: A

5.

7.

6.

ÖSYM

Bu soruların telif hakları ÖSYM'ye aittir. Sorular ÖSYM'nin yazılı izni olmaksızın hiçbir kişi, kurum veya kuruluş tarafından kullanılamaz.

8.

10.

9.

11.

ÖSYM

Bu soruların telif hakları ÖSYM'ye aittir. Sorular ÖSYM'nin yazılı izni olmaksızın hiçbir kişi, kurum veya kuruluş tarafından kullanılamaz.

12. Bir şeyin doğruluğu ya da yanlışlığı, o şeyin amacını gerçekleştirip gerçekleştirmediğine göre belirlenir. Yani bir bilgi başarıya ve sonuca götürüyorsa doğrudur. Burada önemli olan, bilgilerin pratikte ne gibi değişikliklere yol açtığıdır. Farklı bilgiler ya da karşıt kuramlar kökensel olarak aynı değerdedir. Çünkü doğruluk iddiasının kendi başına bir önemi yoktur. Dolayısıyla doğruluk, bilginin pratikteki işlevini yerine getirmesiyle ölçülür.

Bu parça bilginin aşağıdaki doğruluk ölçütlerinden hangisine örnek oluşturur?

- A) Apaçıklık B) Tutarlılık
C) Tümel uzlaşım D) Uygunluk
E) Yarar

DOĞRU CEVAP: E

13.

14.

15.

ÖSYM
Bu soruların telif hakları ÖSYM'ye aittir. Sorular ÖSYM'nin yazılı izni olmaksızın hiçbir kişi, kurum veya kuruluş tarafından kullanılamaz.

16 - 20. soruları Din Kültürü ve Ahlak Bilgisi dersini yasal olarak almak zorunda olanlar ve İmam Hatip Okulları öğrencileri/mezunları cevaplayacaktır.

16. Namaz; başlama tekbiri, kıyam, rükû, secde, oturma ve selam verme hareketlerinden oluşur. Namaz kılan kişi, bu hareketler sırasında bazı ayet ve dualar okuyarak Allah'ın huzuruna çıkmış olur; Allah'a yaklaşır ve O'nu gönlünde hisseder. Dolayısıyla namazdaki hareketlerin, görünenin arkasında derin bazı anlamları bulunmaktadır. Örneğin kıyamda mümin Allah ile konuşmuş olur, rükû kulun kendisinden üstün olana saygı ve hürmetini ifade eder. Secde ise insanın, kendisini her şeye gücü yeten Rabb'inin iradesine teslim etmesi anlamına gelir. Bu nedenle Hz. Muhammed "Secde, kulun Rabb'ine en yakın olduğu andır." buyurmaktadır.

Bu parçaya göre namazda yapılan hareketlerle ilgili aşağıdakilerden hangisi söylenemez?

- A) Kulluk bilincini yansıttığı
- B) Sembolik anlam içerdiği
- C) Allah ile iletişime vesile olduğu
- D) Toplumsal ahlaka katkı sağladığı
- E) Kulun itaatinin bir göstergesi olduğu

DOĞRU CEVAP: D

17.

18.

19.

ÖSYM

Bu soruların telif hakları ÖSYM'ye aittir. Sorular ÖSYM'nin yazılı izni olmaksızın hiçbir kişi, kurum veya kuruluş tarafından kullanılamaz.

20.

21 - 25. soruları Din Kültürü ve Ahlak Bilgisi dersini yasal olarak almak zorunda olmayan veya farklı müfredat ile alanlar cevaplayacaktır.

21.

ÖSYM

22.
Bu soruların telif hakları ÖSYM'ye aittir. Sorular ÖSYM'nin yazılı izni olmaksızın hiçbir kişi, kurum veya kuruluş tarafından kullanılamaz.

23.

25.

24.

ÖSYM

Bu soruların telif hakları ÖSYM'ye aittir. Sorular ÖSYM'nin yazılı izni olmaksızın hiçbir kişi, kurum veya kuruluş tarafından kullanılamaz.

1. Bu testte 40 soru vardır.

2. Cevaplarınızı, cevap kâğıdının Temel Matematik Testi için ayrılan kısmına işaretleyiniz.

1.

3.

2.

4.

ÖSYM

Bu soruların telif hakları ÖSYM'ye aittir. Sorular ÖSYM'nin yazılı izni olmaksızın hiçbir kişi, kurum veya kuruluş tarafından kullanılamaz.

5.

7.

6.

ÖSYM

Bu soruların telif hakları ÖSYM'ye aittir. Sorular ÖSYM'nin yazılı izni olmaksızın hiçbir kişi, kurum veya kuruluş tarafından kullanılamaz.

8.

10. A ve B sıfırdan farklı rakamlar olmak üzere, iki basamaklı AA, AB ve BA doğal sayılarından

- biri 3, 4 ve 5 sayılarından sadece 3 ile,
- biri 3, 4 ve 5 sayılarından sadece 4 ile,
- biri de 3, 4 ve 5 sayılarından sadece 5 ile

tam bölünmektedir.

Buna göre, A + B toplamı kaçtır?

- A) 7 B) 8 C) 11 D) 12 E) 14

DOĞRU CEVAP: C

9.

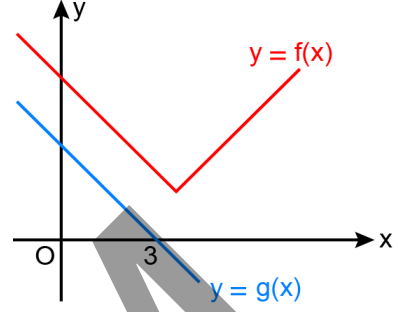
11.

ÖSYM

Bu soruların telif hakları ÖSYM'ye aittir. Sorular ÖSYM'nin yazılı izni olmaksızın hiçbir kişi, kurum veya kuruluş tarafından kullanılamaz.

12.

14. Dik koordinat düzleminde f ve g fonksiyonlarının grafikleri şekilde verilmiştir.



Bu fonksiyonlarla ilgili

- $(f \circ g)(3) = a$
- $(f + g)(3) = b$
- $(f \cdot g)(3) = c$

eşitlikleri veriliyor.

Buna göre; a , b ve c sayılarının küçükten büyüğe doğru sıralanışı aşağıdakilerden hangisidir?

- A) $a < b < c$ B) $b < a < c$ C) $b < c < a$
 D) $c < a < b$ E) $c < b < a$

DOĞRU CEVAP: E

13.

Bu soruların telif hakları ÖSYM'ye aittir. Sorular ÖSYM'nin yazılı izni olmaksızın hiçbir kişi, kurum veya kuruluş tarafından kullanılamaz.

15.

16.

ÖSYM

Bu soruların telif hakları ÖSYM'ye aittir. Sorular ÖSYM'nin yazılı izni olmaksızın hiçbir kişi, kurum veya kuruluş tarafından kullanılamaz.

17.

19.

18.

20.

ÖSYM

Bu soruların telif hakları ÖSYM'ye aittir. Sorular ÖSYM'nin yazılı izni olmaksızın hiçbir kişi, kurum veya kuruluş tarafından kullanılamaz.

21. Bir diyetisyene giderek ölçüm yaptıran Burak; vücudundaki yağ miktarının, kütlesinin %20'sine eşit olduğunu öğrenmiştir. Diyetisyenin verdiği beslenme programını uyguladıktan sonra Burak'ın kütlesi %10, vücudundaki yağ miktarı %19 azalmıştır.

Buna göre, bu beslenme programını uyguladıktan sonra Burak'ın vücudundaki yağ miktarı, kütlesinin yüzde kaçına eşit olmuştur?

A) 14 B) 15 C) 16 D) 17 E) 18

DOĞRU CEVAP: E

22.

23.

ÖSYM

Bu soruların telif hakları ÖSYM'ye aittir. Sorular ÖSYM'nin yazılı izni olmaksızın hiçbir kişi, kurum veya kuruluş tarafından kullanılamaz.

24.

26.

25.

ÖSYM

Bu soruların telif hakları ÖSYM'ye aittir. Sorular ÖSYM'nin yazılı izni olmaksızın hiçbir kişi, kurum veya kuruluş tarafından kullanılamaz.

27.

29.

28.

30.

ÖSYM

Bu soruların telif hakları ÖSYM'ye aittir. Sorular ÖSYM'nin yazılı izni olmaksızın hiçbir kişi, kurum veya kuruluş tarafından kullanılamaz.

31.

32.

ÖSYM

Bu soruların telif hakları ÖSYM'ye aittir. Sorular ÖSYM'nin yazılı izni olmaksızın hiçbir kişi, kurum veya kuruluş tarafından kullanılamaz.

33.

35.

34.

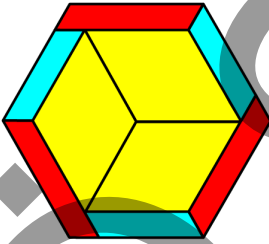
ÖSYM

Bu soruların telif hakları ÖSYM'ye aittir. Sorular ÖSYM'nin yazılı izni olmaksızın hiçbir kişi, kurum veya kuruluş tarafından kullanılamaz.

36.

38.

37. Üç adet özdeş mavi, üç adet özdeş kırmızı ve üç adet özdeş sarı renkli paralelkenar şeklindeki gibi birleştirilerek bir düzgün altıgen elde ediliyor.



Mavi ve kırmızı renkli birer paralelkenarın çevreleri sırasıyla 9 ve 11 birim olduğuna göre, sarı renkli bir paralelkenarın çevresi kaç birimdir?

- A) 14 B) 16 C) 18 D) 20 E) 22

DOĞRU CEVAP: A

Bu soruların telif hakları ÖSYM'ye aittir. Sorular ÖSYM'nin yazılı izni olmaksızın hiçbir kişi, kurum veya kuruluş tarafından kullanılamaz.

39.

40.

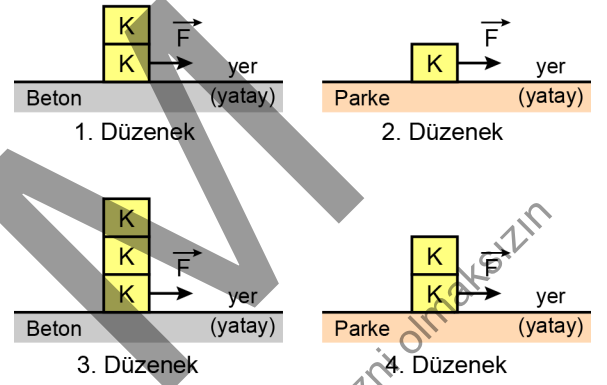
ÖSYM

Bu soruların telif hakları ÖSYM'ye aittir. Sorular ÖSYM'nin yazılı izni olmaksızın hiçbir kişi, kurum veya kuruluş tarafından kullanılamaz.

1. Bu testte sırasıyla, Fizik (1-7), Kimya (8-14), Biyoloji (15-20) alanlarına ait toplam 20 soru vardır.
2. Cevaplarınızı, cevap kâğıdının Fen Bilimleri Testi için ayrılan kısmına işaretleyiniz.

1.

2. Ahmet, sürtünme kuvvetini etkileyen faktörleri belirlemek amacıyla küp şeklindeki özdeş plastik K cisimlerini kullanarak aşağıdaki düzenekleri kuruyor.



Tüm düzeneklerde cisimlerin hareket ettiği ve ivmelerinin hesaplandığı bilindiğine göre Ahmet, kurduğu düzeneklerle

- I. uygulanan kuvvetin büyüklüğü,
- II. cismin ağırlığı,
- III. etkileşen yüzeylerin cinsi,
- IV. etkileşen yüzey alanının büyüklüğü

değişkenlerinden hangilerinin kinetik sürtünme kuvvetiyle ilişkisini araştırabilir?

- A) I ve II B) I ve III C) II ve III
D) I, II ve IV E) II, III ve IV

DOĞRU CEVAP: C

3.

4.

ÖSYM

Bu soruların telif hakları ÖSYM'ye aittir. Sorular ÖSYM'nin yazılı izni olmaksızın hiçbir kişi, kurum veya kuruluş tarafından kullanılamaz.

5.

6.

ÖSYM

Bu soruların telif hakları ÖSYM'ye aittir. Sorular ÖSYM'nin yazılı izni olmaksızın hiçbir kişi, kurum veya kuruluş tarafından kullanılamaz.

7.

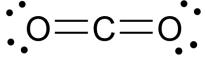
8.

9.

ÖSYM

Bu soruların telif hakları ÖSYM'ye aittir. Sorular ÖSYM'nin yazılı izni olmaksızın hiçbir kişi, kurum veya kuruluş tarafından kullanılamaz.

10. CO₂ molekülünün Lewis yapısı aşağıda verilmiştir.



CO₂ molekülüyle ilgili,

- I. C ve O atomları arasında polar kovalent bağ vardır.
- II. Polar bir moleküldür.
- III. Kimyasal bağlarda ortaklaşa kullanılan elektron sayısı 8'dir.

İfadelerinden hangileri doğrudur?

(₆C, ₈O)

- A) Yalnız II B) Yalnız III C) I ve II
D) I ve III E) I, II ve III

DOĞRU CEVAP: D

11.

12.

13.

14.

ÖSYM
Bu soruların telif hakları ÖSYM'ye aittir. Sorular ÖSYM'nin yazılı izni olmaksızın hiçbir kişi, kurum veya kuruluş tarafından kullanılamaz.

15.

17.

16.

18.

19.

ÖSYM

Bu soruların telif hakları ÖSYM'ye aittir. Sorular ÖSYM'nin yazılı izni olmaksızın hiçbir kişi, kurum veya kuruluş tarafından kullanılamaz.

20.

ÖSYM

Bu soruların telif hakları ÖSYM'ye aittir. Sorular ÖSYM'nin yazılı izni olmaksızın hiçbir kişi, kurum veya kuruluş tarafından kullanılamaz.

SINAVDA UYULACAK KURALLAR

1. Sınav salonunda saate entegre kamera ile kayıt yapılıyor ise kamera kayıtlarının incelenmesinden sonra sınav kurallarına uymadığı tespit edilen adayların sınavları, ÖSYM Yönetim Kurulunca geçersiz sayılacaktır.
2. **Cep telefonu ile sınava girmek kesinlikle yasaktır.** Adayların sınav binasına; her türlü delici ve kesici alet, ateşli silah, çanta, cüzdan, cep telefonu, her türlü saat, anahtarlık, her türlü araç anahtarı, kablosuz iletişim sağlayan bluetooth ve benzeri cihazlar ile; kulaklık, kolye, küpe, yüzük (**alyans hariç**), bilezik, broş ve diğer takılar, her türlü plastik, cam eşya (**şeffaf/numaralı gözlük hariç**), plastik ve metal içerikli eşyalar (**başörtü için kullanılan boncuklu/boncuksuz toplu iğne, para, anahtarlıksız basit anahtar, ulaşım kartı, basit tokalı kemer, basit tel toka ve basit piercing hariç**), banka/kredi kartı v.b. kartlarla, her türlü elektronik/mekanik cihaz ve her türlü müsvedde kâğıt, defter, kalem, silgi, kalemıraş, kitap, ders notu, sözlük, dergi, gazete ve benzeri yayınlar, cetvel, pergel, açıölçer ve bu gibi araçlarla, yiyecek içecek (**şeffaf pet şişe içerisinde bandajı çıkarılmış su hariç**), ilaç ve diğer tüketim maddeleri ile gelmeleri kesinlikle yasaktır. Bu tür eşya, araç-gereçlerle sınava girmiş adaylar mutlaka Salon Tutanağı'na yazılacak, bu adayların sınavı geçersiz sayılacaktır. **Ancak, ÖSYM Başkanlığı tarafından belirlenen Engelli ve Yedek Sınav Evrakı Yönetim Merkezi (YSYM) binalarında sınava girecek olan engelli adayların sınav giriş belgelerinde yazılı olan araç-gereçler, cihazlar vb. yukarıda belirtilen yasakların kapsamı dışında değerlendirilecektir.**
3. Bu sınav için verilen cevaplama süresi **165 dakikadır (2 saat 45 dakika)**. Sınav başladıktan sonra **ilk 120** ve **son 15** dakika içinde adayın sınavdan çıkmasına kesinlikle izin verilmeyecektir. **Bu süreler dışında, cevaplama sınav bitmeden tamamlarsanız cevap kâğıdınızı ve soru kitapçığınızı salon görevlilerine teslim ederek salonu terk edebilirsiniz. Bildirilen sürelerle aykırı davranışlardan adayın kendisi sorumludur.**
4. **Sınav salonundan ayrılan aday, her ne sebeple olursa olsun, tekrar sınav salonuna alınmayacaktır.**
5. Sınav süresince görevlilerle konuşmak, görevlilere soru sormak yasaktır. Aynı şekilde görevlilerin de adaylarla yakından ve alçak sesle konuşmaları ayrıca adayların birbirinden kalem, silgi vb. şeyleri istemeleri kesinlikle yasaktır.
6. Sınav sırasında, görevlilerin her türlü uyarısına uymak zorundasınız. Sınavınızın geçerli sayılması, her şeyden önce, sınav kurallarına uymaya bağlıdır. Kurallara aykırı davranışta bulunanlar ve yapılacak uyarılara uymayanlar Salon Tutanağı'na yazılacak ve sınavları geçersiz sayılacaktır.
7. Sınav sırasında kopya çeken, çekmeye kalkışan, kopya veren, kopya çekilmesine yardım edenler Salon Tutanağı'na yazılacak ve bu adayların sınavları geçersiz sayılacaktır. Adayların test sorularına verdikleri cevapların dağılımları bilgi işlem yöntemleriyle incelenecek, bu incelemelerden elde edilen bulgular bireysel veya toplu olarak kopya çekildiğini gösterirse kopya eylemine katılan adayın/adayların sınavı geçersiz sayılacak ayrıca bu aday/adaylar 2 yıl boyunca ÖSYM tarafından düzenlenen hiçbir sınava başvuru yapamayacak ve sınava giremeyecektir. Sınav görevlileri bir salondaki sınavın, kurallara uygun biçimde yapılmadığını, toplu kopya girişiminde bulunulduğunu raporlarında bildirdiği takdirde, ÖSYM bu salonda sınava giren tüm adayların sınavını geçersiz sayabilir.
8. Cevap kâğıdında doldurmanız gereken alanlar bulunmaktadır. Bu alanları doldurunuz. Cevap kâğıdınıza başkaları tarafından görülmeyecek şekilde tutmanız gerekmektedir. Cevap kâğıdına yazılacak her türlü yazıda ve yapılacak bütün işaretlemelerde kurşun kalem kullanılacaktır. Sınav süresi bittiğinde cevapların, cevap kâğıdına işaretlenmiş olması gerekir. Soru kitapçığına işaretlenen cevaplar geçerli değildir.
9. Soru kitapçığınızı alır almaz kitapçık kapağında bulunan alanları doldurunuz. Size söylendiği zaman sayfaların eksik olup olmadığını, kitapçıkta basım hatalarının bulunup bulunmadığını ve soru kitapçığının her sayfasında basılı bulunan soru kitapçık numarasının, kitapçığın ön kapağında basılı soru kitapçık numarasıyla aynı olup olmadığını kontrol ediniz. Soru kitapçığının sayfası eksik veya basım hatalıysa değiştirilmesi için salon başkanına başvurunuz. **Size verilen soru kitapçığının numarasını cevap kâğıdınızdaki "Soru Kitapçık Numarası" alanına yazınız ve kodlayınız. Cevap kâğıdınızdaki "Soru kitapçık numaramı doğru kodladım." kutucuğunu işaretleyiniz. Soru kitapçığı üzerinde yer alan Soru Kitapçık Numarasını doğru kodladığınızı beyan eden alanı imzalayınız.**
10. Sınav sonunda soru kitapçıkları toplanacak ve ÖSYM'de incelenecektir. Soru kitapçığının sayfalarını koparmayınız. Soru kitapçığının bir sayfası bile eksik çıkarsa sınavınız geçersiz sayılacaktır.
11. Cevap kâğıdına ve soru kitapçığına yazılması ve işaretlenmesi gereken bilgilerde bir eksiklik ve/veya yanlışlık olması hâlinde sınavınızın değerlendirilmesi mümkün değildir, bu husustaki özen yükümlülüğü ve sorumluluk size aittir.
12. Soruları ve/veya bu sorulara verdiğiniz cevapları ayrı bir kâğıda yazıp bu kâğıdı dışarı çıkarmanız kesinlikle yasaktır.
13. **Sınav salonundan ayrılmadan önce, soru kitapçığınızı, cevap kâğıdınızı ve sınava giriş belgenizi salon görevlilerine eksiksiz olarak teslim ediniz. Bu konudaki sorumluluk size aittir.**
14. Sınav süresi salon görevlilerinin "SINAV BAŞLAMIŞTIR" uyarısıyla başlar, "SINAV BİTMİŞTİR" uyarısıyla sona erer.

Bu testlerin her hakkı saklıdır. Hangi amaçla olursa olsun, testlerin tamamının veya bir kısmının Merkezimizin yazılı izni olmadan kopya edilmesi, fotoğrafının çekilmesi, herhangi bir yolla çoğaltılması, yayımlanması ya da kullanılması yasaktır. Bu yasağa uymayanlar gerekli cezai sorumluluğu ve doğacak tüm mali külfeti peşinen kabullenmiş sayılır.