

## SOSYAL BİLİMLER-2 TESTİ (Sos-2)

1. Bu testte sırasıyla,

Tarih (1-13)

Ülkeler Coğrafyası (14-20)

Sosyoloji (21-25)

Mantık (26-30)

ile ilgili 30 soru vardır.

2. Cevaplarınızı, cevap kâğıdının Sosyal Bilimler-2 Testi için ayrılan kısmına işaretleyiniz.

2006-ÖSS

1. Karluklar, Müslüman olmamalarına karşın, İslam ordusuyla birleşip 751 yılında Talas'ta Arapların yanında savaşa girmişler; Çin'in yenilgiye uğratılmasında önemli rol oynamışlardır.

**Karlıkların, Arapları Talas Savaşı'nda desteklemelerinde,**

- I. İslam Devleti'nde saltanat sisteminin devam etmesi,
- II. Çin'in Orta Asya'daki Türk egemenliğine son vermek istemesi,
- III. Türgiş Devleti'nin yıkılmış olması

**durumlarından hangileri etkili olmuştur?**

- A) Yalnız I      B) Yalnız II      C) Yalnız III  
D) I ve II      E) II ve III

2. XIII. yüzyıl sonlarında Anadolu'da Moğol baskısının azalması ve Selçuklu Devleti'nin otoritesinin zayıflaması aşağıdakilerden hangisine ortam hazırlamıştır?

- A) Haçlı seferlerinin başlamasına  
B) Oğuzların Anadolu'ya gelmesine  
C) Bizans İmparatorluğu'nda taht kavgaları çıkmasına  
D) Altın Ordu Devleti'nin parçalanmasına  
E) Uclara yerleştirilen Türkmen beylerinin beylikler kurmasına

3. Eşi Mümtaz Mahal'in anısına Hindistan'daki Tac Mahal'i yaptıran Şah Cihan, aşağıdaki Türk devletlerinden hangisinin hükümdarıdır?

- A) Babür      B) İhsidler      C) Memlük  
D) Karahanlı      E) Tulunoğulları

4. I. Harzemşahlar  
II. Hazarlar  
III. Selçuklular

**Yukarıdaki devletlerin hangilerinde ikta sistemi uygulanmıştır?**

- A) Yalnız I      B) Yalnız II      C) I ve II  
D) I ve III      E) II ve III

*Diğer sayfaya geçiniz.*

5. I. Göktürkler  
II. Hunlar  
III. Uygurlar

**Yukarıdaki ilk Türk devletlerinin hangilerinde şehirlerin kurulmasıyla, günümüze kadar gelen evler, tapınaklar, saraylar inşa edilmiştir?**

- A) Yalnız I      B) Yalnız II      C) Yalnız III  
D) I ve II      E) II ve III

6. **Aşağıdakilerden hangisi Anadolu'da kurulan ilk Türk beyliklerinin özelliklerinden biri değildir?**

- A) Büyük Selçuklular tarafından yıkılmaları  
B) Malazgirt Savaşı'nın kazanılmasından sonra kurulmaları  
C) Anadolu'nun bayındır hale getirilmesinde etkili olmaları  
D) Egemen oldukları bölgelerde İslamiyet'i yaymaya çalışmaları  
E) Kurdukları yerleşim yerlerine Türkçe isimler vermeleri ve Anadolu'yu Türkleştirmeye çalışmaları

7. **Osmanlı Devleti'nde aşağıdakilerden hangisi vezirin görevlerinden biridir?**

- A) Kadıları atama  
B) Saray görevlilerini yönetme  
C) Kapıkulu Ocaklarına asker toplama  
D) Gerektiğinde orduya komuta etme  
E) Divandaki görüşmelerin tutanağını yazma

8.

- I. İspanya'da Hıristiyanlık baskılarından kaçan Yahudilerin Osmanlı Devleti'ne sığınması,  
II. Mısır Valisi Kavalalı Mehmet Ali Paşa'nın ayaklanması,  
III. Halifenin Mısır'dan İstanbul'a getirilmesi

**gelişmelerinden hangileri, Osmanlı Devleti'nde dış sorun yaratmıştır?**

- A) Yalnız I      B) Yalnız II      C) I ve II  
D) I ve III      E) II ve III

9. 1877-78 Osmanlı Rus Savaşı'ndan sonra yapılan Berlin Antlaşması'yla Bosna - Hersek'i denetimi altına alan Avusturya, Osmanlı Devleti'nde Meşrutiyetin ilanının ilk günlerindeki iktidar boşluğundan yararlanarak bu toprakları kendine bağlamıştır.

**Avusturya'nın bu davranışının amacı aşağıdakilerden hangisinin engellenmesidir?**

- A) Süveyş Kanalı'nın açılmasının  
B) Rusya'nın Balkanlar'da yayılmasının  
C) Yunanistan'ın bağımsızlığını kazanmasının  
D) Macar mültecilerinin Osmanlı Devleti'ne sığınmasının  
E) Osmanlı Devleti'nin Trablusgarp'ı İtalya'ya bırakmasının

10. Aşağıdakilerden hangisi, Birinci Balkan Savaşı sırasında meydana gelen gelişmeler arasındadır?

- A) 31 Mart Olayı'nın çıkması
- B) Fransa'nın Tunus'u işgal etmesi
- C) Arnavutluk'un bağımsızlığını ilan etmesi
- D) Kıbrıs'ın İngiliz yönetimine bırakılması
- E) Osmanlı Devleti'nin İkinci Meşrutiyeti ilan etmesi

12. Tanzimat Fermanı'nın kendisinden önce yapılan islahat hareketlerinden çok daha önemli bir belge sayılmasında,

- I. Avrupa'nın üstünlüğünün kabul edilmesi,
- II. tebaa arasındaki ayrıcalıkların giderilmesi,
- III. yönetimde yeni esaslar getirilmesi

durumlarından hangilerinin etkili olduğu savunulabilir?

- A) Yalnız I
- B) Yalnız II
- C) Yalnız III
- D) I ve II
- E) II ve III

11. 1871 yılında birliğini sağlayan Almanya, Hindistan'a giden ticaret yollarını kesmek ve aynı zamanda Osmanlı padişahı olan halifenin manevi gücünü kullanarak bölgedeki Müslümanları ayaklandırmak istemiştir.

**Almanya, Osmanlı Devleti üzerinde nüfuz sahibi olmayı amaçlayan bu yaklaşımıyla aşağıdaki devletlerden hangisinin üstünlüğüne son vermek istemiştir?**

- A) İngiltere
- B) İtalya
- C) Hollanda
- D) İspanya
- E) Portekiz

13. 1798 yılında Rusya ve İngiltere aşağıdakilerden hangisine tepki göstererek Osmanlı Devleti'yle ittifak yapmış ve Osmanlılarla birlikte mücadele etmiştir?

- A) Sırp'ların ayaklanması
- B) Romanya'nın bağımsız olması
- C) Napolyon'un Mısır'ı işgal etmesi
- D) Navarin'de Osmanlı donanmasının yakılması
- E) Doğu Rumeli'nin Bulgaristan ile birleşmesi

14. Aşağıdakilerden hangisi, Akdeniz'e kıyısı olan ülkeler arasında yalnızca Türkiye ve Mısır'a ait bir özelliktir?

- A) Çeşitli iklim tiplerinin görülmesi
- B) Turizm potansiyelinin yüksek olması
- C) Kıyı balıkçılığının yapılması
- D) İki kıtada topraklarının olması
- E) Bitki örtüsünün çeşitlilik göstermesi

15. Aşağıdaki ülkelerden hangisinin ekonomisinde orman ürünleri ve petrol önemli yer tutar?

- A) Almanya
- B) Bulgaristan
- C) Romanya
- D) Danimarka
- E) Lüksemburg

16. Aşağıdaki ülkelerin hangisinde kömür rezervi diğerlerinden daha zengindir?

- A) Avusturya
- B) İsviçre
- C) Macaristan
- D) Almanya
- E) Fransa

17. Coğrafi konumları göz önüne alındığında, aşağıdaki ülkelerden hangisinin, ekonomisinde önemli payı olan endüstriyel tarım ürünleri bakımından Türkiye'yle en çok benzerlik göstermesi beklenir?

- A) İspanya
- B) Macaristan
- C) Ürdün
- D) İsveç
- E) Kazakistan

18. Aşağıdaki ülkelerin hangisinden yola çıkan bir geminin deniz yolunu kullanarak Atlas Okyanusu'na ulaşması için Akdeniz'den geçmesi gerekmez?

- A) Suriye
- B) Cezayir
- C) Bulgaristan
- D) Ukrayna
- E) Danimarka

19. Aşağıdaki ülkelerin hangisinde, kuzeyiyle güneyi arasında enlem farkına bağlı sıcaklık değişimi diğerlerinden daha fazladır?

- A) Şili
- B) Hollanda
- C) Finlandiya
- D) Arnavutluk
- E) Almanya

20. Deniz kıyılarında koy, körfez ve yarımada ne kadar çoksa, kıyıların gerçek uzunluğuyla kuşuçu uzunluğu arasındaki fark o kadar fazla olur.

Aşağıdaki ülkelerin kıyı şekilleri göz önüne alındığında, hangisinde bu farkın diğerlerinden daha fazla olması beklenir?

- A) Fransa
- B) Norveç
- C) Portekiz
- D) Mısır
- E) Belçika

21. Bir toplumda yasaların işleyebilmesi, hukukun ahlak, din, ekonomi, siyaset gibi diğer toplumsal kurumlara uyumuna bağlıdır. Bu nedenle, yasalar hazırlanırken tüm kurumlar göz önünde bulundurulur.

**Bu yaklaşımın dayanağı aşağıdakilerden hangisi olabilir?**

- A) Kurumlar birbirini etkiler.
- B) Kurumlar toplumsal değişimlerden etkilenir.
- C) Kurumlar toplumsal gereksinimlerden doğar.
- D) Kurumların yapısını amaçları belirler.
- E) Her kurumun kendine özgü örgütleniş biçimi vardır.

22. Bir sosyolog, sosyolojinin bulgularını kullanan bir toplumda bireylerin toplumsal olayları açıklarken akıl dışı düşüncelere ve duygulara kapılmayacağını öne sürmektedir.

**Sosyolojinin aşağıdaki özelliklerinden hangisi, sosyoloğun bu görüşünü destekler?**

- A) Ele alınabilecek olaylar arasında seçme yapması
- B) Olayların genel özellikleriyle ilgilenmesi
- C) Olgu ve olaylara nesnel bakmayı sağlaması
- D) Olayları gerçekleştiği koşullar içinde ele alması
- E) Olayları geçmişteki bağlarıyla incelemesi

23. Bir yazarımız İstanbul'daki evlerinde bir süre konuk ettiği Güney Afrikalı arkadaşından teşekkür mektubu alır. Arkadaşı yazarın ve ailesinin misafirperverliklerini, yemeklerinin lezzetini övdükten sonra, "Yalnız, oradayken sormadım; çatı katında niçin bizimkilere benzeyen büyü kapları vardı?" diye sorar. Yazar önce şaşırır. Sonra durumu kavrar. Damdaki kiremitlerde kırıklar olduğu için babaannesi yağmurun aktığı yerlere tencere, tas, leğen koymuştur.

**Yazarın arkadaşının çatıdaki kapları büyü kabı zannetmesi, kültürle ilgili olarak aşağıdakilerden hangisine örnektir?**

- A) Kuşaktan kuşağa aktarılmasına
- B) Bireyler arası ilişkilerde etkili olmasına
- C) Öğretici nitelik taşımasına
- D) Topluma özgü olmasına
- E) Ekonomik etkenlerle belirlenmesine

24. Ekonomik sorunlar nedeniyle işleri durgunlaşan bir işletme sahibi, kendi işinden arta kalan zamanda başka bir işyerinde ücretli olarak çalışmaya başlamıştır. Bu kişi, orada kendisi gibi ücretli çalışanlara zaman zaman işletme sahibi gibi davranmaktadır.

**Kişinin işletme sahibi gibi davranması, aşağıdakilerden hangisine örnek gösterilebilir?**

- A) Statülerin toplumca belirlenmesine
- B) Önceki rolün yeni rolü pekiştirmesine
- C) Kesin biçimde tanımlanan rollerin açık rol olmasına
- D) Kazanılmış statünün, verilmiş statüden farkına
- E) Statü değişiminin neden olduğu rol çatışmasına

25. 1950'li yıllarda ABD'de yaşayan bir Türk sosyolog, yine sosyolog olan ABD'li arkadaşıyla birlikte Türkiye'ye kendi köyüne geliyor. Sohbet sırasında ABD'li sosyolog, köylülere traktör gibi modern tarım araçlarına sahip olup olmadıklarını soruyor. Köylüler sahip olduklarını söylüyorlar. Arkadaşının olmadığı bir sırada Türk sosyolog köylülere, "Siz bunlara sahip değilsiniz ki, niçin böyle söylediniz?" diye sorduğunda, "Elin yabancısına mahcup olmayalım, diye!" yanıtını veriyorlar.

**Bu parçada anlatılanlar, sosyolojide araştırma yaparken aşağıdakilerden hangisinin gerekli olduğuna işaret etmektedir?**

- A) İncelenecek toplumun kültürünü tanımanın  
B) Fiziksel olaylarla sosyal olaylar arasındaki farkı kavramanın  
C) Köy ve kent topluluklarını ayrı ayrı ele almanın  
D) Araştırma konusunun sınırlarını belirlemenin  
E) Doğru olup olmadığı belirlenebilir bir hipotez oluşturmanın

26.  $p \wedge q, q \wedge r \therefore p \wedge q \wedge r$   
çıkarımı, aşağıdaki denetlemeye göre, geçerli olabilen bir çıkarımdır.

1.  $p \wedge q$  öncül  
2.  $q \wedge r$  öncül  
3.  $\sim(p \wedge q \wedge r) \sim$  sonuç

$$\begin{array}{l} p \\ q \end{array} \left. \vphantom{\begin{array}{l} p \\ q \end{array}} \right\} 1$$

$$\begin{array}{l} q \\ r \end{array} \left. \vphantom{\begin{array}{l} q \\ r \end{array}} \right\} 2$$

$$\begin{array}{c} \phantom{p} \\ \phantom{q} \\ \phantom{r} \end{array} \left. \vphantom{\begin{array}{c} \phantom{p} \\ \phantom{q} \\ \phantom{r} \end{array}} \right\} 3$$

$$\begin{array}{ccc} \sim p & \sim q & \sim r \\ X & X & X \end{array}$$

**Bu çıkarımın geçerli olmasının dayanağı aşağıdakilerden hangisidir?**

- A) Öncüllerin ve sonucun değilinin aynı anda **Doğru** değeri almaması  
B) Öncüller **Doğru** değeri aldığı anda sonucun **Yanlış** değeri alması  
C) Öncüllerin ve sonucun aynı anda **Yanlış** değeri alması  
D) Öncüllerin bazılarının ve sonucun aynı anda **Doğru** değeri alması  
E) Çözümleme sonucunda üç yol bulunması

27. Bileşik önermeler, içerisinde birden fazla yargıyı barındıran önermelerdir. Bu önermeler bileşikliği açıkça belli olanlar ve bileşikliği gizli olanlar diye ikiye ayrılır.

**Aşağıdaki bileşik önermelerden hangisi, bileşikliği açıkça belli olan bir önermedir?**

- A) Bu gömlek ötekenden daha pahalı.  
B) Ne Ali ne de Ahmet okula geldi.  
C) Bu müze geçen haftaya kadar kapalıydı.  
D) Sadece, o futbol takımının maskotu var.  
E) Bir kişi dışında tüm sınıf geziye katıldı.

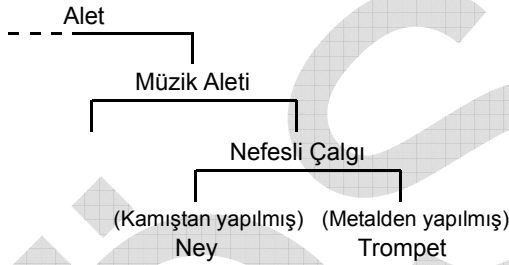
28.

	I	II	III	IV
p q	$p \wedge q$	$p \Rightarrow q$	$\sim p$	$\sim p \vee q$
D D	D	D	Y	D
D Y	Y	Y	Y	Y
Y D	Y	D	D	D
Y Y	Y	D	D	D

Yukarıdaki doğruluk çizelgesi tablosuna göre, I, II, III, IV numaralı önermelerden hangileri eşdeğerdir?

- A) I ve II                      B) I ve III                      C) II ve IV  
D) II ve III                      E) III ve IV

29.



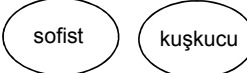

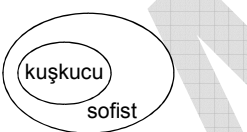
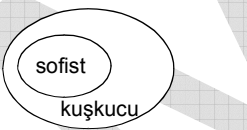

Özle ilgili tam tanım, bir şeyin yakın cinsi ve yakın ayırımıyla yapılan tanımdır.

Yukarıdaki şema ve açıklamaya göre, aşağıdakilerden hangisi özle ilgili tam tanıma örnektir?

- A) Trompet bir alettir.  
B) Ney müzik aletidir.  
C) Nefesli çalgılar birer alettir.  
D) Trompet metalden yapılmış bir alettir.  
E) Ney kamıştan yapılmış nefesli bir çalgıdır.

30. Bütün kuşkucular sofist değildir; ama bütün sofistler kuşkucudur.

Bu cümlenin Venn diyagramıyla ifadesi aşağıdakilerden hangisidir?

- A) 
- B) 
- C) 
- D) 
- E) 

SOSYAL BİLİMLER-2 TESTİ BİTTİ.