

# A

## GENEL YETENEK BÖLÜMÜ

EGM PoI. Ak. / 2008

1. Aşağıdaki cümlelerle ilgili araç içinde verilen bilgilerden hangisi yanlıştır?

- A) Bu ülkede bir kişi günde ortalama 400 gram ekmeği tüketmektedir. (Saptama yapılmıştır.)
- B) Bayat ekmeğin hayvan yemi olarak kullanılması bir kazanç gibi görünse de aslında ekonomik bir kayıptır. (Üretim söz konusudur.)
- C) Ekmeği, uzun süre küflenmeden saklayabilmek için derin dondurucuya koyabilirsiniz. (Önlemden söz edilmiştir.)
- D) Buzdolabında bekletilen ekmeğin, 60 derecenin üstünde ısıtılırsa tazelenmiş olur. (Çözüm önerilmiştir.)
- E) Ekmeği bayatlamayacak biçimde saklamanın yollarından biri buzdolabına koymaktır. (Yöntem belirtilmiştir.)

2. Aşağıdakilerin hangisindeki altı çizili sözcüğün cümledeki anlamıyla araç içinde verilen açıklaması birbiriyle uyuşmamaktadır?

- A) Her sanatın kendine göre incelikleri vardır. (İnce davranış gösterme, zarafet)
- B) Onun bu davranışını olağan karşıladılar. (Alışılmış olan, normal)
- C) Banka açılıncaya kadar parkta oyalanmış. (Vakit geçirmek)
- D) Büyüklerinin yanında soğuk şakalar yapıp durdu. (Sevimsiz ya da yersiz)
- E) Çalışırken tepemde dikilip durma, dedi. (Birin yan başı, baş ucu)

3. Uzun metrajlı sinema filmleri, en yeni kısa metrajlı

filmlerden örnekler, müzik dünyasının önemli isimleri,

bilinen veya keşfedilmeyi bekleyen yazarlar ve güzel

sanatların öteki dallarıyla uğraşan sanatçılar, günlük

etkinlik planına göre festivalde yer alacak.

**Bu cümledeki numaralanmış sözcüklerden hangisinin tek başına kullanıldığında bir anlamı yoktur?**

- A) I. B) II. C) III. D) IV. E) V.

4. Bu mis kokulu, nazlı çiçek, şimdilerde ulu Toroslar'ın

zirvesindeki karlı bir dağ köyünün başlıca geçim

kaynağı.

**Bu cümledeki numaralanmış sözlerden hangisi niteleme amacıyla kullanılmamıştır?**

- A) I. B) II. C) III. D) IV. E) V.

*Diğer sayfaya geçiniz.*

5. (I) Bu oyun, Cumhuriyetin ilanından önceki bir dönemi anlatmaktadır. (II) Bu yüzden kostümlerin de bire bir o dönemin giyim kuşam tarzını yansıtmaları gerektiğini düşündüm. (III) O dönemin atmosferine uygun renk ve biçimi yakalamaya çalıştım. (IV) Ancak askerî kostümlerdeki rütbe belirsizliği beni çok yordu. (V) Bu belirsizliği gidermek için pek çok kaynağa, belgeye başvurdum. (VI) Sonunda doğruya yakın bir çizgi yakaladığımı sanıyorum.

**Bu parçadaki numaralanmış cümlelerin hangisinde bir sorundan söz edilmektedir?**

- A) I. B) II. C) III. D) IV. E) V.

6. **Aşağıdaki cümlelerin hangisinde uyarı anlamı vardır?**

- A) Kivi, C ve E vitamini ile kalsiyum yönünden zengin bir besindir.  
 B) Kızartma ve kavurma gibi çok yağlı besinlerle fazla tuzlu yiyeceklerden kaçınılmalıdır.  
 C) Demir yönünden zengin olan üzüm suyu, kötü kolesterolü düşürmektedir.  
 D) Mevsim değişikliğinden etkilenmemek için bol bol meyve, sebze tüketilmesi öneriliyor.  
 E) Soğan çorbasının kalp sağlığı için yararlı olduğu bilinir.

7. **Aşağıdakilerin hangisinde birinci cümle, ikinci cümlenin yorumudur?**

- A) Büyük şehrin karmaşasından, gürültüsünden yorulmuştu, küçük bir kasabaya yerleşmek istiyordu.  
 B) O kasabayı görünce çocukluk günlerini anımsadı, kendini bir anda çocuk parkında buldu.  
 C) Kardeşim eline geçirdiği eski saatleri parçalarına ayırır, onların nasıl çalıştığını öğrenmeye çalışırdı.  
 D) Böyle davranmaya devam ederse çok şey kaybeder, öncelikle çevresindekilere saygılı olmayı öğrenmesi gerekiyor.  
 E) Elindeki paketleri yere bıraktı, karşıya geçmek isteyen yaşlı beye yardım etti.

8. (I) Lüle taşı sanatçısının eline aldığı her bir taşın, bambaşka bir işleniş öyküsü vardır. (II) Sanatçılar, lüle taşı üzerinde yaklaşık elli çeşit bıçak ve benzeri aleti kullanarak hünerlerini gösterirler. (III) Taşın doğal biçimini bozmamak için ona uygun modelleri seçerler. (IV) İşlenerek formunu alan lüle taşını kurutur, zımparalar, balmumuna batırır sonra da oarak parlatırlar. (V) Artık ışık ve gölgenin, üzerinde en cilveli oyunlarını oynadığı lüle taşı, benzersiz fil dişi görünümüyle kendine uygun bir ortamı süslemeye hazırdır.

**Bu parçadaki numaralanmış cümlelerin hangisinde neden-sonuç ilişkisi vardır?**

- A) I. B) II. C) III. D) IV. E) V.

9. (I) Petrolün sorumsuzca tüketilmesi ve orman alanlarının yok edilmesi, atmosferdeki karbon miktarının artmasına ve dünyanın ateşinin yükselmesine yol açıyor. (II) Son yüzyılda bir trilyon varil petrol tüketildi, ormanlar yüzde on beş azaldı. (III) Son iki yüzyıldaki en sıcak yıllar, son yirmi yılda yaşandı. (IV) Bilim insanlarına göre, 1970 yılından bu yana küresel ısınma nedeniyle eriyerek yok olan buzul alanı, Türkiye yüzölçümünün iki katına eşit. (V) Buzulların erimesi sonucunda yükselen deniz seviyesi şimdiden yaşam alanlarını tehdit etmeye başladı.

**Bu parçada anlatılanların asıl nedeni, numaralanmış cümlelerin hangisinde belirtilmiştir?**

- A) I. B) II. C) III. D) IV. E) V.

10. (I) Geçen ay gösterime giren bu film, insanı ve insan ilişkilerini ele alıyor. (II) Ben, insanı anlatan, duygu yüklü, heyecan veren, insanı yeni ve farklı dünyalarla karşılaştıran böylesi filmleri seviyorum. (III) Bu tür filmlerde iyi bir gözlem sonunda saptanan insanla ilgili gerçeklere ağırlık verilir. (IV) Ama bu gözlem, hiçbir zaman bir psikoloji dersi gibi bilimsel ve nesnel olmamalıdır. (V) Eğer böyle olursa o film bir sanat yapıtı değil bilimsel araştırma olur.

**Bu parçada numaralanmış cümlelerin hangisinde kişisel düşünceye yer verilmemiştir?**

- A) I. B) II. C) III. D) IV. E) V.

11. (I) Mitolojik öykülerde geçen bazı sebze ve meyvelere, ötekilere göre her zaman daha çok değer verilmiş. (II) Eskiden bahar aylarının başında, günümüzdeyse şubat ayında tezgâhları süsleyen enginar bunlardan biri. (III) Aslında bir diken olan enginar, olgunlaşma sürecini tamamlayınca devetabanı dikenini anımsatan bir bitkiye dönüşür. (IV) Bu yüzden uzmanlar, enginarın mı dikenden yoksa dikenin mi enginardan türediği konusunda tartışmışlardır. (V) Tartışmasız olursa enginarın bir Akdeniz bitkisi olduğudur.

**Bu parçada numaralanmış cümlelerle ilgili olarak aşağıda verilenlerden hangisi yanlıştır?**

- A) I. cümlede, üstünlükten söz edilmiştir.  
B) II. cümlede, örnek verilmiştir.  
C) III. cümlede, benzerlikten söz edilmiştir.  
D) IV. cümlede, sonuç belirtilmiştir.  
E) V. cümlede, kesinlik vardır.

12. (I) Türkiye’de, soğanlı bitkilerin içinde bulunduğu grupta 688 çeşit bitki var. (II) Bunlar, doğada kendiliğinden yetişen türler. (III) Dünyadaki, ters lale ve çiğdem gibi türlerinin çok büyük bir bölümü Türkiye’de yetişiyor. (IV) Yani bu bitkilerin gen merkezi Anadolu toprakları. (V) Çiçekli ve tohumlu oldukları ilkbahar ve sonbahar mevsimlerinde yağışlı, soğanları dinlenme durumundayken de yani yazın, kurak bir iklimi olan Anadolu, bu bitkiler için bulunmaz bir ortam.

**Bir bitki grubunun anlatıldığı bu parçada numaralanmış cümlelerle ilgili olarak aşağıda verilenlerden hangisi yanlıştır?**

- A) I. cümlede, yurdumuzda kaç türü bulunduğu belirtiliyor.  
B) II. cümlede, yetişmesine ilişkin bir bilgi veriliyor.  
C) III. cümlede, yeryüzündeki bazı türlerinin çoğunun yurdumuzda bulunduğu belirtiliyor.  
D) IV. cümlede, yurdumuzda tohumlarının nasıl elde edildiği dile getiriliyor.  
E) V. cümlede, yurdumuzdaki hava koşullarının bu bitkilerin yetişmesi için uygun olduğu belirtiliyor.

13. Kimi kentler tarihin gölgesinde kalmış (I) adını unutmuştur. Kimileri öyküler anlatır (II) kimileriye yalnızca dinler. Sözün kısası her kent (III) kişiliğini (IV) yüzlerce hatta binlerce (V) yıldan beri tarih denen eleği sallaya sallaya oluşturmuştur.

**Bu parçadaki numaralanmış yerlerin hangisine virgül (,) konması yanlış olur?**

- A) I. B) II. C) III. D) IV. E) V.

14. Kentin "Buğday Pazarı" denilen meydanında sıra sıra dükkânlar (I) Dükkânların önlerine sıralanmış çuvalarda buğday, bulgur, baharat (II) Değişik boydaki torbalarda ihlamur, papatya, çörekotu, pulbiber, adaçayı (III) İçindekilerin görünmesi için torbaların ağızları yarısına kadar kıvrılmış (IV) Bu ilgi çeken görüntüyü tamamlayan telaşlı bir kalabalık (V)

**Bu parçadaki numaralanmış yerlerin hangisine ötekilerden farklı bir noktalama işareti konmalıdır?**

- A) I. B) II. C) III. D) IV. E) V.

15. **Aşağıdaki cümlelerin hangisinde bir yazım yanlışı vardır?**

- A) Türk halk müziğini sever, çocuklarının da seve rek dinlemesini isterdi.  
B) Her yıl Haziran ayında tatile çıkıyorlar.  
C) Benim çocukluğumda, okullarda "yurttaşlık bilgisi" diye bir ders okutulurdu.  
D) "Canavar" sözcüğü dilimize Farsçadan girmiştir.  
E) Bu akşam siz de düğüne geliyor musunuz?

16. **Aşağıdaki cümlelerin hangisinde bir yazım yanlışı vardır?**

- A) Bu ilacın yan etkileri arasında karın ağrısı ve mide bulantısında sayılmakta.  
B) Bazı hastalıklarda ilaç tedavisiyle birlikte hastanın dinlenmesi de gerekir.  
C) Bileşimindeki maddelerden herhangi birine duyarlılığı olanlar bu ilacı kullanmasın.  
D) İlaçlar, kullanım şekli ve ne kadar kullanılacağı doktora danışılarak içilmelidir.  
E) Doktor tarafından önerilen ilaçlar, düzenli olarak kullanılmalı ki tedaviden sonuç alınabilsin.

17. Bu dönemde yaşayanlar, birbirinden süslü köşkler  
I  
yaptırmışlar, bahçelerinde nadide çiçekler yetiştir-  
II  
mişler. Tablolarda kalmış bir inceliği günümüze ta-  
III  
şıyan bu evler, o zamanın yaşam biçimiyle ilgili ge-  
IV  
rekli bilgiler, ipuçları veriyor.  
V

**Bu parçadaki numaralanmış sözlerden hangisi atılırsa cümlelerin anlamında bir daralma olmaz?**

- A) I. B) II. C) III. D) IV. E) V.

18. Aşağıdaki cümlelerin hangisinde bir anlatım bozukluğu vardır?

- A) Törene, yöneticiler, basın mensupları ve çok sayıda davetli katıldı.  
B) Ankara'da düzenlenen bu etkinlik, önümüzdeki hafta bitecek.  
C) Dizinin yeni oyuncusu, izleyici sayısını bir milyondan iki milyona artırdı.  
D) Yolculuğumuz, molaları saymazsak tam iki gün sürdü.  
E) Yüzyıllar önce ticaretin odak noktası olan bu kent, artık canlılığını yitirdi.

19. Aşağıdaki cümlelerin hangisinde bir anlatım bozukluğu vardır?

- A) Semt pazarı, özellikle yaz aylarında çevre köylerden gelenlerle bir panayıra dönüşüyor.  
B) Kentin iç mahallelerindeki dar sokaklar ve konaklar, buranın geçmişinin eskilere dayandığını gösteriyor.  
C) Dünya şampiyonu unvanını kazanan bu sporcu, piste her çıktığında yeni bir başarıya imza atıyor.  
D) Her yıl kış aylarında, kurumun personeli ve aileleri için özel eğlenceler düzenleniyor.  
E) Bu eski konak günümüzde lokanta olarak kullanılıyor.

20. Aşağıdaki cümlelerin hangisinde bir anlatım bozukluğu vardır?

- A) Tarihî yapılardaki bu süslemeler o dönemin sanat anlayışını ortaya koyuyordu.  
B) O gün, yağmur yağışının yer yer görüleceği gözlenmişti.  
C) Bu köyün ana geçim kaynakları tarım ve hayvancılıktı.  
D) Babamın görevi nedeniyle bulunduğumuz bu taşra kentinin tek sinemasında, her hafta bir film oynatılırdı.  
E) Yapılan araştırmalar sonucunda Dünya'dan 150 ışık yılı uzaklıktaki bir gezegenin atmosferinde su buharı bulunduğu ortaya çıktı.

21. Aşağıdaki cümlelerin hangisinde bir anlatım bozukluğu vardır?

- A) Sıcak havalarda hastalar, yaşlılar ve küçük çocuklar zorunlu olmadıkça dışarıya çıkmamalı.
- B) Artık herhangi bir yerde yangın çıktığında, bölgedeki araçlarımızı anında olay yerine yönlendirebiliyoruz.
- C) Eskiden yalnızca televizyonlarda izleyebildiğimiz dünya çapındaki yarışmalar artık, ülkemizde de düzenleniyor.
- D) Babam, zorluklar karşısında asla yılmamam gerektiğini söylerdi.
- E) Bu spor tesislerinin yapıp bitirilmesi iki yıl sürdü.

22. (I) Romalılar, şehirlerini, yaptıkları plana göre kurarlardı. (II) Planlamacılar tarafından gökyüzü incelenir, güneşin hareketi doğu-batı eksenini, yıldızların hareketi de bu eksene dik açı yapan kuzey-güney eksenini olarak okunur ve yeryüzüne yansıtılırdı. (III) Doğubatı ekseniniyle kuzey-güney ekseninin kesişme noktası, kentin merkezi olarak kabul edilirdi. (IV) Kentin ana eksenleri ve bunların kesişme noktasındaki merkez saptandıktan sonra kentin sınırlarının belirlenmesi kolaydı. (V) İstanbul'da "Vise" adını alan doğubatı eksenini, Ayasofya'nın önündeki Augusteion meydanından başlayıp batıya doğru uzanır. (VI) Kuzey-güney eksenini "Karda" ise bir liman kenti olan İstanbul'un kuzeyde Haliç, güneyde Marmara Denizi'yle bağlantısını sağlar.

Bu parça iki paragrafa ayrılmak istense ikinci paragraf hangi cümleyle başlar?

- A) II.
- B) III.
- C) IV.
- D) V.
- E) VI.

23. (I) Yıllardır ilaç yapımında yararlanılan bitkilerden biri olan meyan kökü, soğuk algınlığı, astım ve açık yaraların tedavisinde kullanılıyor. (II) Ayrıca bu bitki boğaz ağrısını gidermek için hazırlanan bir karışıma katılıyor ve bu karışım reçetesiz satılabilecek ilaçlar arasında yer alıyor. (III) Günümüzde tüm dünyada uzmanlar alternatif tıbbi enine boyuna tartışıyorlar. (IV) Bir araştırma ekibi, bitkinin içinde bulunan bileşiğin, bir kanser türüne neden olan virüsün harap ettiği hücreleri öldürdüğünü keşfetti. (V) Ayrıca SARS virüsünün ilerlemesini engellediği ve kronik hepatit ile AIDS tedavisi denemelerinde başarılı sonuç verdiği görüldü.

Bu parçadaki numaralanmış cümlelerin hangisi düşüncenin akışını bozmaktadır?

- A) I.
- B) II.
- C) III.
- D) IV.
- E) V.

24. Ilık, dingin bir güz günü. Pencerenin iki kanadı ardına kadar açık. Pencere kenarındaki sandalyeye oturmuş, dirseklerim masaya, ellerim çeneme dayalı ufka bakıyorum. Gökyüzünü, bulutları, karşı kıyıyı, denizde bir görünüp bir kaybolan küçük tekneleri izliyorum. Gördüğüm manzara, yaşamın değişik boyutlarını düşündürüyor bana.

Bu parçanın anlatımıyla ilgili olarak aşağıdakilerden hangisi söylenemez?

- A) Betimlemelerden yararlanıldığı
- B) Karşılaştırma yapıldığı
- C) Konuşma havası taşıdığı
- D) Kişisel düşünce belirtildiği
- E) Görsel öğelere yer verildiği

25. Okuduğum kitaplar içinde sevmediklerim oldu elbette. Hatta bunların sayısı sevdiğilerimden fazla olabilir. ----. Onların edebiyat dünyasındaki yerlerini, bir bütün içindeki paylarını hep önemsedim. Çünkü severek okumadığım kitaplar sayesinde nitelikli kitapların bana neler kazandırdığını daha iyi anladım.

**Bu parçada boş bırakılan yere düşüncenin akışı-na göre aşağıdakilerden hangisi getirilmelidir?**

- A) Ama hiçbirinin arkasındaki emeği küçümsemedim
- B) Yazarlar da okurlar gibi kendilerini geliştirebilir
- C) Bu durum edebiyattaki yozlaşmanın bir göstergesidir
- D) Çünkü bir yapıttan herkes aynı tadı alamaz
- E) Hem kitap okunmuyor diye yakınıyoruz hem de yazılanları beğenmiyoruz

26. Uzmanlar, balık ve balık ürünlerinin sağlığı olumlu yönde etkilediği düşüncesinde birleşiyorlar. Ancak denizlerden elde edilen balıklar, artan nüfusun ihtiyacını karşılamaya yetmiyor. Bu yüzden de son yirmi yıldır, tüm dünyada olduğu gibi Türkiye'de de halkın balık ihtiyacını karşılamak üzere alternatif üretim yolları aranıyor. Deniz ve göller açısından zengin olan Türkiye'nin, bu olanağı iyi değerlendirdiğini ve balıkçılık sektöründe dünya çapında önemli bir düzeye geldiğini söyleyebiliriz. Özellikle çipura ve levrek başta olmak üzere Akdeniz'e özgü lezzetli balıkların çiftliklerde yetiştirilmesinde başarı gösteren Türk balıkçılık sektörü mercan, karagöz, mırmır gibi yeni türler üzerinde de çalışmalarını sürdürüyor. Bunlara, tüketimi çok yaygın olan alabalığı da eklediğinizde sektörün büyüklüğü ve önemi ortaya çıkıyor.

**Bu parçaya göre aşağıdakilerden hangisi Türkiye'de balıkçılık sektörünün hızla gelişmesini sağlamaktadır?**

- A) Halkın, balık yetiştirmeye özendirilmesi
- B) Dünyadaki gelişmelerin yakından izlenmesi
- C) Su kaynaklarının balık yetiştiriciliği açısından elverişli olması
- D) Kimi balık türlerinin daha çok satılması
- E) Denizlerdeki balık oranının giderek artması

27. Aslında edebiyatta konular üçü beşi geçmez. Ayrılıktır, ölümdür, doğumdur, aşktır, intikamdır, dostluktur... Bu nedenle önemli olan yeni konular bulmak değil, bunları kendi bakış açınızla yeniden değerlendirerek biçimlendirmenizdir. Kendi ışığınızla aydınlatıp okuyucunun sizin dünyanıza girmesini sağlamanızdır.

**Bu parçada vurgulanmak istenen aşağıdakilerden hangisidir?**

- A) Yazınsal yaratılarda önemli olan konu değil, konunun işleniş biçimidir.
- B) Yazarların konu alanı kendi yaşamlarıyla sınırlıdır.
- C) Yapıtları değerli kılan, yazarın deneyimleridir.
- D) Yazar, okurlarına kendisini beğendirebilmelidir.
- E) Her yazar sürekli arayış içinde olmalıdır.

28. Günlük tutmak, tarih yazmanın en kolay ve en güvenilir yoludur. Örneğin Bizanslı tarih yazarı Prokopius, gerçekleri anlattığı günlükleriyle tarihçilere Bizans'ı çok yakından tanıma olanağı sağlamıştır. Günlük yazan herkes tarihi yanıltmaya kalktığında kendisiyle ve tarihle çelişeceğinin farkında olduğundan gerçeklerden ayrılmaz. Bu da günlük yazarının, yazma zamanı ve koşulları birbirinden farklı olsa da yazdıklarının hepsinin aynı doğruda birleşmesini sağlar.

**Günlüklerle ilgili bu parçadan, aşağıdaki yargılardan hangisine ulaşılabılır?**

- A) Gelecekte yaşanması beklenen olaylarla ilgili düşüncelere günlüklerde yer verilebilir.
- B) Tarih yazarları her zaman günlük tutmuştur.
- C) Günlüklerinin yayımlanmasını isteyen kişiler toplumsal eleştiriye açık insanlardır.
- D) Günlük yazarları, yaşadıkları olaylarla gerçek dışı öğeleri içi içe vererek özgün yapıtlar ortaya koymaya çalışırlar.
- E) Günlükler, geçmişle ilgili doğrulara ulaşmayı sağlayan güvenilir kaynaklardır.

29. Selülit, derinin alt tabakasında, yağ dokusunun hemen çevresinde oluşan bir hastalıktır. Çoğunlukla baldır, karın ve kalça bölgelerinde görülür. Deriye portakal kabuğu görüntüsü verir. Bir kişide selülit olup olmadığını anlamak için bacağın üst kısmındaki deriyi parmağınızla sıkınız. Deride pütür pütür bir görünüm oluşursa o kişide selülit var demektir. Selülitin engellenen en iyi yolu kalorisi az olan besinler yemek ve egzersiz yapmaktır.

**Bu parçada selülit ile ilgili olarak aşağıdakilerden hangisine değinilmiştir?**

- A) Neden olan etkenlere
- B) Ne gibi zararlarının olduğuna
- C) Tedavisinin uzun sürdüğüne
- D) Oluşumunun nasıl önlenebileceğine
- E) Hemen hemen herkeste görüldüğüne

30. Bilinen bini aşkın türü olan ve birçok alanda kullanılan bambu, tekstilde de kullanılmaya başlandı. Boyu, iki ayda 23 metreye ulaşabilen bir bambu türü, dokumacılıkta kullanılıyor. Bambu saplarıyla, oldukça emici, ipeksi ve antibakteriyel özellikler taşıyan bir kumaş dokunuyor. Bu kumaşlarla yapılan giysi ve çamaşırlar özel mağazalarda satışa sunuluyor. Tüketicilerin bu ürünleri tercih etmelerinin nedeni, bambunun kimyasal katkı maddeleri eklenmeksizin yetiştirilebilen bir bitki olması.

**Bu parçaya göre, bambudan dokunmuş kumaşlarla ilgili olarak aşağıdakilerden hangisi söylenebilir?**

- A) Öteki kumaşlara göre daha dayanıklı olduğu
- B) Sağlığa zarar vermediği için beğenildiği
- C) Her tür giysi yapımına uygun olduğu
- D) Yeterince tanıtılmadığı için alıcısının az olduğu
- E) Bakım ve temizliğine özen göstermek gerektiği

31. Halep'teki Kapalıçarşı, Orta Doğu'nun en uzun çarşısı. İçinde bir Türk hamamı ve Mimar Sinan'ın bir eserinin de bulunduğu çarşıda, Halep'ten alınması gereken her şeyi bulmanız mümkün. İşlemeler, örtüler, ipelikler, şallar, dokumalar, bakır eşyalar, elbiseler, tepesiler, baharatlar... Çarşı çok kalabalık. Ayrıca her an bir eşekle, bir bisikletle ya da meyve arabasıyla çarpışmanız mümkün. Arapça, Türkçe, Fransızca ya da hepsinin bir arada kullanıldığı karmakarışık bir dille yapılan pazarlıklar, kimse kimseyi anlamakta güçlük çekmeden sürüp gidiyor.

**Bu parçada Halep'teki Kapalıçarşı'yla ilgili olarak aşağıdakilerden hangisine değinilmiştir?**

- A) Geçmişteki önemini günümüzde yitirdiğine
- B) Yıpranan bölümlerinin aslına uygun biçimde onarıldığına
- C) Farklı dilleri konuşan insanların birbiriyle anlaşabildiğine
- D) Kalabalık ve bakımsızlığın gelenleri rahatsız ettiğine
- E) Artan ihtiyaca bağlı olarak yeni bölümler yapıldığına

32. Fransızca, İtalyanca, İspanyolca gibi Latince'den türeyen dillere İngilizcede "romance languages", Fransızca'da da "langues romanes" denirdi. Onun için, bu dillerde şiiir ya da düz yazı biçiminde yazılan öykülere "romans" ya da "roman" adı veriliirdi. Zamanla, gerçeklere bağlı kalan uzun öykülere "roman", gerçeklere uymayan, heyecan verici ve romantik öykülere de "romans" denmeye başlandı.

**Bu parçada söylenenler aşağıdaki sorulardan hangisine cevap olarak söylenmiş olabilir?**

- A) "Roman" sözcüğü hangi gelişim aşamalarından sonra bugünkü anlamıyla kullanılmaktadır?
- B) "Roman" mı "romans" mı daha çok okunmaktadır?
- C) İngilizceyle öteki Avrupa dilleri arasında nasıl bir ilişki vardır?
- D) Bir dildeki gelişmeler öteki dilleri ne ölçüde etkiler?
- E) Şiiir ve düz yazının aynı sözcükle adlandırılması sizce doğru mu?



33. İlk öykülerindeki etkileyicilik, onun tümüyle öyküde kalıp bu türde yoğunlaşacağını düşündürüyordu. Ama o, ilk romanının acemiliğini örten bu ikinci romanıyla gerçek yönünü belirlemişti.

**Bu cümlelerde belirtilenlere göre, yazarla ilgili olarak aşağıdakilerden hangisi söylenemez?**

- A) Öykülerinin beğenildiği
- B) Farklı türlerde yazdığı
- C) Yazılarında bir gelişmenin gözlemlendiği
- D) Kendisinden beklenenin dışında bir yol çizdiği
- E) Alışılmadık konuları seçtiği

34. Kelebekler bozulmamış doğanın, temiz çevrenin göstergelerinden biridir. Son yıllarda sadece Türkiye’de değil, dünyanın her yerinde kelebekler, soylarının tükenmesi tehlikesiyle karşı karşıya. Öteki canlılara oranla çok daha narin yapıları oldukları için doğal denge bozulmasından en fazla onlar etkileniyor. Doğal yaşam alanlarının daralması, sayılarının azalmasına neden oluyor. Sadece bozulan çevre koşulları değil, bazı nadir ve gösterişli kelebek türlerinin ticari amaçlarla koleksiyonerlere satılmak için toplanması, bilimsel çalışmalar için yurt dışına çıkarılması da özellikle “Apollo”, “Van Denizi Güzeli” gibi türlerin yok olmasına yol açmakta.

**Bu parçada, kelebeklerle ilgili olarak aşağıdakilerin hangisine değnilmemiştir?**

- A) Hangi türlerinin daha çok tehlike altında olduğuna
- B) Korumak için neler yapıldığına
- C) Hangi amaçlarla toplandığına
- D) Çevre koşullarının yaşamlarını etkilediğine
- E) Hangi yönleriyle öteki canlılardan ayrıldıklarına

35. Ben Harput’ta doğdum. Yıkıntılar arasında büyüdüm. Evlerini, işlerini bırakıp gidenleri gördüm. Gidenler, “Bakımsızlık yüzünden kendi ellerimizle yıktık koca şehri.” der, içlenirlerdi. Ben de kentimizin yakın geçmişini yazmayı aklıma koydum. Otuz yıl sordum soruşturdum, not tuttum. Ev ev, sokak sokak, semt semt yeniden kurdum, yücelttim kenti aklımda. Kentin insanlarını sevdim. Aşklar, ayrılıklar, savaşlar, akıllmaz dostluklar, inanılmaz ihanetler buldum kentin yakın geçmişinde.

**Bu parçaya göre, söz konusu kente ilişkin bilgiler veren yazarla ilgili olarak aşağıdakilerden hangisi söylenemez?**

- A) Kente güçlü bir sevgiyle bağlıdır.
- B) Başkalarının öz eleştirilerini dile getirmiştir.
- C) Kentle ilgili olduğunu düşündüğü birçok konuyu araştırmıştır.
- D) Görüşlerinden yararlandığı kişilerle, belgelerin kaynağını açıklamaktan kaçınmaktadır.
- E) Düş gücünü kullanarak yakın geçmişini canlandırmaktadır.

36. Köşe yazarlığı, yeni bir yazın dalı olarak gelişme göstermektedir. Gerçekten gelişme gösteriyor mu? Yoksa her gün bir şeyler yazmak zorunda kalmaları, bu yazın dalını yozlaştırıyor mu? Öyle çok köşe yazarı türedi ki bunların çoğu bırakın dili iyi kullanmayı, bir konuyu eli yüzü düzgün anlatmayı, aynı konuyu defalarca işleyip okurları bezdirmeye başladı.

**Bu parçaya göre, köşe yazarlarıyla ilgili olarak aşağıdakilerden hangisi söylenemez?**

- A) Anlattıklarıyla okurlara yol gösterdikleri
- B) Her gün yazdıkları için niteliğin düşmesine neden oldukları
- C) Sayıca çok oldukları
- D) Aynı konuları yineleyerek okurlarda bıkkınlık yarattıkları
- E) Dilin kullanımına özen göstermedikleri

# A

EGM Pol. Ak. / 2008

37.

$$\frac{\frac{1}{3} - \frac{1}{12}}{1 + \frac{1}{4}}$$

işleminin sonucu kaçtır?

- A)  $\frac{1}{4}$       B)  $\frac{3}{4}$       C)  $\frac{1}{5}$   
D)  $\frac{2}{5}$       E)  $\frac{1}{6}$

38.

$$360^2 + 2 \cdot 360 \cdot 40 + 40^2$$

işleminin sonucu aşağıdakilerden hangisidir?

- A) 120 000      B) 140 000  
C) 160 000      D) 270 000  
E) 360 000

39.

$$\sqrt{112} - \sqrt{63}$$

işleminin sonucu kaçtır?

- A)  $2\sqrt{3}$       B)  $\sqrt{3}$       C)  $3\sqrt{7}$   
D)  $2\sqrt{7}$       E)  $\sqrt{7}$

40.

$$7x + 3 = 4x - 24$$

olduğuna göre, x kaçtır?

- A) -9      B) -7      C) -4      D) 3      E) 6

41.

$$\frac{5}{x-1}$$

ifadesinin değeri bir tam sayı olduğuna göre, x kaç farklı tam sayı değeri alabilir?

- A) 1      B) 2      C) 3      D) 4      E) 5

42. a ve b pozitif tam sayılar olmak üzere,

$$(3-a)(b-5) = 13$$

olduğuna göre, a + b toplamı kaçtır?

- A) 14      B) 16      C) 18      D) 20      E) 24

*Diğer sayfaya geçiniz.*

# A

EGM Pol. Ak. / 2008

43. Bir sayının  $\frac{1}{3}$  ünün 1 fazlası, bu sayının  $\frac{3}{5}$  inin 9 fazlasının yarısına eşittir.

**Bu sayı kaçtır?**

- A) 135 B) 125 C) 115 D) 110 E) 105

44.

$$3^x + 3^{x+1} + 3^{x+2} = 351$$

**olduğuna göre, x kaçtır?**

- A) 0 B) 1 C) 2 D) 3 E) 4

45. A ve B birer rakam olmak üzere,

$$A = B + 3$$

**koşulunu sağlayan kaç tane iki basamaklı AB sayısı yazılabilir?**

- A) 3 B) 4 C) 5 D) 6 E) 7

46.

$$\frac{a}{b} = \frac{2}{7}$$

$$\frac{b}{c} = \frac{3}{4}$$

**olduğuna göre,  $\frac{a}{c}$  oranı kaçtır?**

- A)  $\frac{3}{14}$  B)  $\frac{5}{14}$  C)  $\frac{3}{7}$   
D)  $\frac{1}{7}$  E)  $\frac{1}{3}$

47. Rakamları birbirinden farklı üç basamaklı ABC, BAC, CBA sayıları için

$$ABC + BCA + CAB = 2553$$

**olduğuna göre, A nın en küçük değeri kaçtır?**

- A) 4 B) 5 C) 6 D) 7 E) 8

*Diğer sayfaya geçiniz.*

# A

EGM Pol. Ak. / 2008

48. a ve b birer pozitif tam sayı olmak üzere,

$$3a + 5b = 75$$

olduğuna göre, aşağıdakilerden hangisi a + b toplamlarından biri olamaz?

- A) 14    B) 17    C) 19    D) 21    E) 23

49. Dört basamaklı 3A4B sayısı 15 ile kalansız olarak bölünebildiğine göre, A + B toplamının en büyük değeri kaçtır?

- A) 15    B) 14    C) 13    D) 12    E) 11

50. 1 den n ye kadar olan ardışık n tane doğal sayının toplamı  $\frac{n \cdot (n+1)}{2}$  dir.

Buna göre,  $13 + 14 + 15 + 16 + \dots + 27 + 28$  toplamı kaçtır?

- A) 298    B) 302    C) 314    D) 328    E) 336

51. Aşağıdaki toplama tablosunda, Ç harfi çift doğal sayıları ve T harfi tek doğal sayıları göstermektedir.

+	T	Ç
T	I	II
Ç	III	IV

Buna göre, I, II, III ve IV numaralı yerlere sırasıyla aşağıdakilerden hangisi yazılmalıdır?

- A) Ç, T, T, Ç  
B) Ç, T, T, T  
C) Ç, Ç, T, T  
D) T, T, Ç, Ç  
E) T, Ç, T, Ç

52.

$$\frac{ax - 3a + 3b - bx}{a^2 - b^2}$$

ifadesinin sadeleştirilmiş biçimi aşağıdakilerden hangisidir?

- A) a - b    B) a + b    C)  $\frac{a-b}{a+b}$   
D)  $\frac{x-3}{a-b}$     E)  $\frac{x-3}{a+b}$

*Diğer sayfaya geçiniz.*

# A

EGM Pol. Ak. / 2008

53. Bir çiftçi bir tarladaki ürünlerin  $\frac{2}{3}$  ünü 12 günde, bir başka çiftçi ise  $\frac{1}{6}$  sını 6 günde topluyor.

**İki çiftçi birlikte çalışsaydı tarladaki ürünlerin tamamını kaç günde toplardı?**

- A) 10 B) 12 C) 14 D) 15 E) 16

54. Bir terzi elindeki kumaşın  $\frac{2}{9}$  unun  $\frac{3}{4}$  ünü kullanarak geriye 280 cm kumaşı kalmıştır.

**Buna göre, kumaşın tamamı kaç cm dir?**

- A) 330 B) 336 C) 340 D) 342 E) 344

55. Alış fiyatı üzerinden % 25 kârla 500 YTL ye satılan bir maldan elde edilen kâr kaç YTL dir?

- A) 80 B) 90 C) 100 D) 120 E) 150

56. Bir turist grubundaki kişilerin % 70 i erkektir.

**Bu gruptaki bayanların sayısı 24 olduğuna göre, bu turist grubunda kaç kişi vardır?**

- A) 70 B) 72 C) 78 D) 80 E) 82

57. Bir karakolda her 15 polise karşılık 2 komiser bulunmaktadır.

**Bu karakoldaki polis ve komiser sayılarının toplamı 102 olduğuna göre, karakolda kaç komiser vardır?**

- A) 14 B) 12 C) 10 D) 8 E) 6

*Diğer sayfaya geçiniz.*

# A

EGM Pol. Ak. / 2008

58. Bir su deposunun  $\frac{3}{5}$  i suyla doludur. Depodan 3 litreye su kullanıldığında deponun yarısı boş kalıyor.

**Bu deponun tamamı kaç litre su almaktadır?**

- A) 24 B) 30 C) 32 D) 35 E) 36

60.  $\{P, O, L, İ, S\}$  kümesi üzerinde \* işlemi aşağıdaki tabloyla verilmiştir.

*	P	O	L	İ	S
P	P	P	P	P	P
O	P	O	L	İ	S
L	P	L	S	O	İ
İ	P	İ	O	S	L
S	P	S	İ	L	O

**Buna göre,  $L*(O*İ)$  nedir?**

- A) P B) O C) L D) İ E) S

59.  $\{E, M, N, İ, Y, T\}$  kümesindeki her harf bir kez kullanılarak E harfi ile başlayan anlamlı ya da anlamsız üç harfli kaç sözcük yazılabilir?

- A) 36 B) 30 C) 24 D) 20 E) 15

61. 4 makine 15 kazağı günde 3 saat çalışarak 5 günde örüyor.

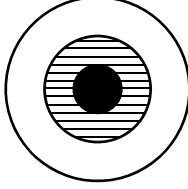
**3 makine 30 kazağı günde 8 saat çalışarak kaç günde örer?**

- A) 3 B) 4 C) 5 D) 6 E) 7

*Diğer sayfaya geçiniz.*

**62. – 64. SORULARI AŞAĞIDAKİ BİLGİLERE GÖRE CEVAPLAYINIZ.**

Aşağıda siyah, taralı ve beyaz bölümlerden oluşan bir hedef tahtası verilmiştir.



Bu hedef tahtasına yapılan atışlardan siyah bölüme isabet edenler 5 puan, taralı bölüme isabet edenler 3 puan ve beyaz bölüme isabet edenler 1 puan değerindedir.

62. Bir atıcı bu hedefe 10 atış yapmış ve atışlardan 1 i taralı, 3 ü beyaz ve 6 sı siyah bölüme isabet etmiştir.

**Bu atıcı kaç puan almıştır?**

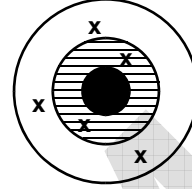
- A) 30 B) 32 C) 34 D) 36 E) 38

63. Bir atıcı 16 atış yapmış ve atışlar taralı ya da siyah bölümlere isabet etmiştir.

**Atıcı bu atışlardan 66 puan aldığına göre, atışların kaç tanesi siyah bölüme isabet etmiştir?**

- A) 9 B) 10 C) 11 D) 12 E) 13

64. Bir atıcı hedef tahtasına 15 atış yapmış ve bu atışların % 60 ı tahtaya isabet etmiştir. Atıcının beyaz ve taralı bölümlere isabet eden atışları aşağıda gösterilmiştir.



**Bu atıcının siyah bölüme isabet ettirdiği atış sayısı kaçtır?**

- A) 2 B) 3 C) 4 D) 5 E) 6

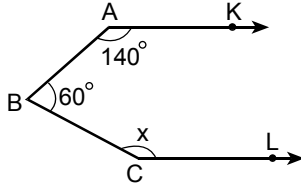
65. Alanı  $64 \text{ cm}^2$  olan bir karenin, kenar uzunlukları birer cm kısaltılarak yeni bir kare elde ediliyor.

**Buna göre, yeni karenin alanı kaç  $\text{cm}^2$  dir?**

- A) 9 B) 16 C) 25 D) 36 E) 49

*Diğer sayfaya geçiniz.*

66.



$$[AK] \parallel [CL]$$

$$m(\widehat{KAB}) = 140^\circ$$

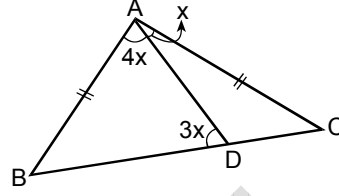
$$m(\widehat{ABC}) = 60^\circ$$

$$m(\widehat{BCL}) = x$$

Yukarıdaki verilere göre,  $x$  kaç derecedir?

- A) 140 B) 145 C) 150 D) 155 E) 160

68.



ABC bir üçgen

$$|AB| = |AC|$$

$$m(\widehat{ADB}) = 3x$$

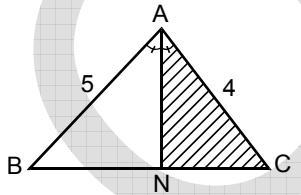
$$m(\widehat{BAD}) = 4x$$

$$m(\widehat{DAC}) = x$$

Yukarıdaki verilere göre,  $x$  kaç derecedir?

- A) 10 B) 15 C) 20 D) 25 E) 30

67.



ABC bir üçgen

[AN] açıortay

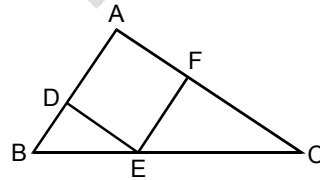
$$|AB| = 5 \text{ cm}$$

$$|AC| = 4 \text{ cm}$$

Şekildeki ABC üçgeninin alanı  $27 \text{ cm}^2$  olduğuna göre, ANC taralı üçgeninin alanı kaç  $\text{cm}^2$  dir?

- A) 9 B) 10 C) 12 D) 16 E) 18

69.



ABC bir üçgen

ADEF bir eşkenar  
dörtgen

Şekildeki ADEF eşkenar dörtgeninin D köşesi ABC üçgeninin [AB] kenarı, F köşesi [AC] kenarı ve E köşesi [BC] kenarı üzerindedir.

$|AB| = 3 \text{ cm}$ ,  $|AC| = 6 \text{ cm}$  olduğuna göre,  $\frac{|FC|}{|DB|}$

oranı kaçtır?

- A)  $\frac{15}{4}$  B)  $\frac{13}{3}$  C) 2 D) 3 E) 4

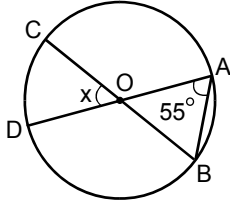
Diğer sayfaya geçiniz.



# A

EGM Pol. Ak. / 2008

70.



O merkezli çember

$$m(\widehat{DAB}) = 55^\circ$$

$$m(\widehat{DOC}) = x$$

Yukarıdaki verilere göre,  $x$  kaç derecedir?

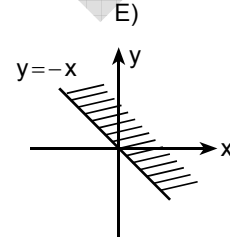
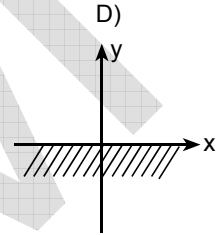
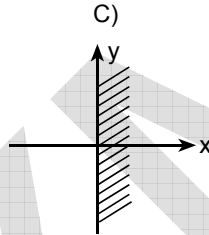
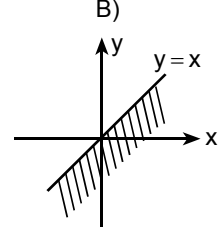
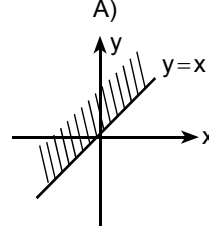
- A) 45 B) 50 C) 55 D) 60 E) 70

71. Dik koordinat sisteminde  $A(-1, -2)$ ,  $B(5, 2)$ ,  $C(0, 2)$   
 $D(a, 2a)$  noktaları veriliyor.

$AB \parallel CD$  olduğuna göre,  $a$  kaçtır?

- A)  $\frac{3}{2}$  B)  $\frac{3}{5}$  C) 1 D) 2 E) 3

72.  $y - x \geq 0$  eşitsizliğinin grafiği aşağıdakilerden hangisidir?



**GENEL YETENEK BÖLÜMÜ BİTTİ.**  
**GENEL KÜLTÜR BÖLÜMÜNE GEÇİNİZ.**

# A

## GENEL KÜLTÜR BÖLÜMÜ

EGM Pol. Ak. / 2008

73. Birinci Dünya Savaşı'nın nedenlerinden biri olan devletler arası çıkar çatışmalarının,

- I. silah teknolojisinin gelişmesi,
- II. devletlerin bloklara ayrılması,
- III. ham madde kaynaklarına gereksinimin azalması

**durumlarından hangilerine ortam hazırladığı savunulabilir?**

- A) Yalnız I      B) Yalnız II      C) Yalnız III  
D) I ve II      E) I, II ve III

74. Kurtuluş Savaşı'nda,

- Temsilciler Kurulunun bütün ülkeyi temsil etmesi,
- Ali Fuat Paşa'nın Batı Cephesi Kuvvetleri Genel Komutanlığına atanması,
- ulusal cemiyetlerin birleştirilmesi

**kararları aşağıdakilerin hangisinde alınmıştır?**

- A) Erzurum Kongresi      B) Sivas Kongresi  
C) Amasya Görüşmesi      D) Amasya Genelgesi  
E) Balıkesir Kongreleri

75. Aşağıdakilerden hangisi, İstanbul Hükûmeti temsilcisi Salih Paşa'yla Temsilciler Kurulu arasında yapılan görüşmelerin sonuçlarından biridir?

- A) Mebuslar Meclisinin toplanması  
B) Amasya Genelgesi'nin yayımlanması  
C) Erzurum Kongresi'nin toplanması  
D) Mustafa Kemal'in Temsilciler Kurulu Başkanı seçilmesi  
E) Doğu Anadolu Müdafaa-i Hukuk Cemiyetinin kurulması

76. Aşağıdakilerden hangisi, TBMM'nin açılmasına ortam hazırlamıştır?

- A) Saltanatın kaldırılması  
B) Sovyet Rusya'nın Anadolu harekâtını desteklemesi  
C) Anlaşma Devletleri arasında görüş ayrılığı çıkması  
D) Düzenli ordunun kurulması  
E) İstanbul'un resmen işgal edilmesi

*Diğer sayfaya geçiniz.*

77. Kurtuluş Savaşı'nda, İtalya'nın işgal ettiği yerlerden II. İnönü Savaşı'ndan sonra çekilmeye başlaması aşağıdakilerden hangisinin bir göstergesidir?

- A) Anlaşma Devletleri ittifakından ayrıldığı için
- B) Anlaşma Devletleriyle görüş ayrılığı olduğunun
- C) Birinci Dünya Savaşı'na geç katıldığı için
- D) İşgal ettikleri yerlerde çatışma olmadığı için
- E) Mudanya görüşmelerine katılan devletlerden biri olduğunun

78. Aşağıdakilerden hangisi, Kurtuluş Savaşı'nda TBMM Hükûmetine karşı çıkan ayaklanmalardan biri değildir?

- A) Menemen
- B) Anzavur
- C) Bolu – Düzce
- D) Afyonkarahisar
- E) Konya

79.

- I. 1921 Anayasası'nın kabul edilmesi
- II. Batı Cephesi'nin ikiye ayrılması
- III. TBMM'nin Kayseri'ye taşınması

**Eskişehir – Kütahya Savaşlarının kaybedilmesi yukarıdaki konulardan hangilerinin tartışılmasına ortam hazırlamıştır?**

- A) Yalnız I
- B) Yalnız II
- C) Yalnız III
- D) I ve II
- E) I, II ve III

80. Lozan Antlaşması'yla karara bağlanan nüfus mübadelesinin daha sonra sorun olmasının nedenlerinden biri aşağıdakilerden hangisidir?

- A) Türkiye'de yaşayan azınlıkların Türk vatandaşlığı sayılması
- B) Yunanistan'ın İstanbul'da çok sayıda Rum bırakmak istemesi
- C) Batı Trakya'daki Türklerin Türkiye'ye gelmek istemesi
- D) Anadolu'da yaşayan Rumların Yunanistan'a gönderilmesi
- E) Yabancı okullara Türk yasalarına uyma zorunluluğu getirilmesi

*Diğer sayfaya geçiniz.*

# A

EGM Pol. Ak. / 2008

81. Kurtuluş Savaşı'nda Merzifon Amerikan Kolejindeki yabancı öğretmenlerin Pontus Rum faaliyetine yataklık etmesi ve okuldaki bir Türk öğretmenin Rumlar tarafından öldürülmesi yabancı okulların kapatılmasının nedenlerinden biri olmuştur.

**Bu durum,**

- I. bağımsızlık,
- II. ulusçuluk,
- III. laiklik

**ilkelerinden hangilerinin gözetildiğini gösterir?**

- A) Yalnız I      B) Yalnız II      C) Yalnız III  
D) I ve II      E) II ve III

82. Atatürk bir konuşmasında: "Bir yurdun en değerli varlığı yurttaşlar arasında milli birlik, iyi geçinme ve çalışkanlık duygu ve kabiliyetlerinin olgunluğudur. Millet varlığını korumak için bütün yurttaşların canlarını ve her şeylerini derhal ortaya koymalarına karar vermiş olmaları, bir milletin en yenilmez silahı ve korunma vasıtasıdır." demiştir.

**Atatürk'ün bu konuşmasıyla, aşağıdaki ilkelerden hangisini doğrudan vurguladığı savunulabilir?**

- A) Cumhuriyetçilik      B) Devletçilik  
C) Milliyetçilik      D) Laiklik  
E) İnkılapçılık

83.

- I. Eğitimin karma olması
- II. Saltanat ile halifeliğin kaldırılması
- III. Mecelle yerine Medeni Kanun'un kabul edilmesi

**Yukarıdaki gelişmelerden hangilerinin sosyal ve siyasi alanlarda laiklik anlayışının göstergeleri olduğu savunulabilir?**

- A) Yalnız I      B) Yalnız II      C) Yalnız III  
D) I ve II      E) I, II ve III

84.

- I. Şapka Kanunu'nun çıkarılması
- II. Hafta sonu tatilinin cumadan pazar gününe alınması
- III. Takvim, saat ve ölçülerde değişiklik yapılması

**Yukarıdaki inkılap hareketlerinden hangilerinin Avrupa'yla ilişkileri kolaylaştırdığı savunulabilir?**

- A) Yalnız I      B) Yalnız II      C) I ve II  
D) II ve III      E) I, II ve III

*Diğer sayfaya geçiniz.*

# A

EGM Pol. Ak. / 2008

85. İklim koşulları göz önüne alındığında aşağıdaki ülkelerin hangisinde deniz turizmüne uygun sürenin daha kısa olması beklenir?

- A) İtalya                      B) Türkiye                      C) Fransa  
D) Finlandiya                E) İspanya

87. Aşağıdakilerden hangisi, Türkiye’de yaz aylarında yaşanan bir durum değildir?

- A) Erzurum’da yükselim (konveksiyonel) yağışlarının görülmesi  
B) Şanlıurfa’da tarımda sulamaya gereksinim duyulması  
C) Antalya’ya gelen yabancı turist sayısının artması  
D) Adana’da yaylacılık etkinliklerinin yapılması  
E) Ankara’da kırç ve kırağı olaylarının görülmesi

86. Aşağıdakilerin hangisinde bir ülke, ekonomisinde büyük paya sahip bir etkinlikle birlikte verilmemiştir?

- A) Avustralya – Hayvancılık  
B) Japonya – Tarımsal üretim  
C) Yunanistan – Deniz ticareti  
D) Almanya – Otomotiv endüstrisi  
E) Amerika Birleşik Devletleri – Maden endüstrisi

88. Akdeniz Bölgesi’nde ekili-dikili alanlar bölge yüz ölçümünün 1/4’üne karşılık gelirken, Ege Bölgesi’nde bu oran 1/3’tür.

**Bu durum iki bölgenin aşağıdakilerin hangisi bakımından farklı olmasına bağlanabilir?**

- A) Engebelilik  
B) Doğal bitki örtüsü  
C) Yağış tutarı  
D) Göl sayısı  
E) Akarsuların debisi

*Diğer sayfaya geçiniz.*

# A

EGM Pol. Ak. / 2008

89. Doğu Karadeniz Bölümü'nün aşağıdaki özelliklerinden hangisinde, yer şekillerinin bir etkisi yoktur?

- A) Kentlerin ekonomik açıdan çok fazla gelişmemiş olması
- B) İç kesimlerle ulaşımının zor olması
- C) Zengin bakır yataklarının bulunması
- D) Tarım alanlarının dar olması
- E) Nüfusun kıyı kesimde yoğunlaşması

91. Eğitim ve engebe koşulları göz önüne alındığında,

- I. Zonguldak,
- II. Adana,
- III. Rize,
- IV. İzmir

illerinden hangilerinin kırsal kesiminde dağınık yerleşmelerin diğerlerinden daha fazla görülmesi beklenir?

- A) I ve II
- B) I ve III
- C) II ve III
- D) II ve IV
- E) III ve IV

90. Karasallık ve yükselti, don olayının görüldüğü gün sayısı üzerinde çok etkilidir.

**Buna göre, aşağıdaki illerin hangisinde don olayının etkili olduğu gün sayısının diğerlerinden daha fazla olması beklenir?**

- A) Kilis
- B) Burdur
- C) Manisa
- D) Sivas
- E) Amasya

92. Aşağıdakilerin hangisinde birlikte verilen illerde yetiştirilen tarım ürünleri, birbirine diğerlerinden daha çok benzerlik gösterir?

- A) Antalya – İzmir
- B) Sinop – Çorum
- C) Hatay – Şanlıurfa
- D) Trabzon – Gümüşhane
- E) İstanbul – Van

*Diğer sayfaya geçiniz.*

# A

EGM Pol. Ak. / 2008

93. Aşağıdakilerden hangisi ahır hayvancılığının yapılabilmesi için gerekli endüstri kollarından biridir?

- A) Deri-kösele                      B) Süt  
C) Dokuma                              D) Et  
E) Suni yem

95. Afyonkarahisar, Aksaray, Gaziantep ve Kayseri kentlerinde,

- I. tarım ürünlerini işleyen bazı endüstri kuruluşlarının bulunması,  
II. kış turizmi için tesislerin bulunması,  
III. kıyı bölgelerini iç bölgelere bağlayan kavşak noktasında olması,  
IV. mermer üretiminde büyük paya sahip olması

özelliklerinden hangileri ortaktır?

- A) I ve II                      B) I ve III                      C) II ve III  
D) II ve IV                      E) III ve IV

94. İstanbul'da, endüstri kuruluşlarının fazla ve çeşitli olmasında aşağıdakilerden hangisinin etkisi daha az olmuştur?

- A) Sermayenin fazla olması  
B) Pazarlama olanaklarının fazla olması  
C) Ham madde gereksiniminin çoğunun yöre dışından karşılanması  
D) Kara, hava, deniz ve demir yollarının tümünden yararlanılabilmesi  
E) İş gücünün kolaylıkla sağlanabilmesi

96. Aşağıdakilerden hangisi, hem doğal hem de tarihi bir değer olarak Türkiye turizmine katkı sağlayan oluşumlardan biri değildir?

- A) Pamukkale (Denizli)  
B) Peri bacaları (Nevşehir)  
C) Yedigöller (Zonguldak)  
D) Karain Mağarası (Antalya)  
E) Nemrut Dağı (Adıyaman)

*Diğer sayfaya geçiniz.*

# A

EGM Pol. Ak. / 2008

97. Aşağıdakilerden hangisi 1982 Anayasası'nın değiştirilemeyecek hükümlerinden biri değildir?

- A) Millî marşın "İstiklal Marşı" olması
- B) Bayrağın, şeklinin kanunda belirtilen beyaz ay yıldızlı al bayrak olması
- C) Türkiye Cumhuriyetinin bir hukuk devleti olması
- D) Yürütme görevinin Cumhurbaşkanı ve Bakanlar Kurulu tarafından yerine getirilmesi
- E) Devletin şeklinin Cumhuriyet olması

99. 1982 Anayasası'nın 38. maddesine göre, suç ve cezalara ilişkin aşağıdaki ifadelerden hangisi yanlıştır?

- A) Ölüm cezası verilemez.
- B) Suçluluğu hükmen sabit oluncaya kadar, kimse suçlu sayılamaz.
- C) Kanuna aykırı olarak elde edilmiş bulgular, delil olarak kabul edilemez.
- D) Ağır cezayı gerektiren suçlarda genel müsadere cezası verilebilir.
- E) Kimse, işlendiği zaman yürürlükte bulunan kanunun suç saymadığı bir fiilden dolayı cezalandırılmaz.

98. 1982 Anayasası'na göre, din ve vicdan özgürlüğüyle ilgili aşağıdaki ifadelerden hangisi yanlıştır?

- A) Herkes vicdan, dinî inanç ve kanaat özgürlüğüne sahiptir.
- B) İbadet, dinî ayin ve törenler hiçbir şekilde sınırlanamaz.
- C) Kimse dinî inanç veya dinî duyguları kötüye kullanamaz.
- D) Kimse dinî inanç veya kanaatlerinden dolayı kınanamaz.
- E) Kimse dinî inanç veya kanaatlerini açıklamaya zorlanamaz.

100. Aşağıdakilerden hangisi Cumhuriyetin niteliklerinden olan Hukuk Devletinin vazgeçilmez koşullarından biri değildir?

- A) Yasalar önünde eşitliğin sağlanması
- B) Yargı bağımsızlığının sağlanması
- C) Anayasa ve yasalara uygunluğun sağlanması
- D) Temel hak ve özgürlüklerin güvenceye alınması
- E) Cumhurbaşkanı'nın halk tarafından seçilmesi

*Diğer sayfaya geçiniz.*



# A

EGM Pol. Ak. / 2008

101. 1982 Anayasası'na göre, TBMM kaç milletvekilinden oluşur?

- A) 350                      B) 400                      C) 450  
D) 500                      E) 550

102.

- I. Silah altında bulunan er ve erbaşlar  
II. Yüksek Seçim Kurulu Başkan ve üyeleri  
III. Sandık Kurulları Başkan ve üyeleri  
IV. Taksirli suçlardan hüküm giyenler hariç ceza infaz kurumlarında bulunan hükümlüler  
V. 18 yaşını doldurmuş olsalar dahi, askerî öğrenciler

**Yukarıdakilerden hangileri 1982 Anayasası'nda düzenlenen seçme hakkından yararlanamaz?**

- A) I, II ve III                      B) I, IV ve V                      C) II, III ve IV  
D) II, III ve V                      E) II, IV ve V

103. 1982 Anayasası'na göre, aşağıdakilerden hangisi milletvekili seçilebilir?

- A) 18 yaşını doldurmuş okur-yazar, Türkiye Cumhuriyeti vatandaşı bir kişi  
B) 25 yaşını doldurmuş, yükümlü olduğu askerlik hizmetini henüz yapmamış, Türkiye Cumhuriyeti vatandaşı bir kişi  
C) 25 yaşını doldurmuş, 2 yıldan beri Türkiye Cumhuriyeti vatandaşı olan bir kişi  
D) 18 yaşını doldurmuş, kısıtlı, Türkiye Cumhuriyeti vatandaşı bir kişi  
E) 25 yaşını doldurmuş, Türkiye Cumhuriyeti vatandaşlığından 1 yıl önce çıkmış olan bir kişi

104. 1982 Anayasası'na göre, TBMM tatilde veya ara vermede iken ülkenin ani bir silahlı saldırıya uğraması ve bu sebeple silahlı kuvvet kullanılmasına derhâl karar verilmesinin kaçınılmaz olması hâlinde aşağıdakilerden hangisi Türk Silahlı Kuvvetlerinin kullanılmasına karar verebilir?

- A) TBMM Başkanı  
B) Cumhurbaşkanı  
C) Dışişleri Bakanı  
D) Millî Savunma Bakanı  
E) Millî Güvenlik Kurulu Genel Sekreteri

*Diğer sayfaya geçiniz.*

# A

EGM Pol. Ak. / 2008

105. 1982 Anayasası'na göre, Cumhurbaşkanının TBMM'ce kabul edilen kanunları en çok kaç gün içinde yayımlaması veya bir kez daha görüşülmesi için TBMM'ye geri göndermesi gerekir?

- A) 7 B) 10 C) 15 D) 20 E) 30

107. 1982 Anayasası'na göre, merkezi yönetim bütçesi kapsamındaki kamu idarelerinin bütün gelir ve giderlerini TBMM adına denetlemek yetkisi aşağıdakilerden hangisine aittir?

- A) Sayıştay  
B) Danıştay  
C) TBMM Başkanı  
D) Anayasa Mahkemesi  
E) Uyuşmazlık Mahkemesi

106. Aşağıdakilerden hangisi 1982 Anayasası'nda TBMM'nin görevlerinden biri olarak sayılmamıştır?

- A) Genel ve özel af ilanına karar vermek  
B) Para basılmasına karar vermek  
C) Bakanlar Kurulunu ve bakanları denetlemek  
D) Kesin hesap kanun tasarisını görüşmek ve kabul etmek  
E) Milletlerarası antlaşmaları onaylamak ve yayımlamak

108. Aşağıdakilerden hangisi 1982 Anayasası'nda sayılan yüksek mahkemeler arasında yer almaz?

- A) Danıştay  
B) Askerî Yargıtay  
C) Anayasa Mahkemesi  
D) Ağır ceza mahkemeleri  
E) Askerî Yüksek İdare Mahkemesi

*Diğer sayfaya geçiniz.*

109. Türkiye'de para politikası uygulama yetkisi aşağıdakilerden hangisine aittir?

- A) Maliye Bakanlığı      B) İçişleri Bakanlığı  
C) Hazine Müsteşarlığı      D) T.C. Merkez Bankası  
E) TBMM

110. Aşağıdakilerden hangisi kamusal sermayeli mevduat bankasıdır?

- A) Denizbank  
B) Finans Bank  
C) T.C. Ziraat Bankası  
D) Türkiye Garanti Bankası  
E) Yapı ve Kredi Bankası

111. Türkiye'nin sanayisi en gelişmiş coğrafi bölgesi aşağıdakilerden hangisidir?

- A) Marmara Bölgesi      B) Karadeniz Bölgesi  
C) İç Anadolu Bölgesi      D) Doğu Anadolu Bölgesi  
E) Güneydoğu Anadolu Bölgesi

112.

- I. Kuzey Amerika Serbest Ticaret Bölgesi (NAFTA)  
II. Karadeniz Ekonomik İşbirliği Örgütü (BSEC)  
III. Güneydoğu Asya Ülkeleri Birliği (ASEAN)

Türkiye yukarıdakilerden hangilerine üyedir?

- A) Yalnız I      B) Yalnız II      C) I ve II  
D) I ve III      E) II ve III

113. Son yıllarda Türkiye'de ve başka ülkelerde ölümlere neden olan böcek aşağıdakilerden hangisidir?

- A) Hamam böceği      B) Karafatma  
C) Örümcek      D) Süne  
E) Kene

114. Aşağıdakilerden hangisi küresel ısınmanın sonuçlarından biri değildir?

- A) Kutuplardaki buzulların erimesi  
B) Deniz seviyelerinin alçalması  
C) İklimlerin özelliklerinin değişmesi  
D) Dünyanın bazı bölgelerinde seller yaşanırken bazı bölgelerinde kuraklığın etkili olması  
E) Bitki ve hayvan türlerinin azalması ya da tamamen yok olması

# A

EGM Pol. Ak. / 2008

115. Dünyada en yüksek petrol rezervine sahip ülke aşağıdakilerden hangisidir?

- A) ABD                      B) Kanada                      C) Venezuela  
D) Kazakistan              E) Suudi Arabistan

116. Birleşmiş Milletler tarafından çocuk haklarının korunması ve çocukların temel gereksinimlerinin karşılanmasına yardımcı olunması için oluşturulmuş uluslararası kuruluş aşağıdakilerden hangisidir?

- A) UNESCO              B) UNICEF                      C) WHO  
D) ILO                      E) FAO

117. 2008 Olimpiyat Oyunları aşağıdaki ülkelerden hangisinde yapılmıştır?

- A) Almanya              B) Fransa                      C) İtalya  
D) Çin                      E) Japonya

118. 2008 Avrupa Futbol Şampiyonası sırasında Türk Millî Takımının teknik direktörlüğünü aşağıdakilerden hangisi yürütmüştür?

- A) Şenol Güneş                      B) Mustafa Denizli  
C) Fatih Terim                      D) Ersun Yanal  
E) Bülent Uygun

119. Aspendos Opera ve Bale Festivali her yıl hangi ilde yapılmaktadır?

- A) İzmir                      B) İstanbul                      C) Muğla  
D) Mersin                      E) Antalya

120. Her yıl 19 Eylülde kutlanan özel gün aşağıdakilerden hangisidir?

- A) Gaziler Günü  
B) Gazeteciler ve Basın Bayramı  
C) Dünya Barış Günü  
D) Dünya Çevre Günü  
E) Dünya Tiyatrolar Günü

**TEST BİTTİ.**

**CEVAPLARINIZI KONTROL EDİNİZ.**