

A

GENEL YETENEK TESTİ

JOK Uzm. J. / 2008

1. Eğitimden yoksun, sanatla tanışmamış, kendini geliştirme olanağı bulamamış genç nüfusla övünmek kadar yanlış bir şey olamaz.

Bu cümlede geçen "bulamamak" sözcüğüyle anlatılmak istenen aşağıdakilerden hangisidir?

- A) Gereksinme duymamak
- B) Yitirilen bir şeye üzülmek
- C) Bir şeye ulaşamamak
- D) Yeterince çalışmamak
- E) Hedeflenenin gerisinde kalmak

2. Bir sanatçıya farklı pencerelerden bakıldıkça onun yapıtları ışıltar, renklenir.

Bu cümlede geçen "farklı pencerelerden bakmak" sözüyle anlatılmak istenen aşağıdakilerden hangisidir?

- A) Değişik bakış açılarına göre yorumlamak
- B) Yapıtları birbirinden bağımsız değerlendirmek
- C) Kişisel düşünceleri göz önünde bulundurmamak
- D) Ayrıntılar üzerinde dikkatlice düşünmek
- E) İlginç yönlerini öne çıkarmak

3. 20. yüzyılın çocuğu olan televizyon, çağına

damgasını vururken bir yandan da en güçlü iletişim

I

aracı olarak gündelik yaşamımızdaki yerini aldı. İn-

II

sanlarla icli dışlı olup onları bağırına bastı. Böylece,

III

IV

televizyon izleyicileri, dünyanın dört bir yanındaki

V

olaylardan, sadece sesli ve sözlü değil, görüntülü

olarak da haberdar olmaya başladı.

Bu parçadaki numaralanmış sözlerden hangisi deyim değildir?

- A) I.
- B) II.
- C) III.
- D) IV.
- E) V.

4. Aşağıdaki cümlelerin hangisinde kırgınlığını belirtme söz konusudur?

- A) Bu yıl ailecek çok sıkıntılı günler yaşadık.
- B) Gördüklerimiz karşısında neye uğradığımızı şaşırдық.
- C) Bu konuda herkesi dikkatli olmaya çağırıyoruz.
- D) Doğrusu olup bitenleri bize de anlatmanızı istedik.
- E) Yapılan bu haksızlığa hep birlikte karşı çıkmalıyız.

Diğer sayfaya geçiniz.

5. (I) Dünyada yedi bin dilin yarısından fazlası yok olma tehlikesiyle karşı karşıya ve gelecek yüzyılda birçoğu da tamamen kaybolacak. (II) Bilim adamları dillerin kaybolmasının, hayvan ve bitki türleri için de tehlike oluşturduğunu saptadı. (III) Buradan yola çıkarak dünyanın biyolojik çeşitlilik haritası ile dillerin dağılım haritasını çıkardı. (IV) Bitki ve hayvan türlerinin en zengin olduğu Amazon Havzası ve Yeni Gine Adası'nda dil yönünden de çeşitlilik görüldü. (V) Bilim adamları bu bölgelerde biyolojik çeşitliliğin nasıl korunacağı bilgisinin dillerin içinde gizli olduğuna inanıyor. (VI) Çünkü bu dillerde, bitkilerin nasıl ve nerede yetiştiğine, hangi hastalıkları tedavi ettiğine ilişkin pek çok bilgi bulunduğunu ancak bunların birçoğunun, yok olan dillerle beraber ortadan kalktığını belirtiyor.

Bu parçadaki numaralanmış cümlelerin hangisi kendinden önceki cümlenin açıklamasıdır?

- A) II. B) III. C) IV. D) V. E) VI.

6. (I) Bir insan kalabalığını topluma dönüştüren öğeler, inançlar, değerler ve kurallardır. (II) Bir kalabalığın, toplum niteliği kazanması, bu inançların, değerlerin ve kuralların en azından bir bölümünün paylaşılmasına bağlıdır. (III) Bu paylaşımın sağlanması için çocukluk döneminde ilk rol ailenin olup "Yalan söylemek kötüdür.", "Sözünde durmak iyidir." gibi değerler ve kurallar çocuğa öğretilir; sonra arkadaş grupları, kitle iletişim araçları da bu konuda etkili olur. (IV) Ardından bu değer, inanç ve kuralların aktarılmasında okullar görev üstlenir. (V) Kişiler, böylelikle bir toplumun bireyleri hâline gelir, kişinin toplum-sallaşması, öğrenme yeteneği yok olmadığı sürece hayatı boyunca devam eder.

Bu parçadaki numaralanmış cümlelerin hangilerinde koşul anlamı vardır?

- A) I. ve II. B) I. ve V. C) II. ve V.
D) III. ve IV. E) IV. ve V.

7. (I) Tarihi eskilere dayanan önemli şehirlerin ortak noktası suya yakın olmalarıdır. (II) Bu nedenle iki ırmağın üzerine kurulmuş Belgrad'ın tarih boyunca neden bu kadar akına uğradığını, birçok uygarlığa ev sahipliği yaptığını tahmin etmek zor değil. (III) Taş Devrinde tanrıların toprağa hediyesi olarak görülen Sava ve Tuna ırmakları her zaman canlı kalmasını sağlar bu şehrin. (IV) Burası Keltler, Romalılar, Bulgarlar, Bizans, Osmanlı, Avusturya, Yugoslavya ve Sırbistan'dan izler taşır. (V) Neredeyse 6 bin yıllık geçmişi olan, yıllara, çeşitli hükümetlere, doğal felaketlere karşın ayakta kalabilmiş bir şehir Belgrad. (VI) Bu kent, sosyal ve turistik yapısıyla son yıllarda büyük ilgi çekiyor.

Bu parçadaki II. cümlede açıklanan durumun nedeni numaralanmış cümlelerin hangisinde verilmiştir?

- A) I. B) III. C) IV. D) V. E) VI.

8. **Aşağıdaki cümlelerin hangisinde kesinlik yoktur?**

- A) Busbecq, 1556 yılında Edirne ve İstanbul'daki saray bahçelerinde lalenin yetiştirildiğini gören ilk Avrupalıdır.
B) Manisa Dağı Sultan Yaylası bölgesinde sarı, turuncu ve kırmızı renkli laleler yaygın olarak görülür.
C) İsviçreli botanikçi Conrad Gesner, laleyi ilk kez 1559'da Almanya'nın Augsburg kentinde görmüş, yayımladığı kitabında lale resmine yer vermiştir.
D) İran Selçukluları ve Büyük Selçuklular sanat eserlerinde lale resim ve motiflerine yer vermiştir.
E) Lalenin binlerce yıl öncesinde Türkler tarafından yetiştirilip yayıldığı sanılıyor.

9. (I) Eski İstanbul'da komedyenlerin çoğu ciddi sanatçılardı. (II) Birkaç el hareketiyle, mimikle, az sözle seyircileri kahkahaya boğmayı bilirlerdi. (III) Şakalarında somurtmayan bir ağırbaşlılık vardı. (IV) Tüm tiyatro oyuncularını gibi komedyenlerin de yaşarlığı, sahneye çıkabildiği süreyle sınırlıydı. (V) En ünlü komedyenler bile sahneden çekildikten birkaç yıl sonra unutuluyorlardı.

Komedyenlerin anlatıldığı bu parçadaki numaralanmış cümlelerin hangisiyle ilgili açıklama yanlıştır?

- A) I. cümlede bir kişilik özelliği belirtilmektedir.
B) II. cümlede yeteneklerinden birkaçı sayılmaktadır.
C) III. cümlede eksikliği hissedilen bir yönünden söz edilmektedir.
D) IV. cümlede bir karşılaştırmaya yer verilmektedir.
E) V. cümlede bir sonuç, nedeniyle birlikte açıklanmaktadır.

10. İki pervaneli 335 kg ağırlığındaki uçağın ilk uçuş denemesi, 12 saniye sürer ve bu uçak 37 metre yol alır.
Aynı gün yapılan 2'inci denemede ise uçak 280 m'lik bir mesafeye ulaşır. 1904'te ise Wright Kardeşler, uçağa havada dönüşler yaptırmayı başarırlar. Birkaç yıl sonra Osmanlı İmparatorluğu'nda da Belçikalı Baron Cathers'la ilk uçuş denemesi yapılır.

Bu parçadaki numaralanmış yerlerin hangisinde bir yazım yanlışı vardır?

- A) I. B) II. C) III. D) IV. E) V.

11. Dostlarımızdan ne kadar büyük bir güç aldığımızı biliyoruz değil mi () Onların sevgisiyle () yardıma hazır sıcacık yürekleriyle birçok zorluğu kolayca aşarız () Mutluluklarımız onlarla çoğalır () üzüntülerimiz onlarla azalır ()

Bu parçadaki ayraçlarla () belirtilen yerlere aşağıdakilerin hangisinde verilen noktalama işaretleri sırasıyla getirilmelidir?

- A) (...) (,) (,) (,) (...)
B) (?) (;) (!) (,) (.)
C) (:) (;) (,) (,) (!)
D) (:) (,) (...) (,) (.)
E) (?) (,) (,) (,) (.)

12. **Aşağıdaki cümlelerin hangisinde bir anlatım bozukluğu vardır?**

- A) Kentimizde açıklanan şenlik nedeniyle coşkulu bir gün yaşandı.
B) Kapının kilidini değiştirmek için çilingir çağırdım.
C) Burada çevre sorunlarıyla ilgili önemli bir toplantı yapıldı.
D) Komşularla birlikte tiyatroya gittik, güzel bir oyun izledik.
E) Dün gece, aşırı sıcaktan ve sivrisinekler yüzünden rahat uyuyamadım.

13. **Aşağıdaki cümlelerin hangisinde bir anlatım bozukluğu vardır?**

- A) Böylece aile içindeki saygınlığı daha da artmıştı.
B) Bu tür alışkanlıklarının, saygınlığına gölge düşürdüğünün ayırımında değildir.
C) Meslektaşları arasında çok saygın bir yeri olduğunu kendisi de biliyordu.
D) İnsanların kendisine olan saygınlığını artırmak için özel bir çaba gösteriyordu.
E) O yıllarda güvenilir, saygın kişiler arasında onun da adı geçirdi.

Diğer sayfaya geçiniz.

14. Mezopotamya'da yapılan arkeolojik çalışmalar yüzünden, çağdaş uygarlığın Eski Mezopotamya'ya neler borçlu olduğu ortaya çıktı.

Bu cümledeki anlatım bozukluğunu gidermek için aşağıdaki değişikliklerden hangisi yapılmalıdır?

- A) "yapılan" sözcüğü cümleden çıkarılmalıdır.
 B) "çağdaş" sözcüğü cümleden çıkarılmalıdır.
 C) "çalışmalar" yerine "kazılar" sözcüğü getirilmelidir.
 D) "çıktı" yerine "kondu" sözcüğü getirilmelidir.
 E) "yüzünden" yerine "sayesinde" sözcüğü getirilmelidir.

15. (I) Türkçe tanıtma ve kullanma kılavuzu bulunmayan sanayi ürünlerini satın almamalıdır. (II) Sözlü olarak yapılan açıklamaların tanıtma ve kullanma kılavuzunda yer alıp almadığına dikkat etmelidir. (III) Satın alınan mal ve hizmetlere ilişkin reklamlarda belirtilen özelliklerin tanıtma ve kullanma kılavuzunda olup olmadığı incelenmelidir. (IV) Tanıtma ve kullanma kılavuzunu iyice okuyup anladıktan sonra ürünü kullanmaya başlamalıdır. (V) Yetersiz bilgilendirme nedeniyle doğacak zararların karşılanması için tüketici mahkemesi ve tüketici sorunları hakem heyetine başvurulmalıdır.

Bu parçadaki numaralanmış cümlelerden hangisinin başına "tüketiciler" sözcüğü getirilirse anlam bozulur?

- A) I. B) II. C) III. D) IV. E) V.

16. (I) Bu kitap bir roman değil, bir öykü, çünkü romanın teknik özellikleri daha farklıdır. (II) Günümüzde türler arasındaki sınırlar belirsizleşti. (III) Romanda karakterlerin derinlemesine incelenmesi gerekir. (IV) Oysa bu kitapta, kişilerin iç dünyaları, yalnızca olaylardan ve diyaloglardan yola çıkılarak ortaya konmuş. (V) Ayrıca dili de uzun soluklu metinlerde kullanılmayacak bir dil.

Bu parçadaki numaralanmış cümlelerden hangisi düşüncenin akışını bozmaktadır?

- A) I. B) II. C) III. D) IV. E) V.

17. (I) Yolculuğun, her zaman edebiyatı besleyen ana kaynaklardan biri olduğu söylenir. (II) Goethe, kendini, birçok şeyin tadına varabilmek için birçok şeyden fedakârlık eden bir gezgin gibi görür, yolculuk ile mutluluk arasında bağ kurar. (III) Mayakovski, "Gezmek benim için bir gereksinim." der yolculuğu anlatırken. (IV) Uzak iklimlerin coğrafyalarına okurunu da götüren, çok gezen, çok gören ender yazarlardan biri de Nedim Gürsel'dir. (V) Yolculuk, Nedim Gürsel anlatılarının öz suyudur. (VI) Yolculuk edebiyatına girebilecek türde öyküler de yazmıştır, her biri kendi içinde belli bir coğrafyayı anlatan gezi kitapları da.

Bu parça iki paragrafa ayrılmak istense ikinci paragraf hangi cümleyle başlar?

- A) II. B) III. C) IV. D) V. E) VI.

18. Sevdiğimiz kişilerin beğendiğimiz özelliklerini övmek yüceliktir. Ancak asıl yücelik, sevmediğimiz kimsele-
rin övülmesi gereken özelliklerini övmektir.

Bu parçada vurgulanmak istenen kavram aşağıdakilerden hangisidir?

- A) İnsanları sevme
 B) Anlayışlı olma
 C) Alçak gönüllü olma
 D) Yansız davranma
 E) Nitelikli olma

19. Doğumunun 75. yıldönümü nedeniyle, bu sanatçının daha önce kimsenin görmediği çizim ve resimleri yayımlanıyor. Bu kitapta, sanatçının yedi yaşındayken yazdığı resimli mektupları da var. Bu mektuplar 1996 yılında, ailesinin evinin tavan arasında bulunmuştu. Belgeler arasında, öğrenim gördüğü dönemden kalma taslaklar, portreler, fotoğraflar ve resimler de bulunuyordu. Sanatçının yirmi yaşındayken, yazar olmaya karar verdiğinde bütün bu çalışmalarını toplayarak tavan arasına kaldırdığı biliniyor.

Bu parçada anlatılan sanatçıyla ilgili olarak aşağıdakilerden hangisine değinilmiştir?

- A) Meslek seçiminde yaptığı değişikliğe
- B) Çalışmalarında gösterdiği titizliğe
- C) Resimle ilgilenmeye başladığı yaşa
- D) Öğrenim durumuyla ilgili bilgilere
- E) Sanat çevrelerinde uyandırdığı yankılara

20. İnsanlar beslenme gereksinimi duymasalardı acaba dünya nasıl bir yer olurdu? Belki de bugünkü uygarlık düzeyine erişemezdik. Çünkü araştırmacılar, insanların "ekmek" peşindeki bitmek bilmeyen serüveninin, nüfusun artması ve yerleşim yerlerinin genişlemesinde, ekonominin ve siyasetin üzerinde, ticaret alanlarının belirlenmesinde, savaşlarla yeni yerlerin alınmasında büyük etkisi olduğunu belirtiyorlar. Yiyecek sıkıntısı içinde olan Avrupa, İpek Yolu'nun Osmanlı İmparatorluğu'nun eline geçmesiyle başka yollar aramaya yönelmeseydi, belki de Kristof Kolomb 1492'de Atlantik Okyanusu'nu aşarak Kuzey Amerika'yı keşfedemeyecekti.

Bu parçada anlatılmak istenen aşağıdakilerden hangisidir?

- A) Amerika'nın keşfinin ortaya çıkardığı sonuçlar
- B) Ticaret yollarının ülkelere sağladığı yararlar
- C) İnsan topluluklarının birbirleriyle yiyecek kaynaklarını ele geçirmek için savaşmaları
- D) Kimi Avrupa ülkelerinin günümüze kadar geçirdiği aşamalar
- E) Beslenmenin yaşamsal öneminin, insanlık tarihi üzerindeki etkileri

21. ----. Önceki yıl 25'e yakın film çekilmişti, geçen yıl bu sayı 50'ye yükseldi. 2006 yılında toplam 34 Türk filmi gösterime girdi. Sinemalara giden toplam otuz beş milyon izleyicinin yüzde elli ikisi Türk filmlerini seyretti. Sadece beş yıl öncesine göre bile bu, inanılmayacak kadar büyük bir artıştır.

Bu parçanın başına düşüncenin akışına göre aşağıdakilerden hangisi getirilebilir?

- A) Sinemada nicelik artmadıkça nitelik de kendini gösterecek fırsat bulamıyor
- B) Geçen yıl sinema izleyicisinin yarısından fazlası Türk filmi izledi
- C) Dizi setlerinde yetişen genç yönetmenler artık, sinemaya yöneldiler
- D) Ülkemizde, çekilen film sayısı neredeyse her yıl katlanarak artıyor
- E) Ulusal sinemada büyümeyi sağlayan en önemli etken televizyon dizileri oldu

22. Tatlı su kaynaklarının bulunması, kullanılması, korunması, doğru bir biçimde işletilmesi tarihin her döneminde insanların uygarlık alanında ilerlemesini sağlayan temel etkenlerin başında gelmiştir.

Bu cümleden tatlı su kaynaklarıyla ilgili olarak aşağıdakilerden hangisi çıkarılabilir?

- A) Yenilerinin bulunması için çalışmalar yapılması gerektiği
- B) İnsanların yıllar öncesinde bile öneminin bilincinde olduğu
- C) Artırmak için neler yapmak gerektiği
- D) Korunması için olağanüstü önlemler alındığı
- E) Yaşamın temel ögesi olması nedeniyle savaşlara yol açtığı

23. Bu turizm beldesine son gidişim kış sonuna doğruydum. Evlerin bacalarından gökyüzünde şekiller çizen dumanlar yükseliyordu. Bu evlerin yenileriyle eskileri iç içeydi. Bakımlı olanlar, bozkırdaki çiçekler gibi hemen göze çarpıyordu. Tarih kokan eski evleri ise açık hava kütüphanesi olarak nitelemenin doğru olacağını düşünüyordum. Yapraklarının çoğu yırtılmış, kimi sayfaları solmuş, ama okunması gerekli kitaplarla dolu bir kütüphane...

Bu parçada yazar, beldedeki tarihsel değeri olan evlerle ilgili olarak neyi anlatmaktadır?

- A) Aralarında benzerlikler olduğunu
- B) Gerekli ilgiyi görmediğini
- C) Yıpranmışlığına karşın önemini koruduğunu
- D) Mevsimlere göre görünüşlerinin değiştiğini
- E) Nasıl kullanıldığını

24. Edebiyat dünyasına oyun yazarlığıyla girmiş olmanın bir ayrıcalığı var: Konuşma dilinin doğal akıcılığıyla yazmak. Bu yazarın oyun yazarlığı yaparak edindiği ustalık, öyküleriyle romanlarındaki konuşmalarda da görülür. Bunlar, laf olsun diye söylenmiş sözler değildir. Olayların gelişmesini, kişilerin ruh yapısını anlamayı kolaylaştıran, yaşanmış bir duyarlılığı gösteren gerçekçi konuşmalardır.

Bu parçada sözü edilen yazarın başarısı aşağıdakilerden hangisine bağlanmaktadır?

- A) İlgi çekici kurgusal ürünler ortaya koyabilmesine
- B) Yazarlığını besleyecek olanlar dışındaki yazınsal türlere yönelmemesine
- C) Yapıtlarındaki kişilerin yaşadıklarını, kendisi yaşıyor muşçasına verebilmesine
- D) Kişilerin iç dünyasını yansıtırken gösterdiği titizliğe
- E) Karşılıklı konuşmalara dayalı yazınsal türlerde eriştiği yetkinliğe

25. Geçen yıl "Hababam Sınıfı"nın yazılışının ellinci yılını kutladık. Rifat Ilgaz'ın bu yapıtı Macarcaya çevrildi. Dünyanın pek çok ülkesinde tiyatrolarda oynandı. 1975'te ilk kez sinema filmi olarak çekildi. Yabancı kaynaklı bir internet sitesinde 2005 yılında yapılan bir oylamada komedi dalında dünya üçüncüsü seçildi. Ayrıca Çin'de ve Japonya'da da dereceye girdi.

Bu parçada sözü edilenlerden, yapıtla ilgili olarak nasıl bir sonuç çıkarılabilir?

- A) Değişik uluslara seslenebilen bir nitelik taşıdığı
- B) Tiyatroya uyarlanmasının kolay olduğu
- C) Değerinin yıllar sonra anlaşıldığı
- D) Komedi olduğundan daha çok ilgi gördüğü
- E) Sinema filmi olarak çekilişinin tanınmasını etkilediği

26. Günümüzde televizyona çıkmak kimi insanlar için ne kadar önemliyse, 1950'li yıllarda da radyoda bir programa katılmak o kadar önemliydi. Radyolar, dünyanın en yaygın kitle iletişim araçlarıyken radyoculuk da en parlak günlerini yaşıyordu. O günlerde mikrofon karşısına geçmek, sesini tüm ülkeye, belki de dünyaya duyurmak bambaşka bir mutluluktu. Bu mutluluğu en çok hissedenler de spikerlerdi. Ama spikerlik herkesin öyle kolayca yapabileceği bir iş değildi. Radyo spikeri olabilmek için iyi bir sese sahip olmak, dili en iyi şekilde kullanmak, dilin bütün anlam inceliklerini vurgulamak başta gelen koşullardı.

Bu parçada radyo ve radyoculukla ilgili olarak aşağıdakilerden hangisine değinilmemiştir?

- A) Bu alanda çalışmaktan zevk alındığına
- B) Yayın sırasında yapılan kimi yanlışlara
- C) En başarılı olduğu döneme
- D) Yerini hangi iletişim aracının aldığına
- E) Bu alanda çalışanlarda bulunması gereken niteliklere

27. O hiçbir yanılla öteki çarşı esnafına benzemezdi. Başındaki şapkası, tertemiz gömleği, kravatı ve ütülü pantolonuyla çok titiz, temiz bir insan izlenimi verirdi. Kaşları, daima iki iri uzatma işareti gibi hayretle kalkmış olurdu. Burnunun ucuna doğru yerleştiği teneke çerçeveli gözlüğünün üstünden bakan kahverengi gözlerinde, kendini masal dünyasına kapmış çocukların bakışlarındaki duru hayranlık ışıldardı.

Bu parçada sözü edilen kişi için aşağıdakilerden hangisi söylenemez?

- A) Giyimine gösterdiği özenle dikkatleri çektiği
- B) Çevresindekilerden farklı nitelikler taşıdığı
- C) Gözlüğünün kimi özelliklerinin bulunduğu
- D) Bakışlarında kişiliğine ilişkin ipuçları olduğu
- E) Çarşı esnafıyla ilişkilerinin iyi olduğu

28. Yalnız Anadolu'ya özgü yani "endemik" pek çok bitki var. Bunlardan biri olan ada soğanının soğanlarından elde edilen madde, kalp ilaçlarının yapımında kullanılıyor. Büyük bir soğanı olan bu tür, sonbaharda küçük ve çok sayıda beyazımsı çiçekler açıyor. Aslında bir Akdeniz bitkisi olan ada soğanı, Batı ve Güney Anadolu'da genellikle kızıl çam ormanlarının altlarında, deniz seviyesinden 300 metre kadar yüksek olan yerlerde ve kumlu topraklarda kendiliğinden yetişiyor.

Bu parçada, sözü edilen bitkiyle ilgili olarak aşağıdakilerden hangisine değinilmemiştir?

- A) Nasıl bir ortamda yetiştiğine
- B) Soğanının nasıl olduğuna
- C) Nerelere dikildiğine
- D) Ne zaman çiçeklendiğine
- E) Ne işe yaradığına

29. Ortaköy Camisi, Sultan Abdülmecit tarafından 1853 yılında yaptırılmıştır. Oldukça zarif bir yapı olan cami, barok üslubundadır. Boğaziçi'nin en güzel yerindedir. Cami, harem ve hünkâr olmak üzere iki kısımdan oluşur. Geniş ve yüksek pencereleri, boğazın değişken ışıklarını caminin içine toplayacak biçimde düzenlenmiştir. Merdivenle çıkılan yapının tek şerefeli iki minaresi vardır. Duvarları beyaz kesme taştan yapılmıştır. Tek kubbenin duvarları pembe mozaiktendir. Mihrap mozaik ve mermerden, minber ise somaki kaplı mermerden yapılmıştır.

Bu parçada Ortaköy Camisi'nin hangi özelliğine değinilmemiştir?

- A) İçindeki süslemelerin niteliğine
- B) Hangi sanat akımının özelliklerini taşıdığına
- C) Yapımında hangi malzemelerin kullanıldığına
- D) Pencereleri yapılırken neye dikkat edildiğine
- E) Kaç farklı bölümden oluştuğuna

30. Çocuklarına mutlu olmanın yolunu gösteren bir babaydı o. "Olumsuzluklara takılıp kalmayın." derdi. Biz bir ağaç dikildiğinde, bir çiçek açtığında, bir köpek başını okşatmak için bize yanaştığında, bir yağa geçidi yapıldığında mutlu olmayı babamızda gördük, babamızdan öğrendik. Nasıl da severdi insanları! Nasıl da güvenirdi onlara ve nasıl da saygı gösterirdi her bireye! Yaşamı asla ertelemeydi ve şöyle derdi: "Geçmişini değiştiremezsin, geleceğini bilemezsin, bugünü yaşa, bugün çok önemli."

Bu parçada anlatılan babayla ilgili olarak aşağıdakilerden hangisi söylenemez?

- A) Yaşamla ilgili her şeyi sevmektedir.
- B) Yaşadığı her anın değerini bilmektedir.
- C) Yapmak istediklerini geciktirmemektedir.
- D) Mesleki çalışmalarıyla da adından söz ettirmiştir.
- E) Yaşamında karamsarlığa yer yoktur.

A

JOK Uzm. J. / 2008

31.

$$\frac{5 - \frac{1}{2}}{3 \cdot 0,25}$$

işleminin sonucu kaçtır?

- A) 2 B) 3 C) 4 D) 5 E) 6

32.

$$\frac{17}{3} + \frac{77}{16} - \frac{77}{8} - \frac{22}{33}$$

işleminin sonucu kaçtır?

- A) $\frac{2}{3}$ B) $\frac{1}{8}$ C) $\frac{4}{13}$
D) $\frac{3}{16}$ E) $\frac{7}{33}$

33.

$$\left(\frac{4}{9}\right)^{-\frac{1}{2}}$$

işleminin sonucu kaçtır?

- A) $\frac{-9}{8}$ B) $\frac{-2}{3}$ C) $\frac{3}{2}$
D) $\frac{3}{4}$ E) $\frac{9}{8}$

34. $\frac{3}{2}$ sayısı 50 sayısının yüzde kaçdır?

- A) 14 B) 21 C) 30 D) 35 E) 42

35.

$$\frac{301^2 - 299^2}{15^2 + 2 \cdot 5 \cdot 15 + 5^2}$$

işleminin sonucu kaçtır?

- A) 3 B) 4 C) 5 D) 6 E) 8

Diğer sayfaya geçiniz.

A

JOK Uzm. J. / 2008

36. $\sqrt{9-|x-5|}$ ifadesini en küçük yapan pozitif x tam sayısı için $\frac{23-x}{3}$ kaçtır?

- A) 2 B) 3 C) 4 D) 5 E) 6

37.

$$-2(x+3)+4x=3$$

olduğuna göre, x kaçtır?

- A) $\frac{5}{2}$ B) $\frac{7}{2}$ C) $\frac{9}{2}$
D) $\frac{7}{3}$ E) $\frac{9}{3}$

38. a , b ve c tam sayıları için

$$a \cdot b \cdot c = 0$$

$$b \cdot c < 0$$

$$a - b < 0$$

olduğuna göre, aşağıdaki sıralamalardan hangisi doğrudur?

- A) $a < b < c$ B) $a < c < b$
C) $b < a < c$ D) $b < c < a$
E) $c < a < b$

39. a , b , c ardışık pozitif tam sayılar ve $a < b < c$ olmak üzere,

$$\frac{3a}{2b-c}$$

işleminin sonucu kaçtır?

- A) 1 B) 2 C) 3 D) 4 E) 5

40. AB ve BA iki basamaklı sayıları için

$$AB + BA = 44(A - B)$$

olduğuna göre, $A \cdot B$ çarpımı kaçtır?

- A) 30 B) 24 C) 18 D) 15 E) 12

Diğer sayfaya geçiniz.

41. 1 den 100 e kadar olan yüz doğal sayıdan kaç tanesi 2 ye kalansız bölünebilir, fakat 3 e kalansız bölünemez?

- A) 26 B) 28 C) 30 D) 32 E) 34

42. İki ardışık doğal sayıdan büyüğünün 4 katı, küçüğünden 22 fazladır.

Buna göre, bu iki sayının toplamı kaçtır?

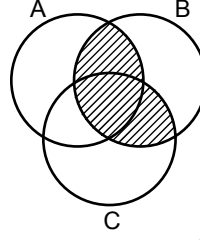
- A) 10 B) 11 C) 12 D) 13 E) 14

43. Uzman kelimesi UZMANUZMANUZMAN... biçiminde yan yana yazılıyor.

Bu yazımdaki baştan 2008. harf hangisidir?

- A) U B) Z C) M D) A E) N

44.



Yukarıdaki şemaya göre, taralı bölge aşağıdaki kümelerden hangisidir?

- A) $(A \cup B) \cap C$ B) $(A \cap B) \cup C$
 C) $(A \cup C) \cap B$ D) $(A \cap C) \cup B$
 E) $(B \cup C) \cap A$

45. A, B ve C maddeleri

$$A = 2B$$

$$2B = 3C$$

oranlarında olacak biçimde kullanılarak bir ilaç hazırlanacaktır.

Buna göre, 110 gramlık ilaç hazırlamak için kaç gram B maddesi kullanılmalıdır?

- A) 30 B) 32 C) 36 D) 40 E) 42

Diğer sayfaya geçiniz.

46. Sepetinde elma, armut ve şeftali bulunan bir köylüye, "Sepetinde kaç tane meyve var?" diye sorulduğunda köylü, "Elmaları saymazsanız 45, armutları saymazsanız 26, şeftalileri saymazsanız 33." yanıtını veriyor.

Buna göre köylünün sepetindeki meyvelerin sayısı kaçtır?

- A) 48 B) 52 C) 54 D) 56 E) 58

47. Futbol ve basketbol kursu verilen bir spor okuluna 60 öğrenci kayıtlıdır. Futbol kursuna katılanların sayısı, basketbol kursuna katılanların sayısının iki katıdır.

Hem basketbol hem de futbol kursuna katılanların sayısı 6 olduğuna göre, sadece futbola kayıtlı kaç öğrenci vardır?

- A) 28 B) 30 C) 32 D) 36 E) 38

48. A kentinden B kentine gitmek için aynı anda hareket eden iki araçtan birincisi saatte 60 km, diğeri 90 km yol alıyor.

İkinci araç B kentine birinciden 4 saat erken vardığına göre, A ile B arası kaç km dir?

- A) 540 B) 600 C) 630 D) 660 E) 720

49. İki koğuşta toplam 30 asker bulunmaktadır. 1. koğuştan 2. koğuşa 3 asker geçerse koğuşlardaki asker sayıları eşit oluyor.

Buna göre, 1. koğuştaki asker sayısı kaçtır?

- A) 17 B) 18 C) 19 D) 20 E) 21

A

JOK Uzm. J. / 2008

50. $\frac{1}{5}$ i dolu olan bir yakıt deposuna 60 litre yakıt eklendiğinde deponun yarısı doluyor.

Buna göre, deponun tamamı kaç litre yakıt alır?

- A) 200 B) 210 C) 240 D) 270 E) 300

52. Bir mağazada tişörtler, etiket fiyatı üzerinden % 10 indirimli satılmaktadır.

Tişörtlerin mağazaya maliyeti etiket fiyatının % 40 eksik olduğuna göre, bu satıştan yüzde kaç kâr elde edilmektedir?

- A) 30 B) 36 C) 40 D) 44 E) 50

51. Bir malın % 8 KDV dahil satış fiyatı 13,5 YTL dir.

Bu malın KDV siz fiyatı kaç YTL dir?

- A) 10,5 B) 11 C) 12 D) 12,5 E) 13

53. İki tanktan birincisinin hedefi vurma olasılığı $\frac{3}{4}$, ikincisinin ise $\frac{4}{5}$ tir.

Bu iki tank aynı hedefe atış yaptığında hedefin vurulma olasılığı kaçtır?

- A) $\frac{9}{10}$ B) $\frac{13}{15}$ C) $\frac{14}{15}$
D) $\frac{19}{20}$ E) $\frac{24}{25}$

Diğer sayfaya geçiniz.

54. Dikdörtgen şeklindeki bir bahçenin kısa kenarının uzun kenarına oranı $\frac{2}{5}$ tir.

Bu bahçenin çevresi 70 m olduğuna göre, alanı kaç m^2 dir?

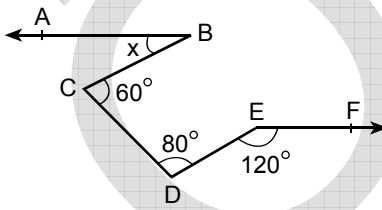
- A) 250 B) 280 C) 300 D) 350 E) 420

56. Düzgün bir beşgenle düzgün bir altıgenin çevre uzunlukları eşittir.

Düzgün altıgenin bir kenar uzunluğu 25 cm olduğuna göre, düzgün beşgenin bir kenar uzunluğu kaç cm dir?

- A) 27 B) 28 C) 29 D) 30 E) 31

55.

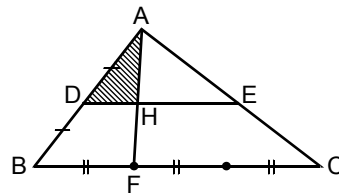


- AB // EF
 $m(\widehat{BCD}) = 60^\circ$
 $m(\widehat{CDE}) = 80^\circ$
 $m(\widehat{DEF}) = 120^\circ$
 $m(\widehat{ABC}) = x$

Yukarıdaki verilere göre, x kaç derecedir?

- A) 15 B) 20 C) 25 D) 30 E) 40

57.



ABC bir üçgen

DE // BC

$|AD| = |DB|$

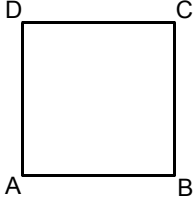
$|FC| = 2|BF|$

Şekildeki ADH taralı üçgeninin alanı 4 cm^2 olduğuna göre, ABC üçgeninin alanı kaç cm^2 dir?

- A) 36 B) 42 C) 48 D) 54 E) 60

Diğer sayfaya geçiniz.

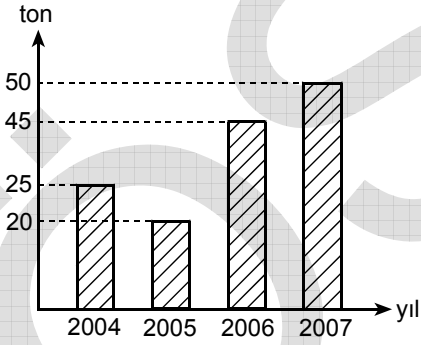
58.



Şekildeki ABCD karesinin BC kenarı etrafında 360° döndürülmesiyle hangi cisim elde edilir?

- A) Küp
B) Küre
C) Koni
D) Silindir
E) Dikdörtgenler Prizması

59.



Yukarıdaki sütun grafiğinde, 2004-2007 yılları arasında bir balık çiftliğinde üretilen balık miktarları gösterilmiştir.

Bu çiftlikte dört yılda ortalama kaç ton balık üretilmiştir?

- A) 30
B) 32
C) 35
D) 38
E) 40

60.

$$y = 2x - 1$$

$$y = x + 2$$

doğrularının kesişim noktası (a,b) olduğuna göre, $a + b$ toplamı kaçtır?

- A) 8
B) 7
C) 6
D) 5
E) 4

GENEL YETENEK TESTİ BİTTİ.
GENEL KÜLTÜR TESTİNE GEÇİNİZ.